

Таблица умножения и деления с числом 9

3 класс



Продолжите ряд чисел:

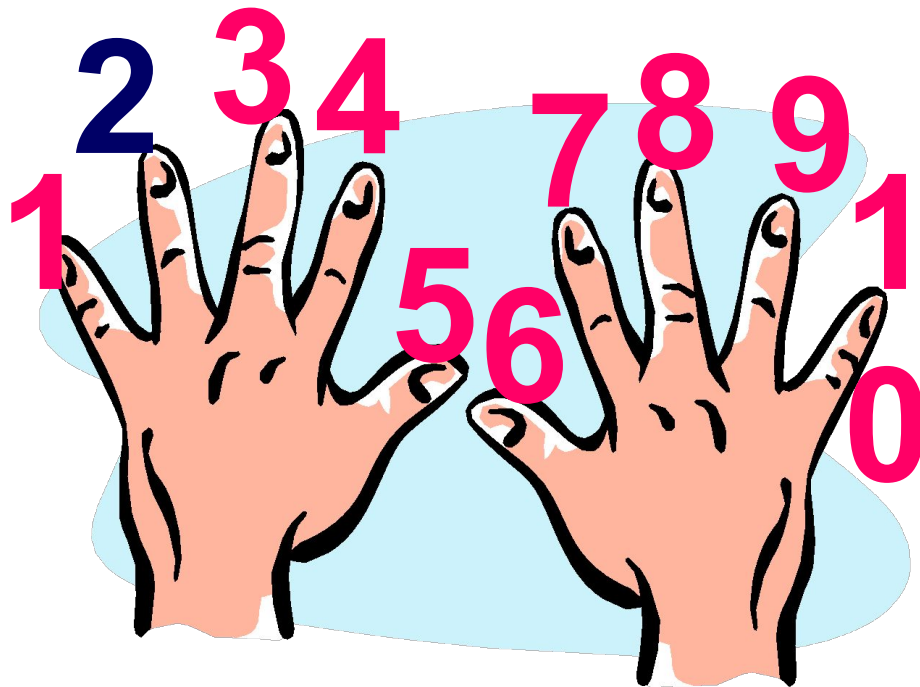
- 10, 12, 14, ... 16, 18, 20
- 5, 15, 25, ... 35, 45, 55
- 18, 27, 36, ... 45, 54, 63



$$a \times 0 = 0$$

$$a \times 1 = a$$





acer

8, 9, 72

$$8 \cdot 9 = 72 \quad 72 : 8 = 9$$

$$9 \cdot 8 = 72 \quad 72 : 9 = 8$$



Задача 2.

Девочка – 27 м.

Мальчик – 18 м.

по 9 м.





Сколько клеток потребовалось?

1) $27+18=45$ (м.) – всего

2) $45:9=5$ (к.) – потребовалось

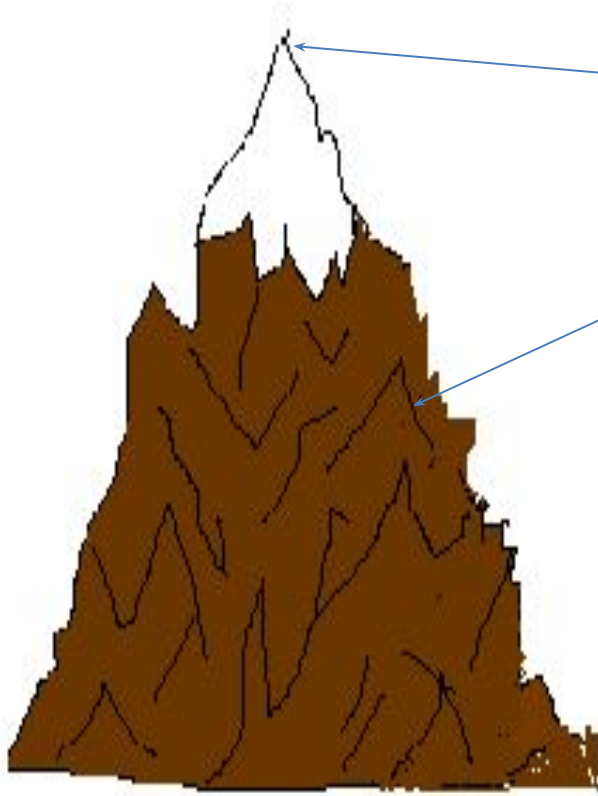
Ответ: потребовалось 5 клеток.





acer

«Гора успеха»



Вершина, если всё поняли и можете объяснить другому.

Середина, если вы всё поняли, но затрудняетесь объяснить другому.

Основание, если пока трудно решать задачи, примеры.

