

Прочитайте!


Таблица умножения
Достойна уважения.

Ее должны мы твердо знать,
Чтобы быстро вычислять.

Нам знания надо закрепить,
И таблицу повторить.

МАТЕМАТИЧЕСКИЙ ДИКТАНТ

1. Найди произведение 3 и 10.
2. Число 2 увеличить на 5.
3. Делимое 15, делитель 5
найдите значение частного.
4. Найдите произведение
чисел 3 и 8.
5. Найдите произведение
чисел 4 и 8.



**Путешествие
в сказочную страну
«Табличное
умножение и деление»**



Волшебное царство,
Математическое государство



3	5	6	7	9									
1		2	4		1	3							





Фея

Умножение



Фея

Деление



$2*7$

$5*3$

$3*8$

$3*7$

$2*7$

$9*3$

$18:3$

$30:3$


$18:2$

$20:2$

$24:3$

$40:10$

Во сколько раз кукол больше, чем мягких игрушек?






Замок Задач



Помогите!



18 литров воды разлили поровну в 3 ведра.

Сколько литров воды налили в каждое ведро?

Учительница раздала ученикам 18 тетрадей, поровну 2 ученикам.

Сколько тетрадей получил каждый ученик?

Проверь решение:

- $18 \text{ л.} : 3 = 6(\text{л.})$

Ответ: по 6 литров
налили в каждое
ведро.

- $18 \text{ т.} : 2 \text{ у.} = 9(\text{т.})$


Ответ: по 9 тетрадей
получил каждый
ученик.



Спасибо!



Море Примеров



15:3



24:3



6-3



Математическая поляна





$$50 - 3 \times 8$$

$$2 \cdot 6 > \square \cdot 5$$

$$8 : 4 < 2 \cdot \square$$

$$2 \cdot 9 : 3 > \square$$



СПАСИБО!



Что получили за урок?

10 и более жетонов	8-9 жетонов	5-7 жетонов
5	4	3