



5



7



3



• $19 - 0 > 19 \times 0$

• $12 \times 2 = 2 \times 12$

• $7 \times 7 > 7 : 7$

• $3 : 3 < 3 \times 3$

• $5 : 5 > 0 \times 5$

• $1 \text{ ч } 15 \text{ мин} < 115 \text{ мин}$

• $6 \text{ м } 4 \text{ дм} > 6 \text{ дм } 4 \text{ см}$

• $1 \text{ дм} > 70 \text{ мм}$



5



7



3



$$15 - 3$$

$$15 + 3$$

$$15 \times 3$$

$$15 : 3$$

$$9 - 3$$

$$9 + 3$$



5



7



3



$$16 - 2$$

$$16 + 2$$

$$16 \times 2$$

$$16 : 2$$

$$7 - 2$$

$$7 + 2$$

Найди ошибку

$$2 \times 6 = 12$$

$$15 : 3 = 5$$

$$6 \times 3 = 18$$

$$9 : 3 = 3$$

$$7 \times 2 = 14$$

$$6 : 3 = 2$$

$$3 \times 8 = 21$$

24



5



7



3





5



7



3



Вырази

$$45 \text{ см} = \mathbf{4} \text{ дм } \mathbf{5} \text{ см}$$

$$87 \text{ мм} = \mathbf{8} \text{ см } \mathbf{7} \text{ мм}$$

$$2 \text{ м } 4 \text{ дм} = \mathbf{24} \text{ дм}$$

$$1 \text{ ч } 15 \text{ мин.} = \mathbf{75} \text{ мин.}$$

$$65 \text{ мм} = \mathbf{6} \text{ см } \mathbf{5} \text{ мм}$$

$$89 \text{ дм} = \mathbf{8} \text{ м } \mathbf{9} \text{ дм}$$

$$3 \text{ дм } 7 \text{ см} = \mathbf{37} \text{ см}$$

$$1 \text{ ч } 21 \text{ мин.} = \mathbf{81} \text{ мин.}$$



5



7



3



цена	количество	стоимость
5	4	$5 \times 4 = 20$
?	3	18
7	2	?
3	?	$7 \times 2 = 14$

$$18 : 3 = 6$$

$$24 : 3 = 8$$



5



7



3



$$92 - 44 > 92 - 48$$

$$54 + 46 = 44 + 56$$

$$2 \text{ м } 7 \text{ см} > 27 \text{ см}$$

$$2 \text{ дм } 2 \text{ см} < 23 \text{ см}$$

$$2 \text{ дм} > 100 \text{ мм}$$

$$107 \text{ мин} > 1 \text{ ч } 7 \text{ мин}$$

$$1 \text{ руб.} > 90 \text{ коп.}$$



5



7



3




Было — 56 56

Взяли — 34 34

Осталось - ? 22 22

47

14

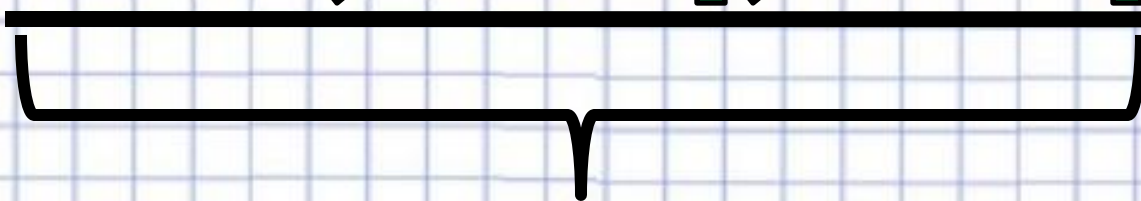


?

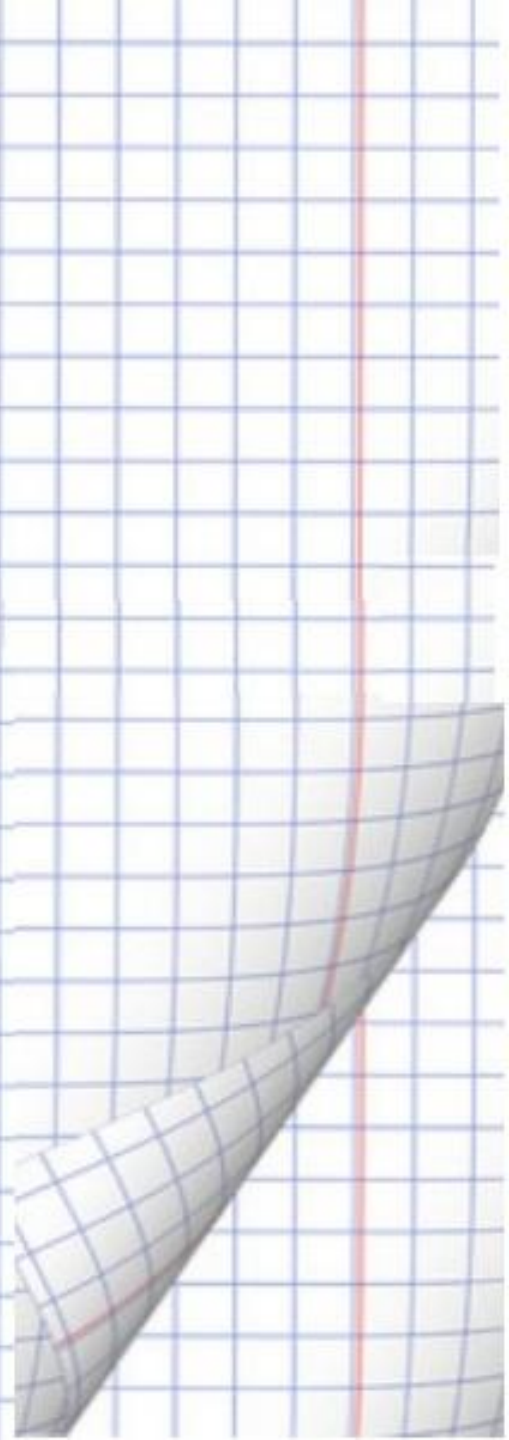
?

47

14



100



1. Сколько игрушек сделали мальчики?

2. Сколько игрушек сделали дети?

- Девочки сделали 14 игрушек, а мальчики 6 . Сколько игрушек сделали дети?
- Девочки сделали 14 игрушек, а мальчики 6 . На сколько игрушек мальчики сделали меньше, чем девочек?
- Девочки сделали 14 игрушек, а мальчики на 6 игрушек больше . Сколько игрушек сделали дети?

Папа нашёл 11 маслят, а лисичек на 4 меньше. Сколько грибов нашёл папа?

1. Сколько лисичек нашёл папа?
2. Сколько грибов нашёл папа?