

Математика

27 апреля.



Классная работа.

Тема.

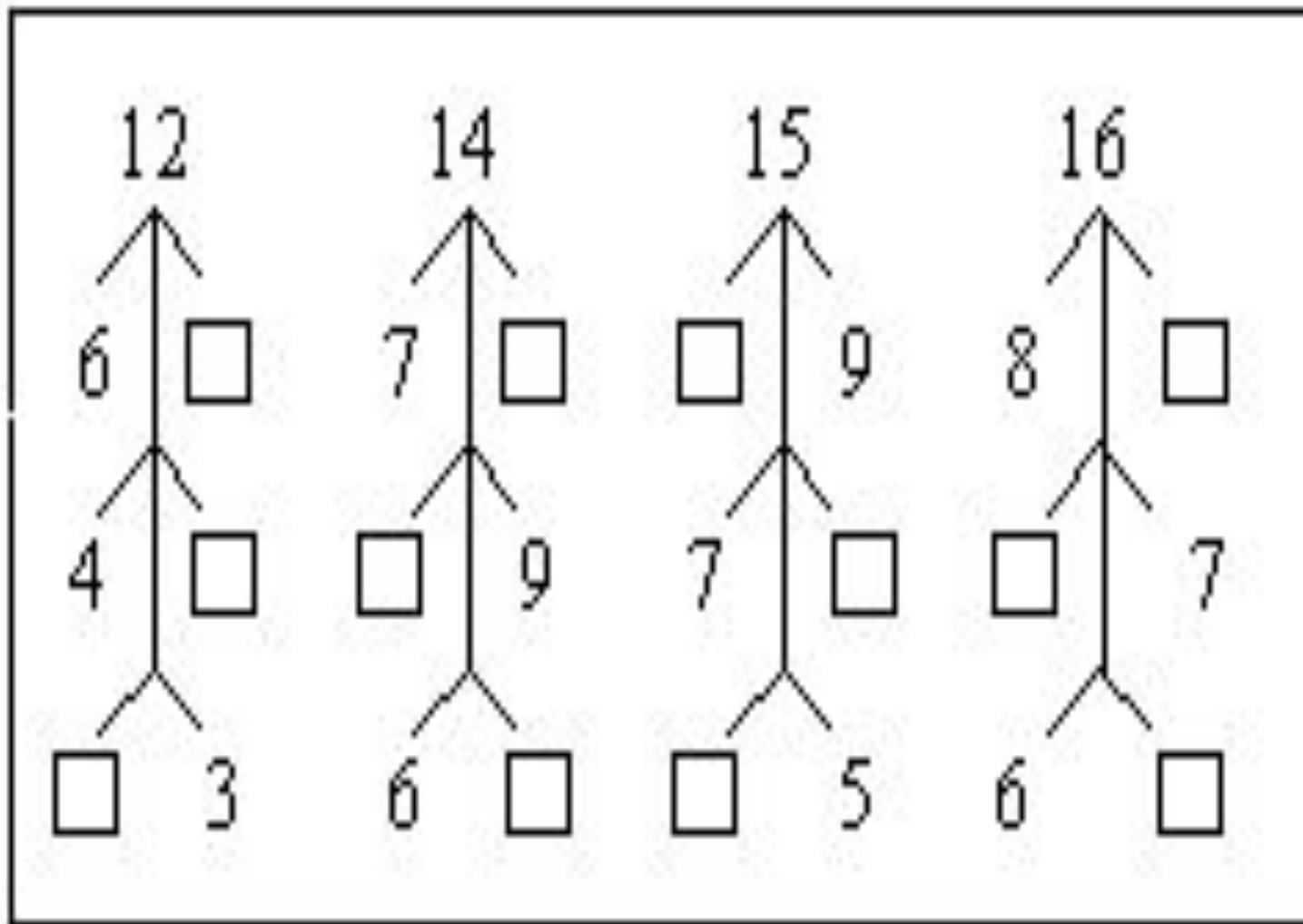
Табличное вычитание.

Цели урока


ознакомить с двумя приёмами вычитания;
решать простые и составные задачи.



Устный счёт



Выпиши номера тех фигур, из которых можно сложить такой пароход.



1, 4, 5, 6, 9, 11, 13

2. Выполни вычисления:

$$13 - 5 = 8 \quad 15 - 8 = 7$$

$$18 - 9 = 9 \quad 17 - 9 = 8$$

$$14 - 7 = 7 \quad 15 - 6 = 9$$

$$11 - 4 = 7 \quad 16 - 7 = 9$$

4.

Катера – 2 ш.

Лодка – 6 ш.

На ?

$6 - 2 = 4(\text{л.})$ - разница

Ответ: на 4 лодки.

5.

Саша – 5 п.



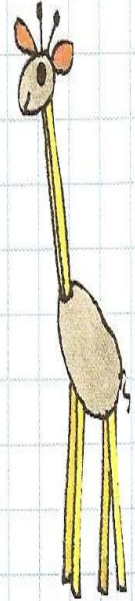
Дима - ?, на 2 м.

1) $5 - 2 = 3$ (п.) - Дима

2) $5 + 3 = 8$ (п.) - всего

Ответ: 8 поделок.

?



Домашнее задание

С. 73 № 3, № 6

тетрадь на ПО с. 31



Итог урока

- Что учились выполнять на уроке?
- Что закрепили ?

