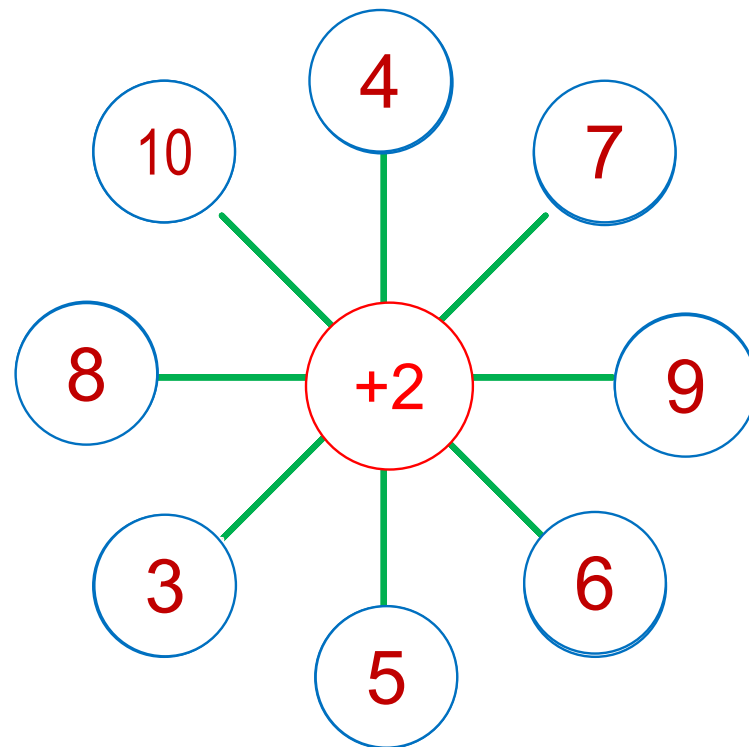
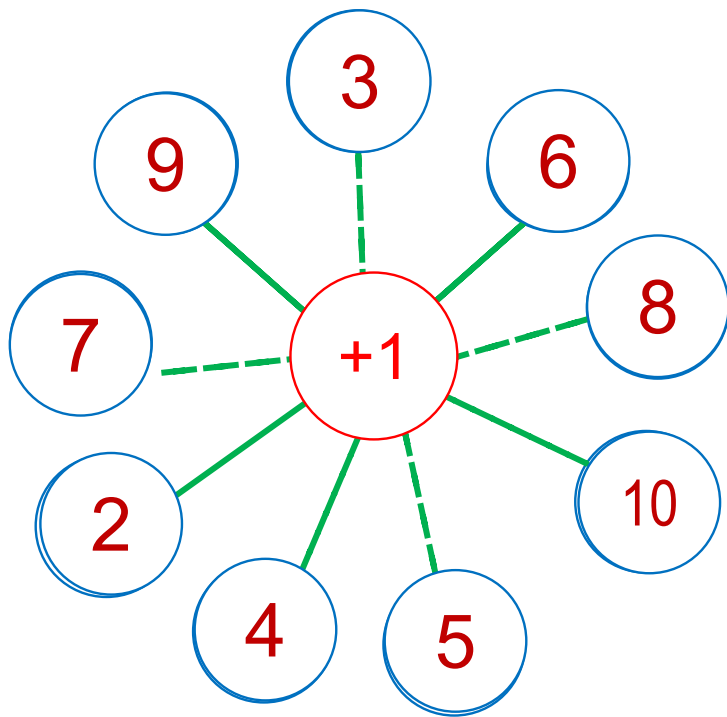




1. Постарайтесь быстро назвать результаты действий.



2. Каким будет результат, если:

Уменьшаемое	7	10	5	4	6	8	3
Вычитаемое	3	3	3	3	3	3	3
Разность							

0 1 2 3 4 5 6 7 8 9 10

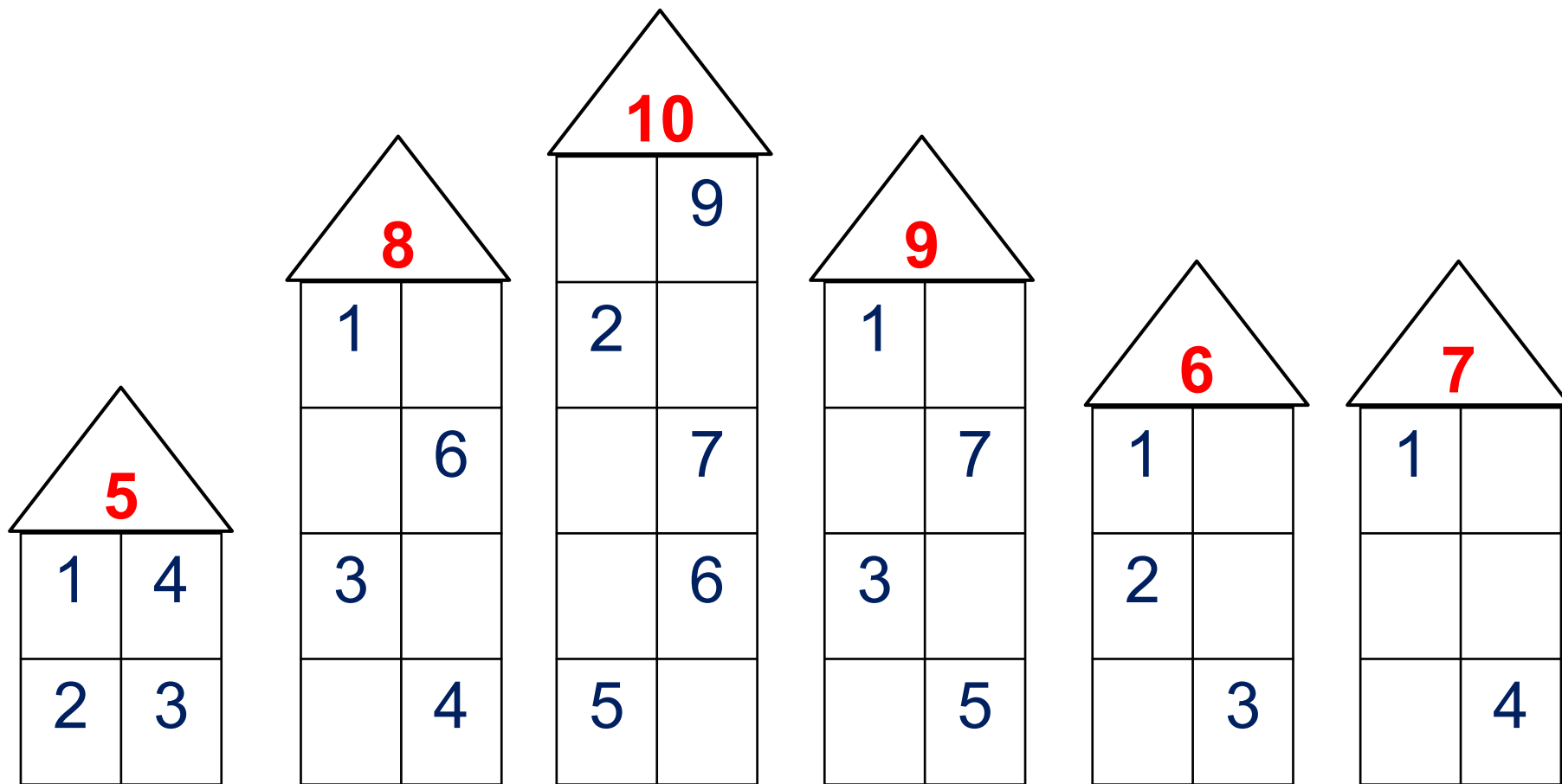
2. Каким будет результат, если:

Слагаемое	1	2	3	4	5	6	
Слагаемое	4	4	4	4	4	4	
Сумма							

0 1 2 3 4 5 6 7 8 9 10

# Урок 52. Таблица сложения

3. Какие числа не записала Катя?



# Урок 52. Таблица сложения

4. Таблица поможет тебе при проверке вычислений.  
Объясни Вове, как искать числа в клеточках таблицы.

<b>+</b>	<b>1</b>	<b>2</b>	<b>3</b>	<b>4</b>	<b>5</b>	<b>6</b>	<b>7</b>	<b>8</b>	<b>9</b>
<b>1</b>	2	3	4	5	6	7	8	9	10
<b>2</b>	3	4	5	6	7	8	9	10	
<b>3</b>	4	5	6	7	8	9	10		
<b>4</b>	5	6	7	8	9	10			
<b>5</b>	6	7	8	9	10				
<b>6</b>	7	8	9	10					
<b>7</b>	8	9	10						
<b>8</b>	9	10							
<b>9</b>	10								

$1 + 2 = 3$

$4 + 6 = 10$

$6 + 3 = 9$

# Урок 52. Таблица сложения

4. Запиши равенства, которые можно составить из чисел, соединённых стрелкой

+	1	2	3	4	5	6	7	8	9
1									
2									
3									
4									
5									
6									
7									
8									
9									

$$2 + 4 = 6$$

$$5 + 5 = 10$$

# Урок 52. Таблица сложения

5. Помоги Лене найти значения выражений с помощью таблицы.

+	1	2	3	4	5	6	7	8	9
1	2	3	4	5	6	7	8	9	10
2	3	4	5	6	7	8	9	10	
3	4	5	6	7	8	9	10		
4	5	6	7	8	9	10			
5	6	7	8	9	10				
6	7	8	9	10					
7	8	9	10						
8	9	10							
9	10								

$6 + 4 =$

$10 - 6 =$

$10 - 4 =$

$7 + 2 =$

$9 - 2 =$

$9 - 7 =$



# Урок 52. Таблица сложения

5. Помоги Лене найти значения выражений с помощью таблицы.

+	1	2	3	4	5	6	7	8	9
1	2	3	4	5	6	7	8	9	10
2	3	4	5	6	7	8	9	10	
3	4	5	6	7	8	9	10		
4	5	6	7	8	9	10			
5	6	7	8	9	10				
6	7	8	9	10					
7	8	9	10						
8	9	10							
9	10								

$6 + 4 = 10$

$10 - 6 =$

$10 - 4 =$

$7 + 2 =$

$9 - 2 =$

$9 - 7 =$

# Урок 52. Таблица сложения

5. Помоги Лене найти значения выражений с помощью таблицы.

+	1	2	3	4	5	6	7	8	9
1	2	3	4	5	6	7	8	9	10
2	3	4	5	6	7	8	9	10	
3	4	5	6	7	8	9	10		
4	5	6	7	8	9	10			
5	6	7	8	9	10				
6	7	8	9	10					
7	8	9	10						
8	9	10							
9	10								

$$6 + 4 = 10$$

$$10 - 6 = 4$$

$$10 - 4 =$$

$$7 + 2 =$$

$$9 - 2 =$$

$$9 - 7 =$$

# Урок 52. Таблица сложения

5. Помоги Лене найти значения выражений с помощью таблицы.

+	1	2	3	4	5	6	7	8	9
1	2	3	4	5	6	7	8	9	10
2	3	4	5	6	7	8	9	10	
3	4	5	6	7	8	9	10		
4	5	6	7	8	9	10			
5	6	7	8	9	10				
6	7	8	9	10					
7	8	9	10						
8	9	10							
9	10								

$$6 + 4 = 10$$

$$10 - 6 = 4$$

$$10 - 4 = 6$$

$$7 + 2 =$$

$$9 - 2 =$$

$$9 - 7 =$$

# Урок 52. Таблица сложения

5. Помоги Лене найти значения выражений с помощью таблицы.

+	1	2	3	4	5	6	7	8	9
1	2	3	4	5	6	7	8	9	10
2	3	4	5	6	7	8	9	10	
3	4	5	6	7	8	9	10		
4	5	6	7	8	9	10			
5	6	7	8	9	10				
6	7	8	9	10					
7	8	9	10						
8	9	10							
9	10								

$$6 + 4 = 10$$

$$10 - 6 = 4$$

$$10 - 4 = 6$$

$$7 + 2 =$$

$$9 - 2 =$$

$$9 - 7 =$$

**ПРОВЕРКА!**

## 7. Сравни ( $>$ , $<$ , $=$ )

$4 + 6 * 6 + 4$

$10 - 2 * 8 - 2$

$7 + 3 * 5 + 3$

$10 - 5 * 10 - 4$

$5 + 0 * 6 + 0$

$0 + 0 * 7 - 7$

· Назови свойство сложения, которое позволило тебе поставить знак равно.



## 7. Сравни ( $>$ , $<$ , $=$ )

$$4 + 6 = 6 + 4$$

$$10 - 2 * 8 - 2$$

$$7 + 3 > 5 + 3$$

$$10 - 5 * 10 - 4$$

$$5 + 0 < 6 + 0$$

$$0 + 0 * 7 - 7$$


· Назови свойство сложения, которое позволило тебе поставить знак равно.

$$> = <$$

**ПРОВЕРЬ!**


# Урок 52. Таблица сложения

8. Какие рассказы можно придумать по рисункам Кати и Пети? Запиши выражения. Задай вопрос и найди значение каждого выражения.



+ 3

Сколько стало?



- 4

Сколько осталось?

- 1
- 2
- 3
- 4
- 5
- 6
- 7
- 8
- 9