

МАТЕМАТИКА

1 КЛАСС

УЧИТЕЛЬ: *Федчишина Милана*

Вадимовна

МОУ СОШ № 31

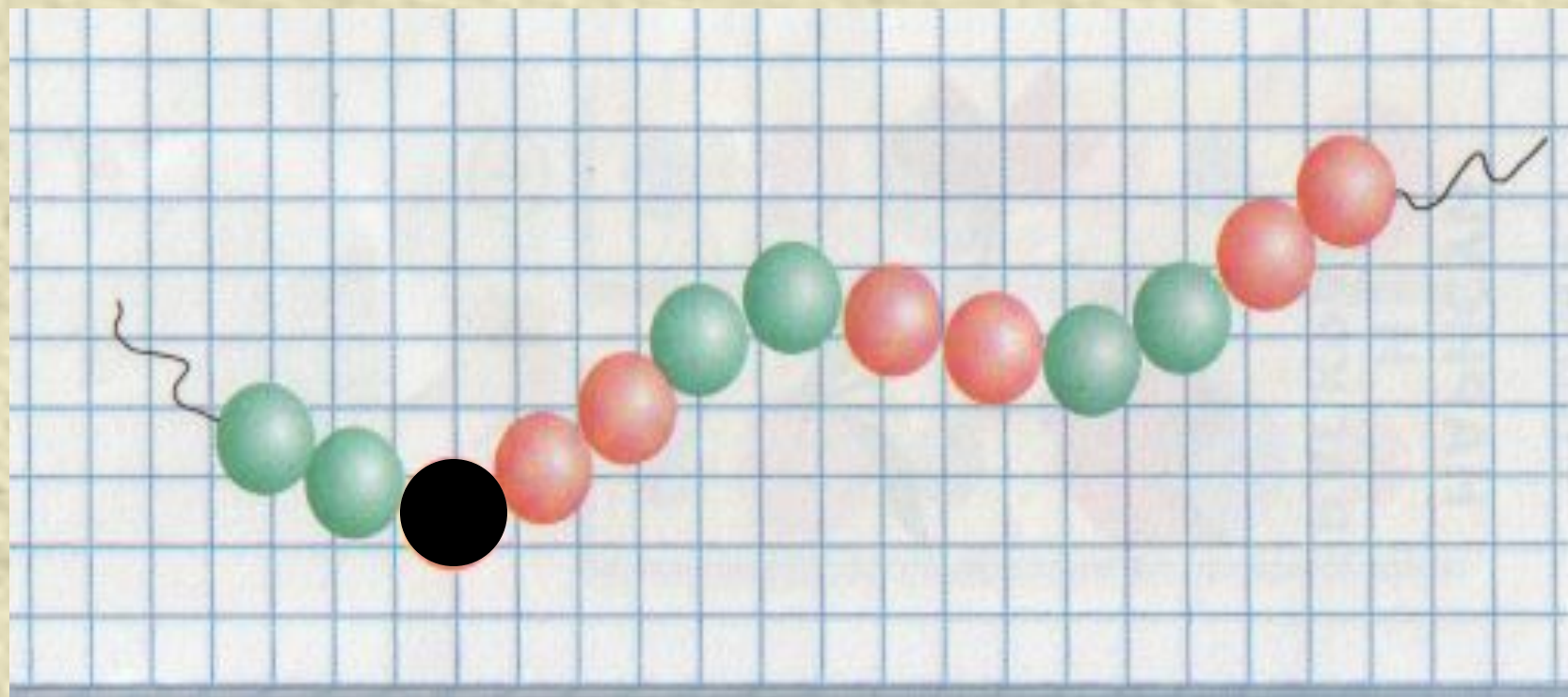

ТЕМА УРОКА:

-
- *Таблица сложения. Закрепление.*


• ЦЕЛЬ УРОКА:

- *1. Повторить состав числа, приемы сложения и вычитания, решать задачи изученных видов.*
- *2. Развивать вычислительные навыки.*
- *3. Воспитание чувства коллективизма, умения работать вместе.*

НАЙДИ ЛИШНЮЮ БУСИНКУ



1. СЧИТАЕМ УСТНО



$6+3$

$9-4$

$10-3$

$3+5-3$

$9-3$

$4+5$

$10-4$

$8-3+4$

2. ЛОГИЧЕСКИЕ ЗАДАЧИ

- Люба пришла домой раньше Нади, а Надя – раньше, чем Саша?
- Кто из них пришел раньше?
- Шнурок уже тесемки, тесемка уже ленты .
- Что уже всего?



Саша

*Шнуро
к*



3. СОСТАВ ЧИСЛА

4	
3	1
2	2

6	
4	1
3	3
1	5

8	
6	2
3	5
7	1
4	4

5	
3	2
4	1

7	
2	5
3	4
3	4

9	
8	1
3	6
4	5
2	7

4. ЗАДАЧИ НА СМЕКАЛКУ

- **Масса петуха, стоящего на двух ногах, 4 кг. Какова масса петуха, если он встанет на одну ногу?**
- **Масса дрессированной собачки, когда она стоит на задних лапках, 3 кг. Какова её масса на четырех лапах?**




5. РЕШЕНИЕ ПРИМЕРОВ

- Учебник математики

с. 17 №4

2 столбик


3 столбик



6. ПРОДОЛЖИ РЯД

• 5 3 6 4 7

• 8 5 7 4 6




7. НАЙДИ «ЛИШНЕЕ»

- Понедельник
- Февраль
- Суббота
- Зима
- Осень
- Январь




8. ЗАДАЧКИНО ПОЛЕ

- Учебник математики
- с. 17 №3
- Дополнительное задание. Составить 2 задачи, сравнить квадраты по цвету, по размеру.



9. ФИГУРКИНО ПОЛЕ

- У треугольника
отрезали один угол?
Сколько углов
стало?



- У квадрата
отрезали один угол.
Сколько углов
стало?



ИТОГ УРОКА



ДОМАШНЕЕ ЗАДАНИЕ

— — — — —