



Математика

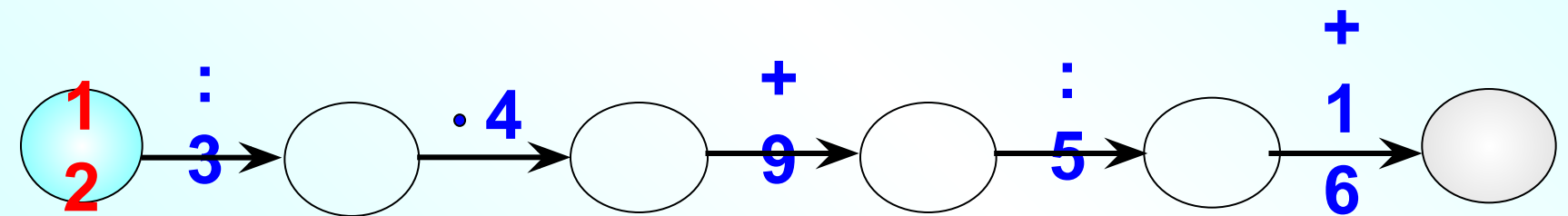
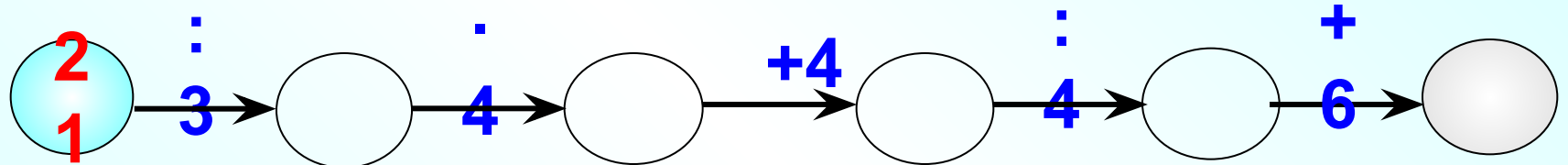
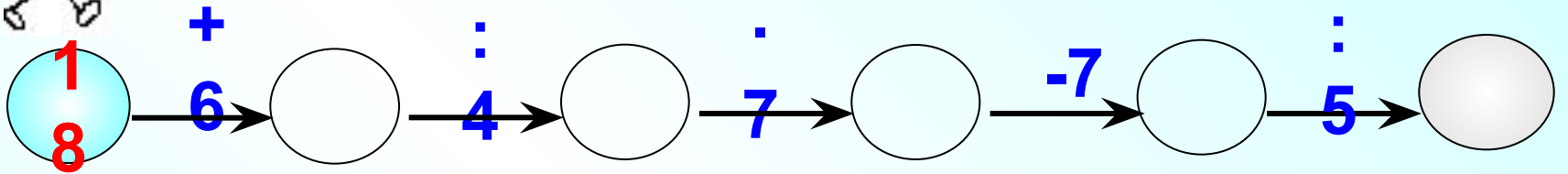
3 класс

Игра «Концовки»

1. Если красный карандаш в 4 раза короче синего, то синий карандаш...
2. Если стол в 2 раза выше табуретки, то табуретка...
3. Если Витя прочитал на 15 страниц меньше, чем Коля, то
4. Если мама собрала на 10 грибов больше, чем папа, то ...
5. Если брат старше сестры на 7 лет, то...



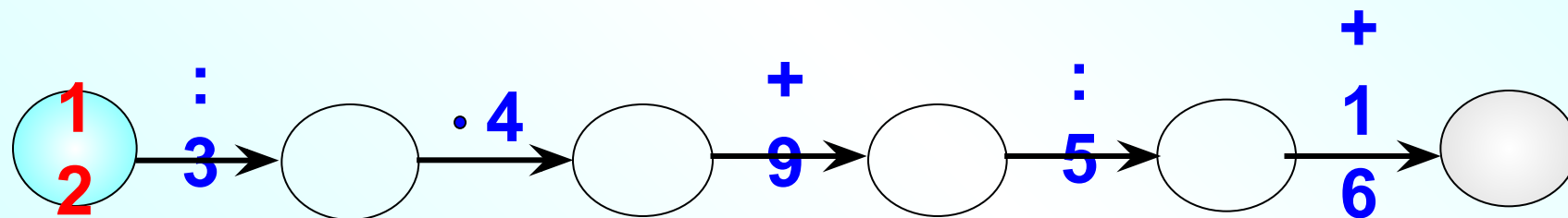
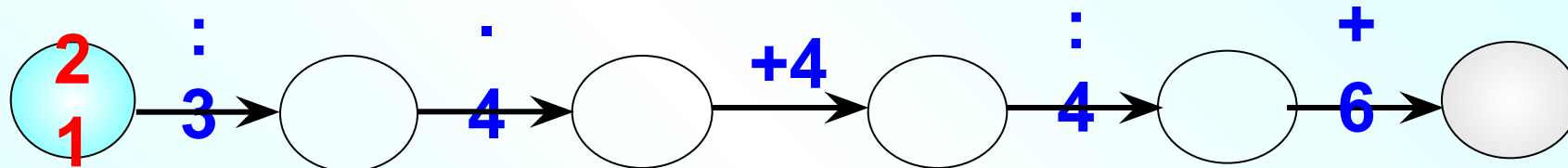
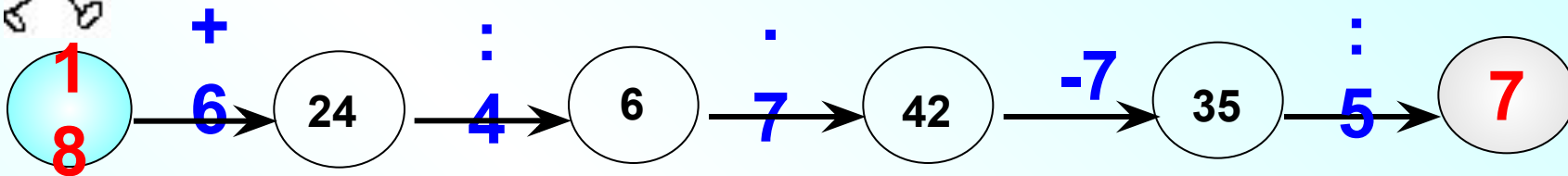
Восстановите цепочки вычислений.



 Устный счёт



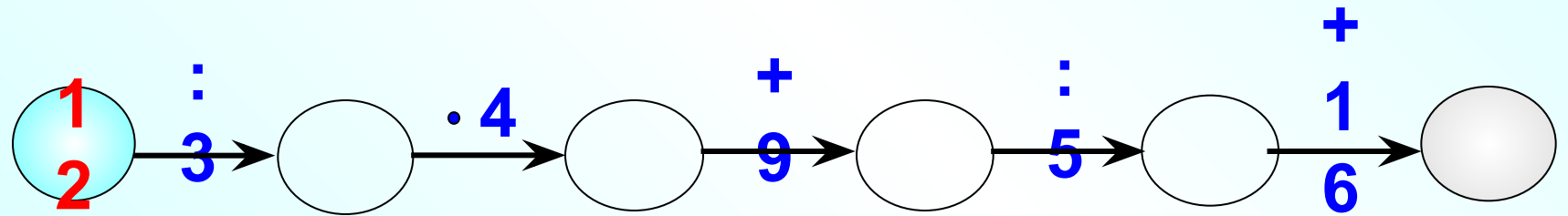
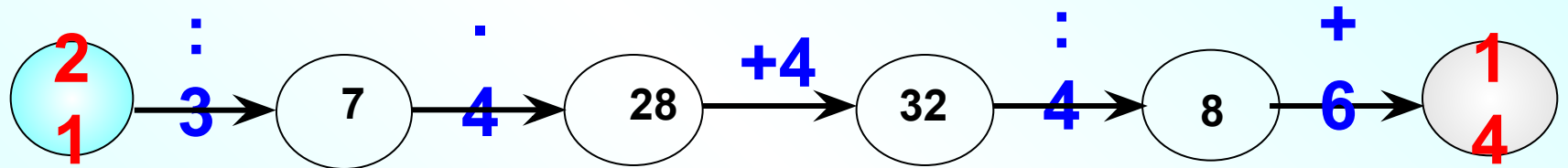
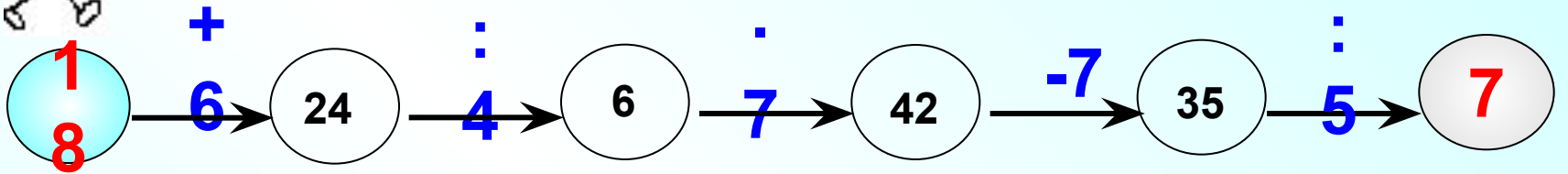
Восстановите цепочки вычислений.



 Устный счёт



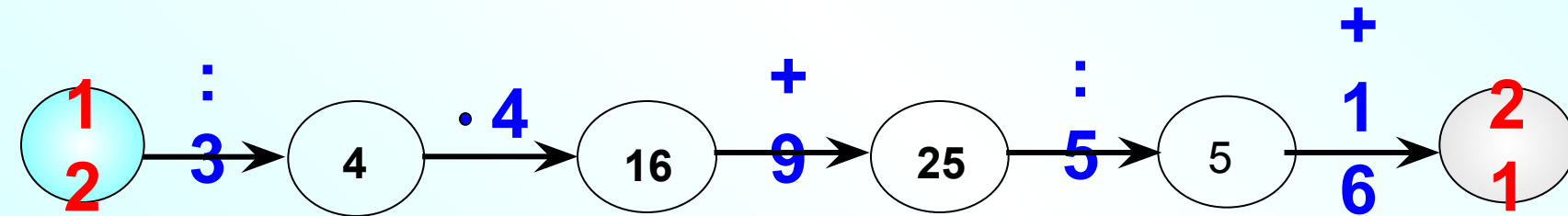
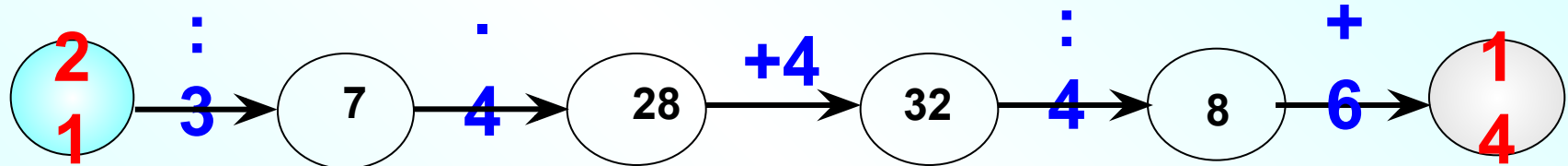
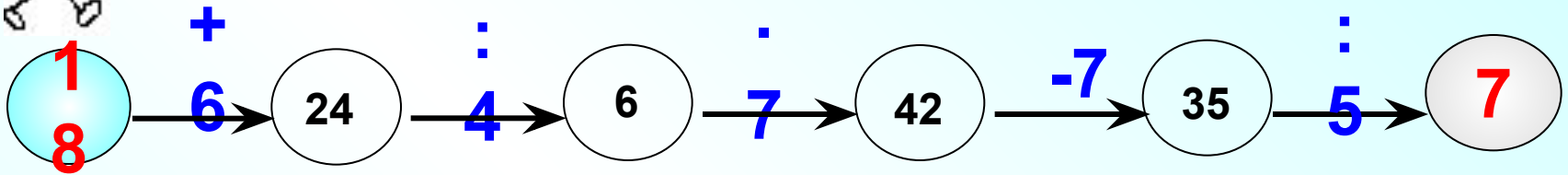
Восстановите цепочки вычислений.



 Устный счёт



Восстановите цепочки вычислений.



 Устный счёт

Математическая разминка

Уменьшите 35 на 7

28

Увеличьте 5 в 7 раз

35

Длина прямоугольника 7см, а ширина 6см. Чему равна площадь?

42

Найдите произведение 7 и 7

49

Из 76 вычти 2 десятка

56

Догадайся!

7, 14, 21, 28, 35, 42, 49, 56, 

7, 14, 21, 28, 35, 42, 49, 56, 63

Проверь

себя



Выполните вычисления

$2 \cdot 8 =$

$4 \cdot 8 =$

$6 \cdot 8 =$

$3 \cdot 8 =$

$5 \cdot 8 =$

$7 \cdot 8 =$



Формулировка темы урока

$$2 \cdot 8 = 16$$


$$3 \cdot 8 = 24$$

$$4 \cdot 8 = 32$$

$$5 \cdot 8 = 40$$

$$6 \cdot 8 = 48$$

$$7 \cdot 8 = 56$$

$$8 \cdot 8 =$$


Работа по учебнику



Стр. 62

Решим задачу

Число рыб в 1 аквариуме	Количество аквариумов	Число рыб во всех аквариумах
<p>$?_1$</p> <p>Одинаковое</p>	<p>6ак.</p>	<p>54р.</p>
	<p>?</p>	<p>27р.</p>

Реши уравнения

$$x - 27 = 54$$

$$100 - x = 63$$

$$x + 18 = 67$$



Реши уравнения

$$100-x=63$$

$$x+18=67$$

Составь уравнение

1 множитель - ?

2 множитель = произведению 4 и 2

Произведение = числу из ТУ с числом 8,
в котором количество десятков на 1
меньше, чем количество единиц

Работа в парах

$$4 \cdot 8 - 3 \cdot 8 \dots 1 \cdot 8$$

$$8 \cdot 3 + 3 \cdot 8 \dots 8 \cdot 6$$

$$8 \cdot 6 + 8 \dots 8 \cdot 7$$



Оцени свою работу

Мне понравилось...

У меня получилось...

Мне было трудно...

