

Урок математики

2 класс

Учитель высшей категории

МБОУ НОШ № 95

город Челябинск

Черничкина Галина Валентиновна



Встало солнышко давно,

Заглянуло к нам в окно.

Нас оно торопит в класс,

Математика у нас!

Устный счет

6×8



5×5

4×9

9×5



8×4



8×9



2×7



3×6


АСТРОЛОГ



АСТРОЛОГИЯ

Тема урока:
**Табличное
умножение.
Решение задач.**



An illustration of the Little Prince from the book 'The Little Prince' by Antoine de Saint-Exupéry. He is standing on a small, grey, rocky planet. He has short, spiky blonde hair and is wearing a light green short-sleeved shirt with a red bow tie and light green trousers. He is looking towards the left of the frame. In the background, there is a large yellow sun in the upper left and several yellow stars of various shapes scattered across a pale yellow sky. The planet has a few small, brown, star-shaped plants growing on it. The entire scene is framed by a thick blue border with a purple inner line.

Звёзды принадлежат всем людям. Но каждый смотрит на них по-своему. Страннику звёзды укажут путь. Для других они – всего лишь крошечные огоньки на небе. Для третьих, учёных, звёзды – это задачки, которые надо решить.

- На ночном небе появилась туча и закрыла 30 звёзд. Сколько звёзд видно на небе?
- В созвездии Лебедя 7 звёзд. А в созвездии Большой Медведицы в 3 раза больше. Сколько звёзд в созвездии Большой Медведицы?
- В созвездии Жирафа - 9 звёзд, в созвездии Дракона – 13 звёзд.

ЗАДАЧА

В созвездии Лебедя 7 звёзд. А в созвездии Большой Медведицы в 3 раза больше. Сколько звёзд в созвездии Большой Медведицы?





правила групповой работы

- *Уважай своего товарища.*
- *Умей выслушать каждого.*
- *Не согласен – предлагай.*




ЗАДАЧА

- Миша насчитал 6 созвездий, а Коля в 7 раз больше. Сколько всего созвездий насчитали мальчики?



Сосчитай созвездия:

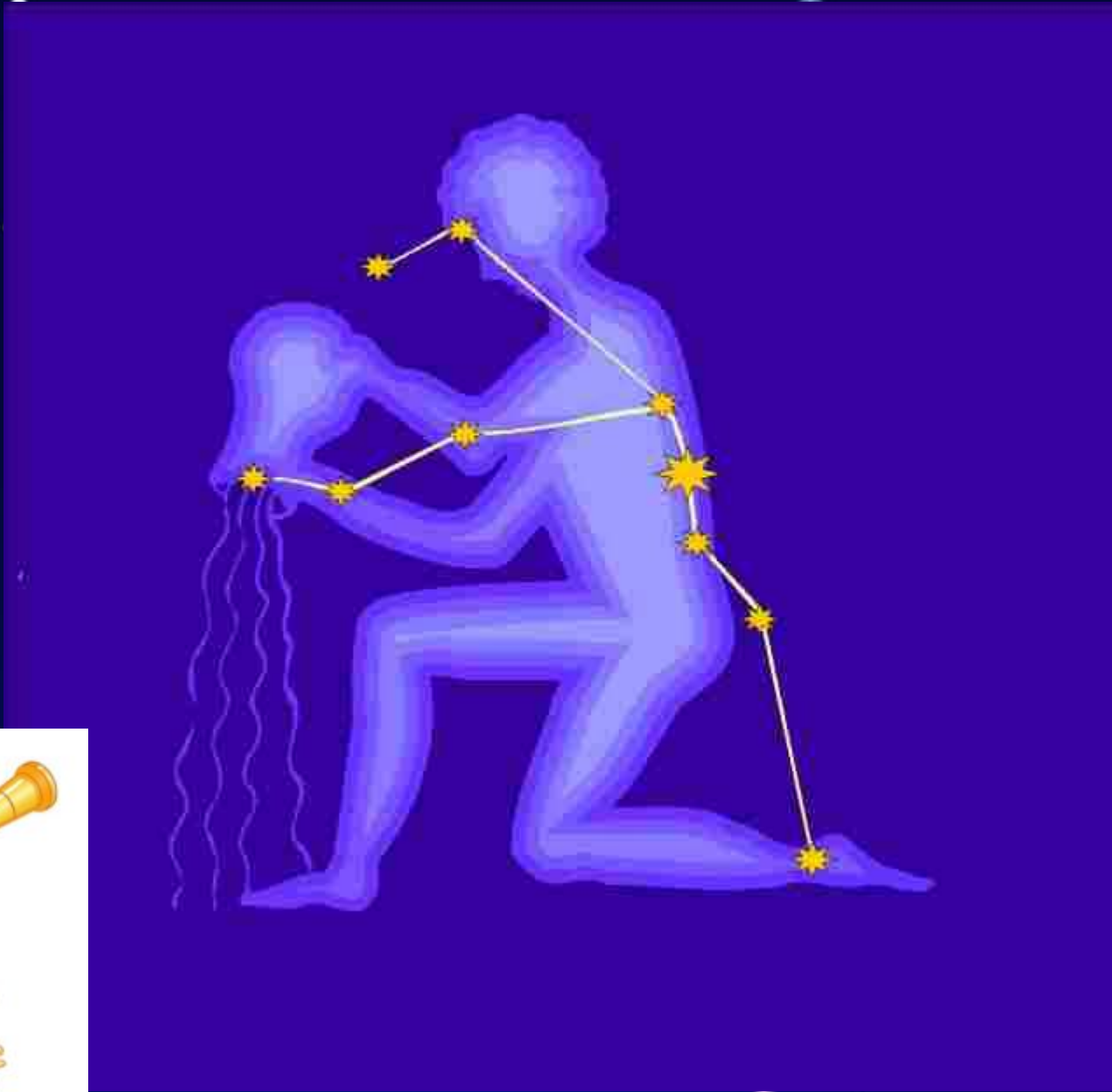
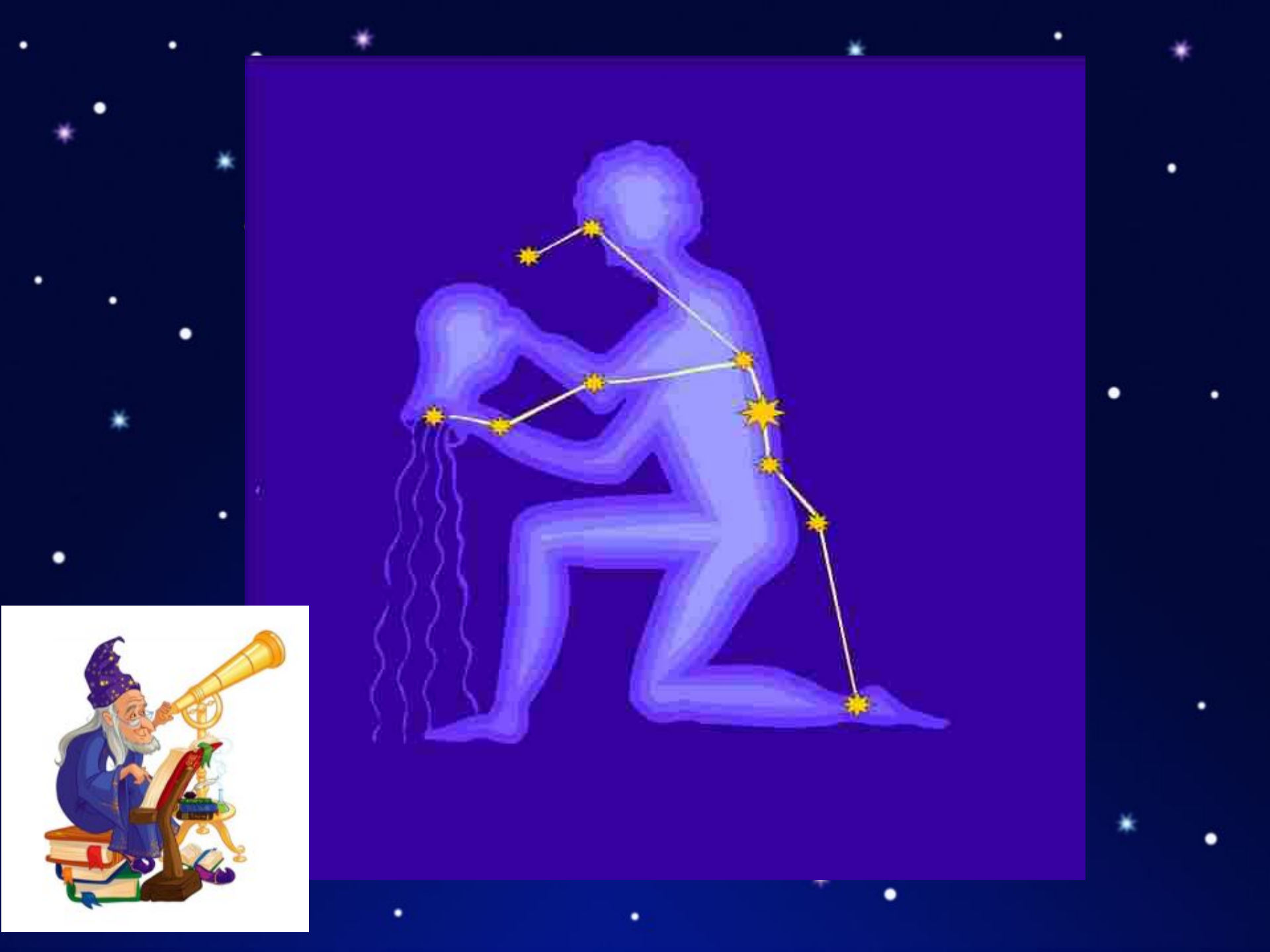


ЗАДАЧА

Космическая площадка имеет форму квадрата, длина стороны которой 7 метров. Вычислите периметр данной площадки.



$$P_{\square} = a \times 4$$



*Много вы задач решали
И таблицу повторяли.
Вы теперь умнее стали
И ничуть вы не устали.
Всем спасибо за урок.
Прозвенел уже звонок.*



Реши головоломку:

- сумма на каждой линии должна равняться 10;
- можно использовать только числа 1, 2, 3, 4, 5;
- каждое число можно использовать только один раз

