



Таблица
умножения и деления
числа 6.
Закрепление.

Урок-сказка
3 класс

Автор: Румянцева Лидия Юрьевна
учитель начальных классов ГБОУ № 14 Невского района

Проверка домашнего задания:

$$21 - x = 14$$

$$x = 21 - 14$$

$$x = 7$$

$$\text{Ответ: } x = 7$$

$$x + 9 = 63$$

$$x = 63 - 9$$

$$x = 54$$

$$\text{Ответ: } x = 54$$

$$10 + x = 100$$

$$x = 100 - 10$$

$$x = 90$$

$$\text{Ответ: } x = 90$$

Витя



Маша





Узнай, кого надо спасти!
Реши примеры и сложи буквы

$$20 : 4$$

6

А


8

1
0

4



Б Е Л О С Н Е Ж К А



$$54 - 14$$



$$3 \cdot 8$$

$$43 + 57$$

$$100 - 25$$

$$\begin{aligned} &= 73 \\ &= 40 \\ &= 20 \\ &= 24 \\ &= 100 \\ &= 75 \end{aligned}$$



36

7

18

2

9

6

3



54

48

30

56

24

12

42

8

4

36

7

18

2

9

6

3

$$36 : 6$$

6

54

48

30

56


24

12

42

8

4



36

7

18

2

9

3

$$6 \cdot 9$$

6

54

54

48

30

56


24

12

42

8

4



36

7

18

2

9

3

$$48 : 6$$

6

54

8

48

30

56


24

12

42

8

4



36

7

18

2

9

3

$6 \cdot 7$

42

8

6

34

48

30


56

12

42

4

24



36

7

18

2

9

3

$18 : 6$

3

42

6

54

8

48


30

56

12

4

24



36

7

18

2

9

12

3

$6 \cdot 2$

42

6

34

8

48


30

56

12

4

24



36

7

18

2

9

Спасибо!

12

3

42

8

6

54





24

48

30

56

4



Поможем Бруно и Яге

1 ряд

$$39 - 15 : 5 + 14 = 50$$

$$6 \cdot (12 - 4) = 48$$

2 ряд

$$56 - 8 + 4 \cdot 9 = 84$$

$$8 \cdot (25 - 20) = 40$$

3 ряд

$$30 - 16 : 2 + 12 = 34$$

$$10 : (11 - 9) = 5$$




Литр топлива для ступы
стоит 6 рублей. Сколько
денег надо уплатить ребятам
за 7 литров топлива?

Ответ: топливо стоит 42 рубля

Н	А	Ж	А	Т	Ь
Ж	Ё	Л	Т	У	Ю
К	Н	О	П	К	У







Буратино
потянулся.

Раз - нагнулся.

Два - прогнулся.

Руки в стороны
развёл.

Видно, ключик не
нашёл.

Улыбнулся - и
пошёл.

**РЕШИТЕ
ЗАДАЧУ!!!**





Задача

В старом мелье Кащея большое, но состоит оно всего из двух залов. Длина зала, в котором вы стоите, 56 м, а другой на 38 м длиннее. Узнайте длину второго зала.





Проверьте!

6

24

12

18

30

36

42

48

Спасибо,
ребята!



Источники:

- http://club.itdrom.com/gallery/gal_graf/pict2d/3631.html - Белоснежка
- www.zaitseva-irina.ru/archiv/snap/snap0011.jpg - Буратино
- <http://hahaha.com.ua/file/140.html> - Баба-Яга
- <http://www.starinism.ru/shop/index.php?productID=386&PHPSESSID=5770894сес28d454e748523f5fa7da10> — сундук
- http://www.dahr.ru/n_189.htm - Кощей
- <http://www.e-y.ru/~mihailikus/skaz.htm> - МОСТИК