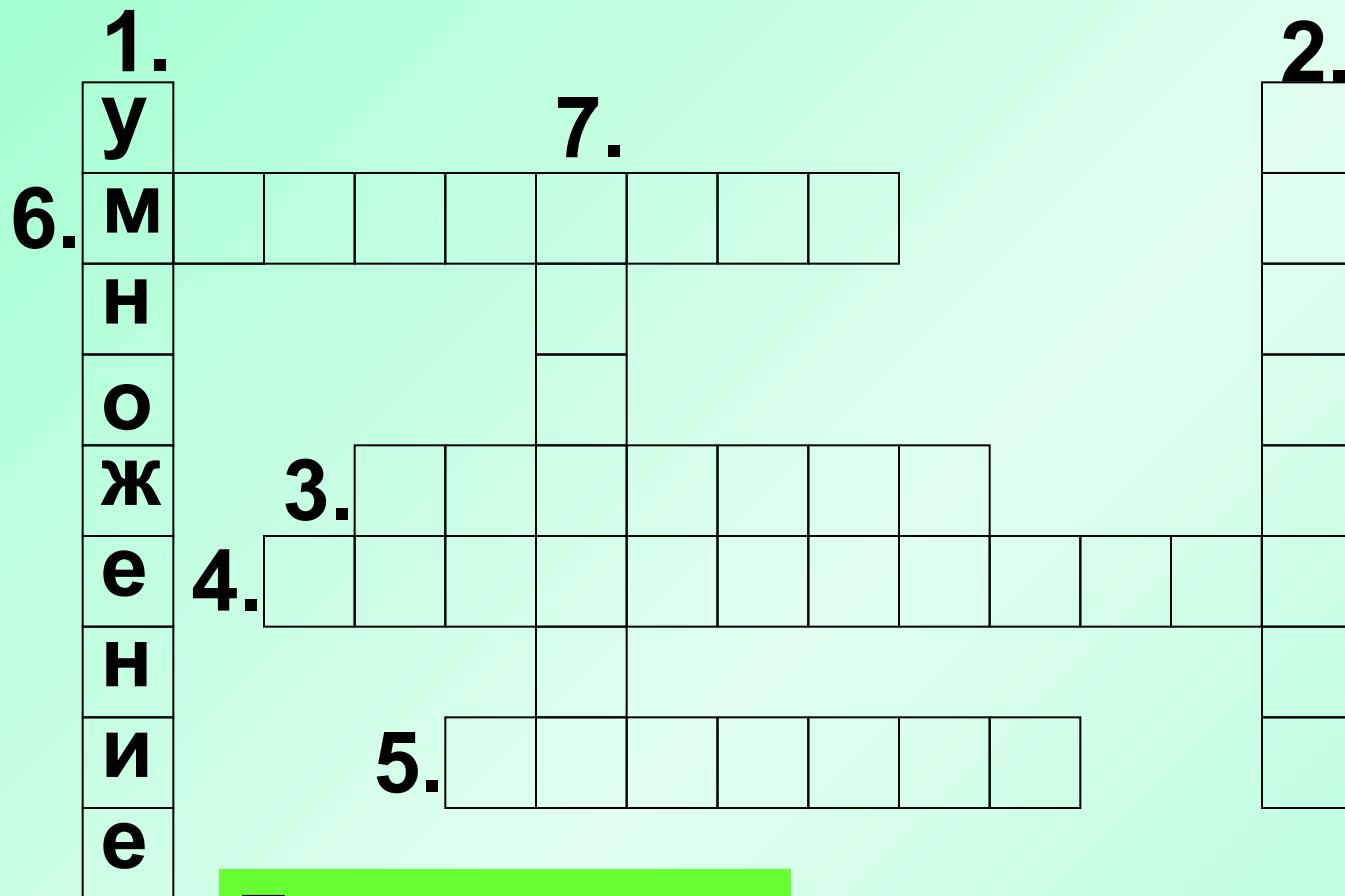


Таблица умножения

Таблица умножения



По вертикали:

1. Действие, которым можно заменить сумму одинаковых слагаемых.

1.	у				7.								2.
6.	м												д
	н												е
	о												л
	ж	3.											т
	е	4.											е
	н												л
	и												ь
	е												
		5.											

По вертикали:

2. Число, на которое делят.

1.	у				7.							2.
6.	м											д
	н											е
	о											л
	ж	3.	д	е	л	и	м	о	е			т
	е	4.										е
	н											л
	и		5.									ь
	е											

По горизонтали:

3. Число, которое делят.

1.	у				7.							2.		
6.	м											д		
	н											е		
	о											л		
	ж	3.	д	е	л	и	м	о	е			т		
	е	4.	п	р	о	и	з	в	е	д	е	н	и	е
	н											л		
	и	5.										ь		
	е													

По горизонтали:

4. Результат действия при умножении.

1.	у				7.							2.		
6.	м											д		
	н											е		
	о											л		
	ж	3.	д	е	л	и	м	о	е			т		
	е	4.	п	р	о	и	з	в	е	д	е	н	и	е
	н											л		
	и	5.	ч	а	с	т	н	о	е			ь		
	е													

По горизонтали:

5. Результат действия при делении.

1.	у				7.							2.		
6.	м	н	о	ж	и	т	е	л	ь			д		
	н											е		
	о											л		
	ж	3.	д	е	л	и	м	о	е			т		
	е	4.	п	р	о	и	з	в	е	д	е	н	и	е
	н											л		
	и		5.	ч	а	с	т	н	о	е		ь		
	е													

По горизонтали:

6. Компонент действия умножения.

1.	у				7.							2.	
6.	м	н	о	ж	и	т	е	л	ь			д	
	н				а							е	
	о				б							л	
	ж	3.	д	е	л	и	м	о	е			и	
	е	4.	п	р	о	и	з	в	е	д	е	н	и
	н				ц							е	
	и		5.	ч	а	с	т	н	о	е		л	
	е											ь	

По вертикали:

7. Какое слово спряталось?



**Тема урока:**



**Закрепление**


Найди числа, которые не делятся на 2.  
Щёлкни по ним мышкой.

<b>2</b>	<b>3</b>	<b>4</b>	<b>5</b>
<b>6</b>	<b>7</b>	<b>8</b>	<b>9</b>
<b>10</b>	<b>11</b>	<b>12</b>	<b>13</b>
<b>14</b>	<b>15</b>	<b>16</b>	<b>17</b>

Щёлкните мышкой по числу, которое не делится на 3.



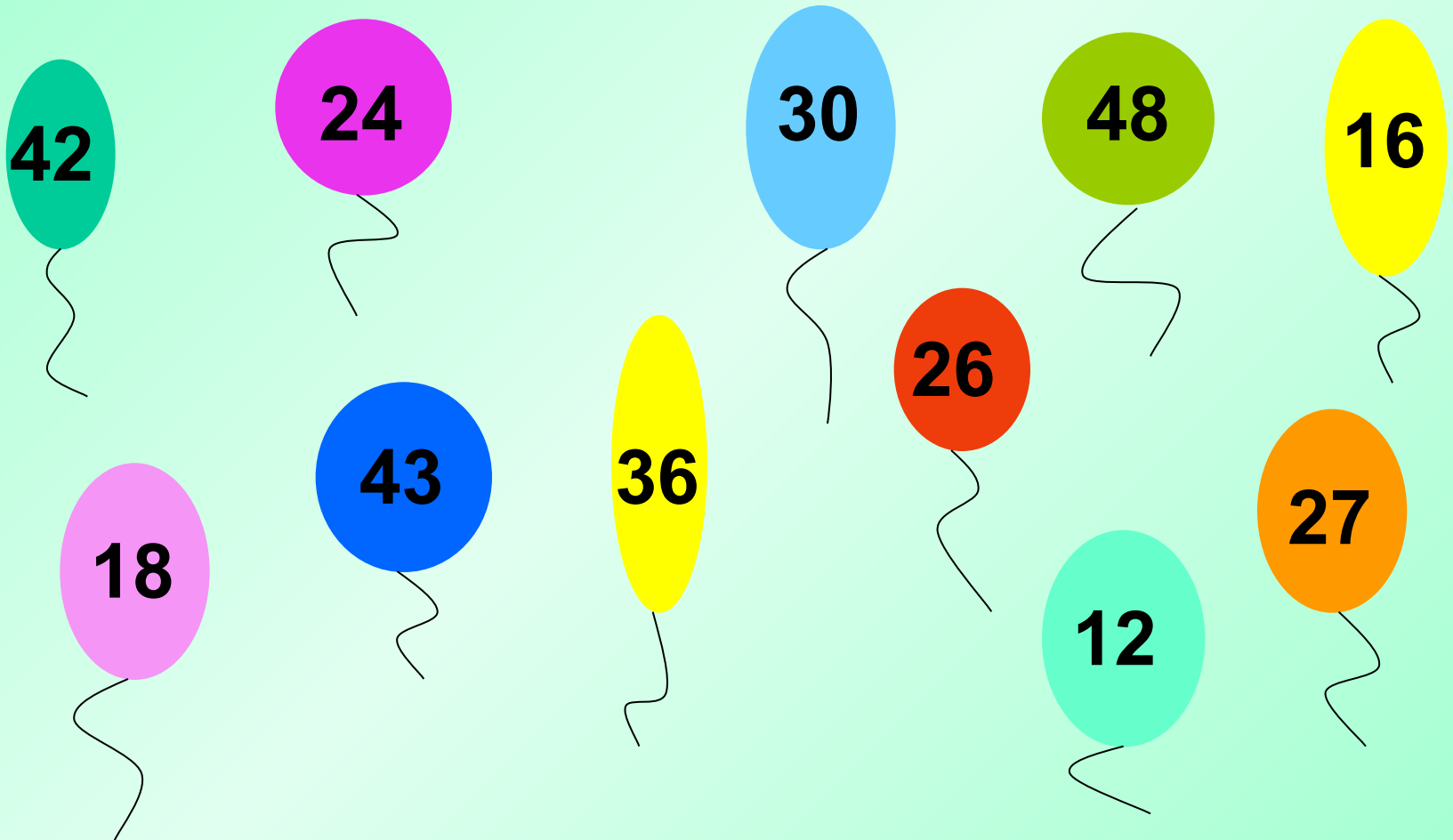
Каких ответов нет в  
таблице умножения 4?  
Щёлкни по ним мышкой.



Какие числа не делятся на 5?  
Щёлкни по ним мышкой.



Найди шарики с числами, которые не делятся на 6. Щёлкни по ним мышкой.




Каких ответов нет  
в таблице умножения 7?



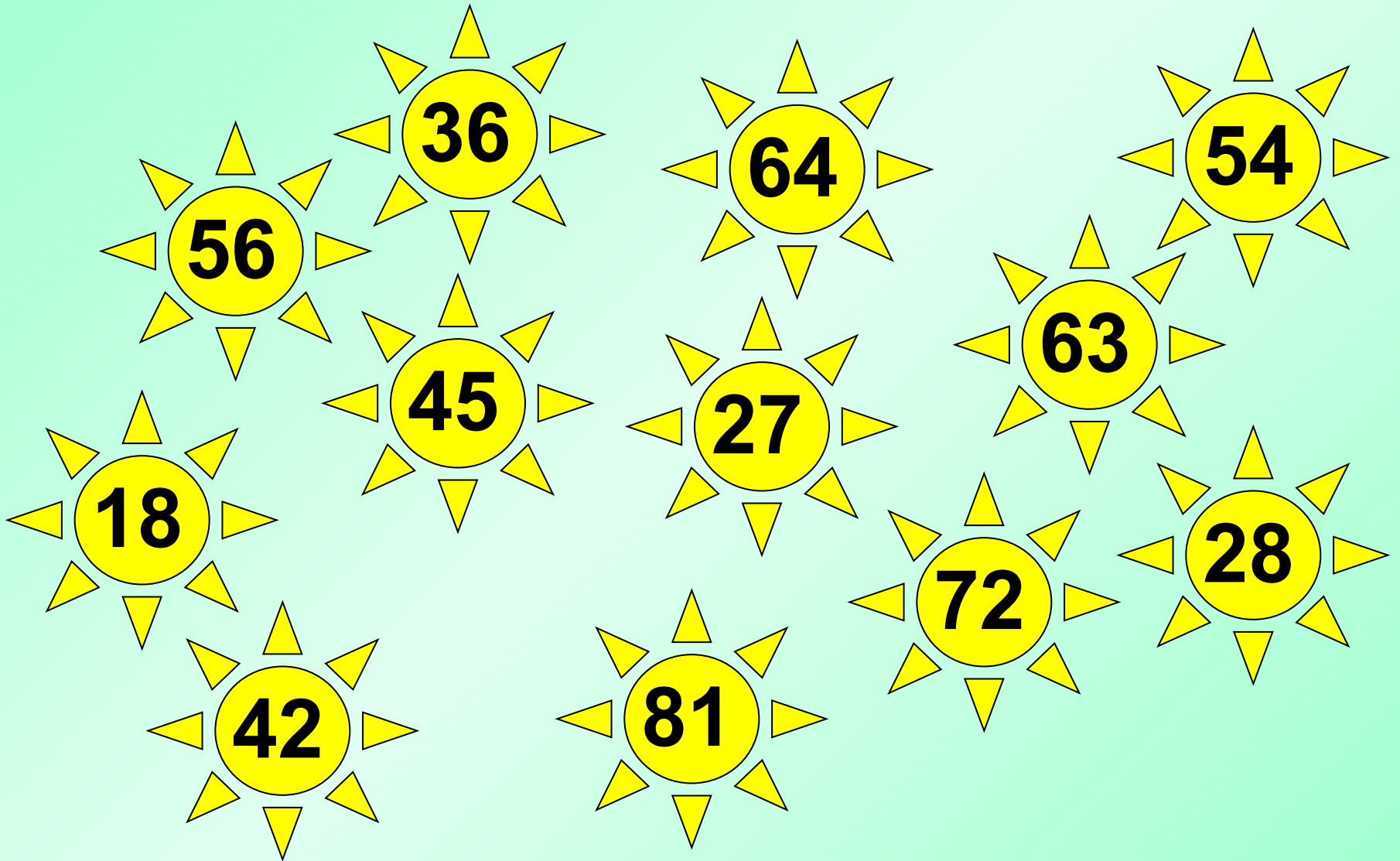


Украсьте ёлочки только ответами таблицы  
умножения 8.





Какие числа не делятся на 9?



Молодцы!