

Урок математики





4 класс

Презентация учителя начальных классов
ГБОУ № 152
Довгаль Л.Д.

**Математику, друзья,
Не любить никак нельзя.
Очень строгая наука,
Интересная наука -
Эта МАТЕМАТИКА!**

Пешеход проходит расстояние 12 км за 4 ч.

Выбери схему, соответствующую данному условию.

- ① 
- ② 
- ③ 
- ④ 

*Какие величины не используются в
задачах
на движение?*

| | | | | | |
|----|------|----|---|---|------|
| КГ | км/ч | см | т | м | км/с |
|----|------|----|---|---|------|



| | | | | | | | |
|---|----|-----|----|---|----------------|---|-----|
| с | км | сут | дм | ч | м ² | ц | м/с |
|---|----|-----|----|---|----------------|---|-----|


*По какому признаку можно разделить
данные величины на 3 группы?*











| скорость v | время t | расстояние s |
|-----------------------------|--------------------------|-------------------------------|
| км/ч | с | см |
| км/с | сут | км |
| км/мин | ч | м |
| м/ч | мин | дм |
| м/мин | неделя | мм |
| м/сек | месяц | |


Дополните таблицу.

Гимнастика для глаз



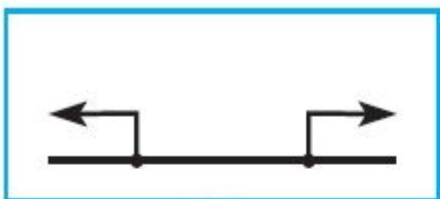




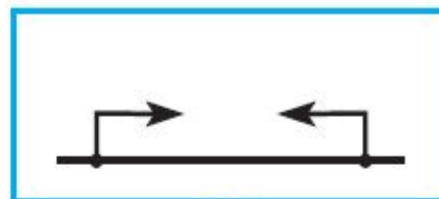


Выбери схему к данному условию.

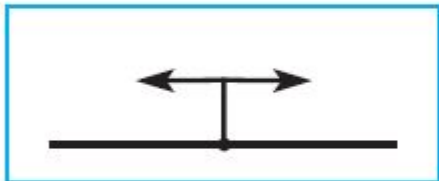
От одного причала в противоположных направлениях отплыли два катера.



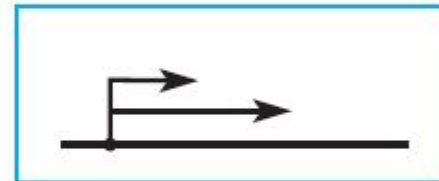
①



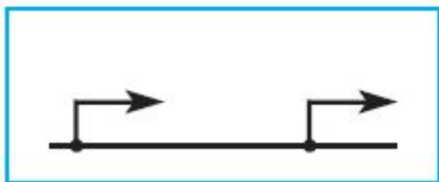
②



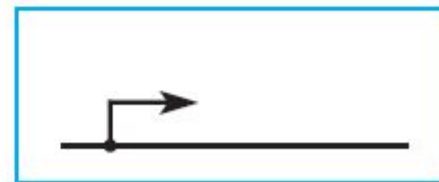
③



④



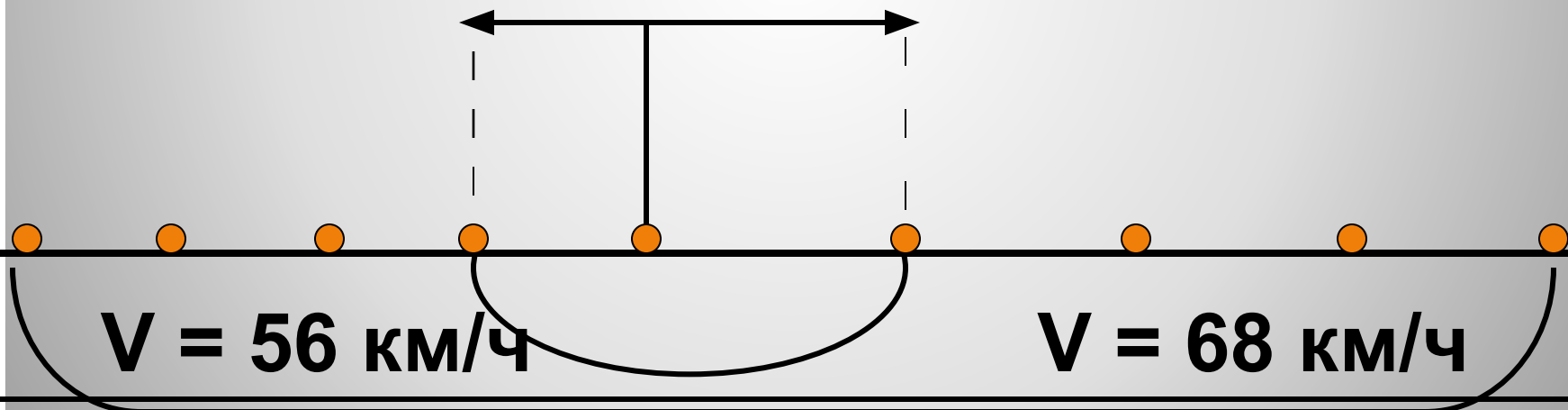
⑤



⑥

**Тема урока: Движение
в противоположных
направлениях**

$t = 4ч$



$S =$

?

Задача

Из автобусного парка вышли одновременно в противоположных направлениях два автобуса.


**Скорость одного автобуса 56 км/ч,
а скорость другого – 68 км/ч.**

**Какое расстояние будет между
ними через 4 часа?**

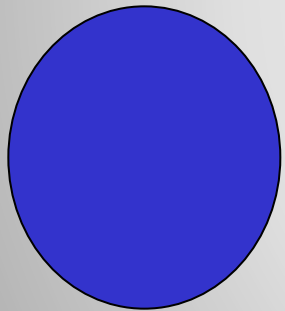
Домашнее задание




**Придумать и
записать на
карточке
условие задачи
на
противополож -
ное движение .**



Научился решать
очень хорошо.



Не всё понял.



Совсем не понял.

Молодцы!



Домашнее задание

**Придумать и
записать на
карточке
условие задачи
на
противополож -
ное движение .**



