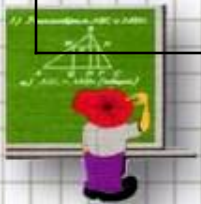



Упражнение №396

15	27	39	51	
12	19	26		40
3	8		18	23



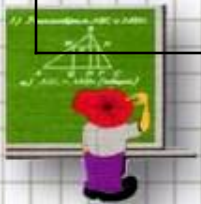
Алгоритм работы


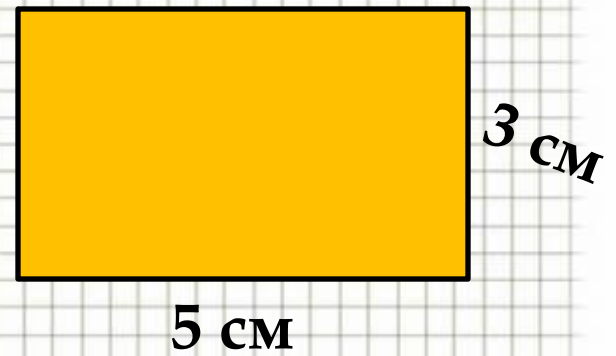
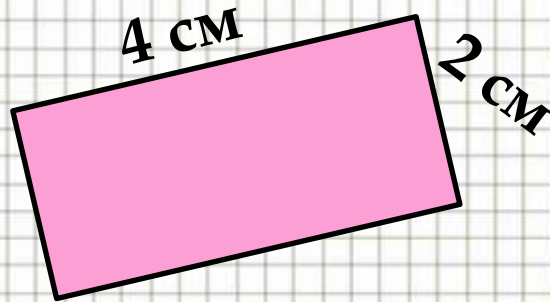
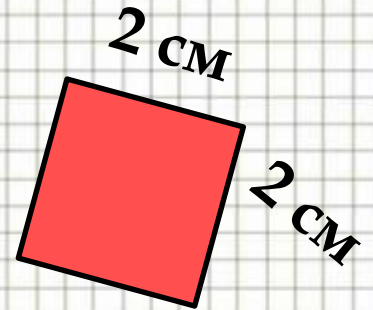
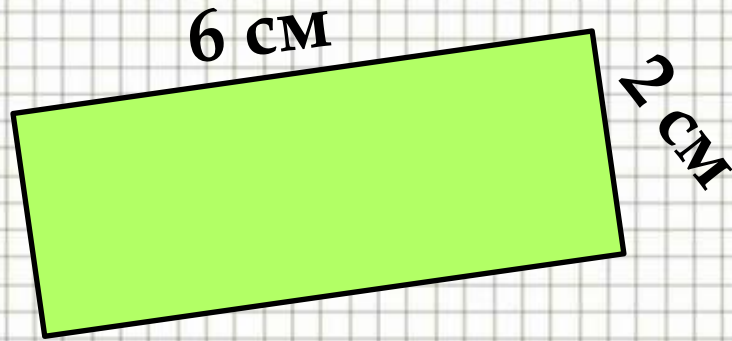
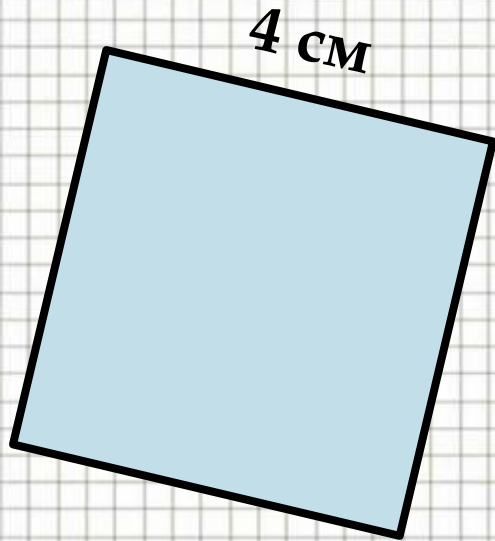
1. Найдите закономерность в изменении чисел в столбиках.
2. Найдите закономерность в изменении чисел в строчках.
3. Впишите недостающие клетки.
4. Продолжите таблицу вправо на 3 столбика.




Упражнение №396

15	27	39	51	63	75	87	99
12	19	26	33	40	47	54	61
3	8	13	18	23	28	33	38






ФОРМУЛЫ ПЕРИМЕТРА КВАДРАТА И ПРЯМОУГОЛЬНИКА



$$P = a \times 2 + b \times 2$$



$$P = a \times 4$$



- Сегодня я научился...
- На уроке мне понравилось...
- Сегодня я узнал...
- Самым интересным на уроке было...
- Я буду больше работать над...
- На уроке у меня не получилось...
- Самым трудным на уроке было...

