

# Математика

## 3 класс

### УМК «Гармония»

Учитель: Жданова Валентина Николаевна,  
I квалификационная категория  
г. Ясный, Оренбургская область

# Учимся решать

**задачи** *Решать задачи – это здорово!*

*Урок так скучен без задач.*

*Они нас думать*

*заставляют,*

*Анализировать и*

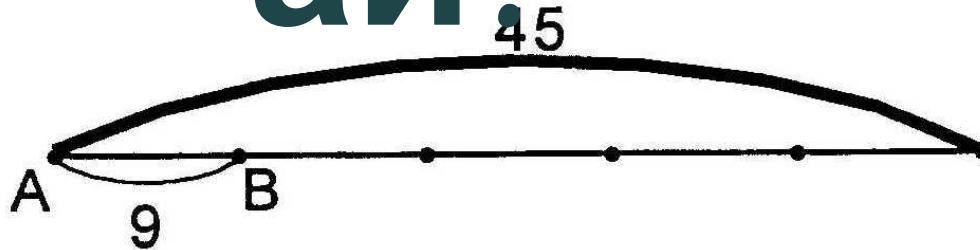
*рассуждать.*



# Подумай!

40. Подчеркни выражения, которым соответствуют отрезки АВ.


①



$45 : 5$

$45 : 9$

$45 - 9$




$18 : 6$

$18 : 3$

$6 \cdot 3$

# Подум



①

А. ай!

Д.

К.



15кг

②

А.

Д.

К.



6кг

?



# ФИЗКУЛЬТМИНУТКА

**Мы считали, мы решали!  
А теперь все дружно встали.  
Спинку бодро разогнули,  
Ручки кверху потянули!  
Раз и два, присесть и встать,  
Чтобы отдохнуть опять.  
Раз и два вперед нагнуться,  
Раз и два назад прогнуться.  
Вот и стали мы сильнее,  
Здоровей и веселей!**



**Руки плавно опустили  
Всем улыбку подарили.**



# КТО



$$1) 36 : 2 = 18 \text{ (дн.)}$$

$$2) 18 * 3 = 54 \text{ (дн.)}$$



$$1) 36 * 3 = 108 \text{ (шт.)}$$

$$2) 108 : 2 = 54 \text{ (дн.)}$$

# Учимся решать

**задачи** 96 кг овсяного печенья разложили в коробки по 6 кг, а 88 кг  
крекера – в коробки по 4 кг

Сколько коробок кекера?

$$(96 : 6) + (88 : 4)$$

Сколько коробок овсяного печенья?

$$96 - 4$$

Сколько всего коробок овсяного печенья и кекера?

$$(88 : 4) - (96 : 6)$$

Сколько овсяного печенья в 4 коробках?

$$96 : 6$$

На сколько больше коробок с кекером, чем с печеньем?

$$6 - 4$$


На сколько меньше килограммов кекера в одной коробке, чем овсяного печенья в 6 коробках?

$$88 : 4$$

$$96 - (88 : 4)$$

# Домашнее задание

На 11 февраля  
четверг



с.119, № 381, № 382





**ВСЕМ  
СПАСИБО  
ЗА РАБОТУ  
НА УРОКЕ!**