



Привет!
Я Доктор
Плюс.
ГОТОВЫ
учиться?!



Вычисли, а я
проверю,
всё ли
верно!



$36 + 2 = \square$

$50 + 15 = \square$

$36 + 20 = \square$

$60 - 14 = \square$

$44 - 2 = \square$

$35 - 6 = \square$

Задание



ВЫПОЛНЕН

0



Преобразуйт
е величины

ВЫПОЛНЕН
0

1 м =
см

65 мин = ч мин

50 коп + 50 коп = руб



Молодцы!
А сейчас
задание
посложнее!



Решить задачу



Задач

а

У продавца было 2 куска ткани
длиной в 38 м и 50 м.

За день он продал 40 м.

Сколько ткани осталось у
продавца?

Краткая запись




А теперь решим
задачу № 10
стр.41.



Глубина



7 м



на 3 м меньше





Вы молодцы!
Справились со всеми
заданиями!
Теперь самостоятельная
работа стр. 40 № 1
1 вариант - цифра 2
2 вариант - цифра 3