

МАТЕМАТИКА
1 «В» классе





1	2	3	4	5	6	7	8	9	10
11	12	13	14	15	16	17	18	19	20





1 дм = 10 см



1 дециметр – десяток сантиметров
1 дм = 10 см



1 Помоги Вове записать длины отрезков в сантиметрах, в дециметрах и сантиметрах и сравни их.




$$\square \text{ дм } \square \text{ см} = \square \text{ см}$$



$$\square \text{ дм } \square \text{ см} = \square \text{ см}$$

стр. 14



1 Помоги Вове записать длины отрезков в сантиметрах, в дециметрах и сантиметрах и сравни их.




$$1 \text{ дм } 2 \text{ см} = 12 \text{ см}$$

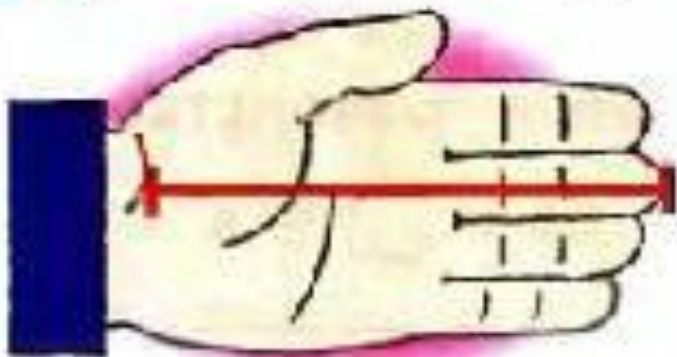


$$1 \text{ дм } 3 \text{ см} = 13 \text{ см}$$

стр. 14



2 Измерь длину своей ладони. Вот так.



- Назови длину ладони только в сантиметрах.
- Назови длину ладони в дециметрах и сантиметрах.

стр. 14



3 Какие числа спрятались в «окошках»?

$$11 = 1 \text{ д. } 1 \text{ ед.}$$

$$\square = 1 \text{ д. } 4 \text{ ед.}$$


$$16 = \square \text{ д. } \square \text{ ед.}$$

$$11 \text{ см} = 1 \text{ дм } 1 \text{ см}$$

$$\square \text{ см} = 1 \text{ дм } 4 \text{ см}$$

$$16 \text{ см} = \square \text{ дм } \square \text{ см}$$

стр. 14



4 Сравни (>, <, =).

2 кг 17 кг

9 см 1 дм


10 кг 20 кг

1 дм 9 см 18 см

12 л 15 л

10 см 1 дм 3 см

стр. 14




Физминутка




6 Помоги ребятам решить задачи.

В. Вова поймал 14 окуней и 1 плотву. Пять рыбок съел кот Василий. Сколько рыбок осталось?


стр. 15



Итог работы



всё
получилось!



не доволен
своей
работой



ничего
не получилось

