



# Вычисли устно

$300-1=299$

$7 \times 9=63$

$42:6=7$

$199+1=200$

$5 \times 8=40$

$56:8=7$

$150+50=200$

$4 \times 9=36$

$72:9=8$

$150-50=100$

$7 \times 7=49$

$21:3=7$

$368-300=68$

$6 \times 3=18$

$40:5=8$



# РАЗМИНКА

50, 45, 40, 35, **30**, **25**, **20**

100, 102, 104, 106, **108**, **110**, **112** .




8 см, , 37 см, 148 см, 10 см

99 м, 37 м, , 45 м, 105 м





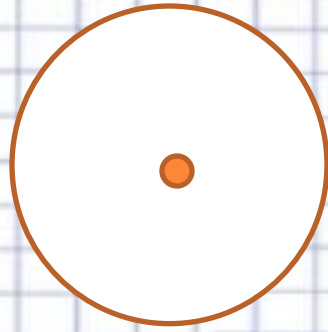
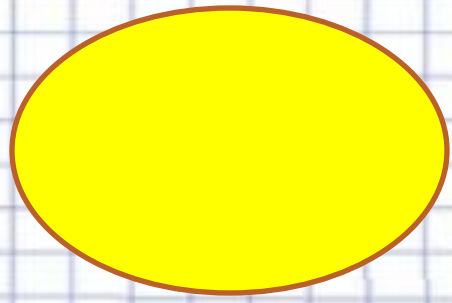

Какая фигура лишняя ?



Two large, empty orange rectangular boxes stacked vertically, intended for the user to write their answer.



Какая фигура лишняя ?







# «Деление окружности на равные части путём перегибания круга»



- Ось симметрии делит фигуры на две равные части.
- Радиус - отрезок, соединяющий центр окружности с любой точкой, лежащей на окружности, а также длина этого отрезка.
- Диаметр - это отрезок, соединяющий две точки на окружности и проходящий через центр окружности, он равен двум радиусам