

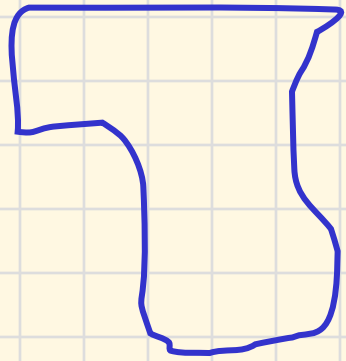
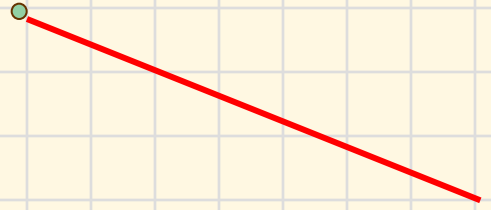
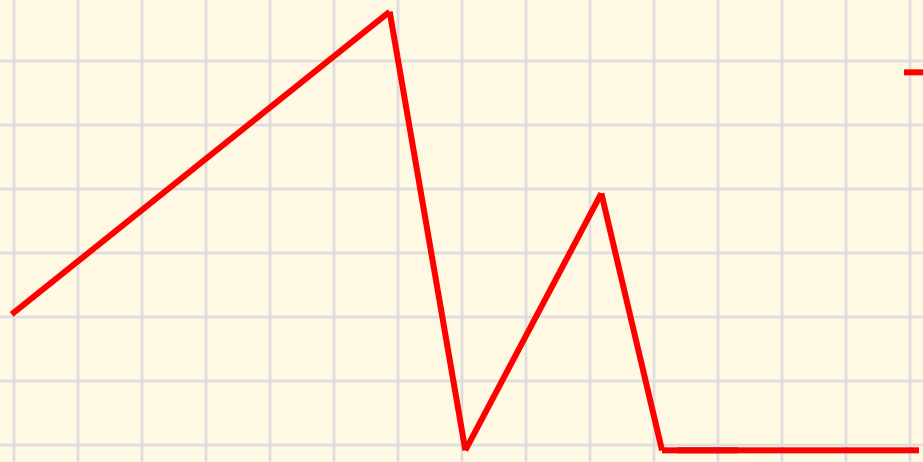
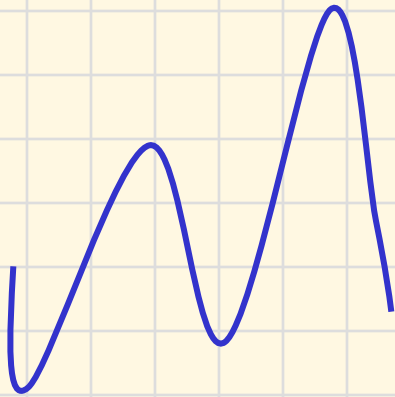
**Ломаная.**  
**Нахождение длины ломаной.**  
«Начальная школа XXI века»  
Рудницкая В.Н. 3 класс





И прекрасна, и сильна  
Геометрия-страна!  
Начинается урок,  
Он пойдет ребятам впрок.  
Постарайтесь все понять-  
Тему новую узнать.



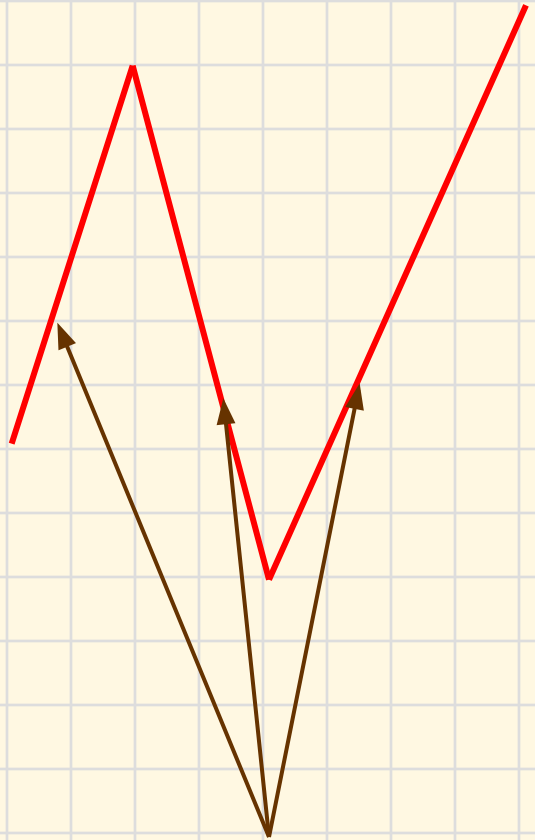


## **ЦЕЛИ УРОКА:**

- 1. Познакомиться с новой линией.**
- 2. Узнать , как измерить длину линии.**
- 3. Научиться чертить линию.**
- 4. Повторить единицы измерения длины.**

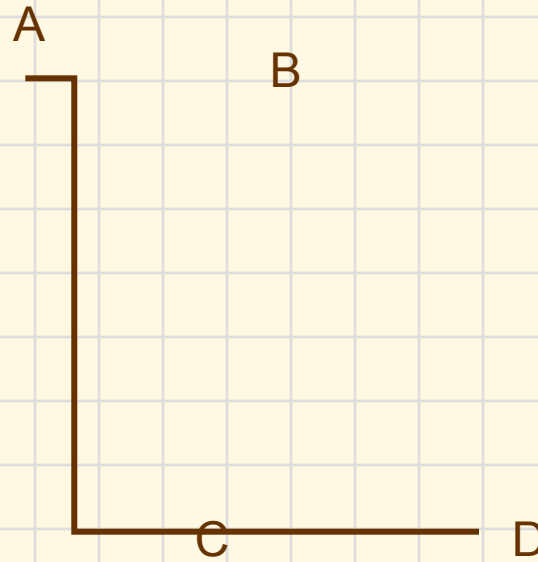
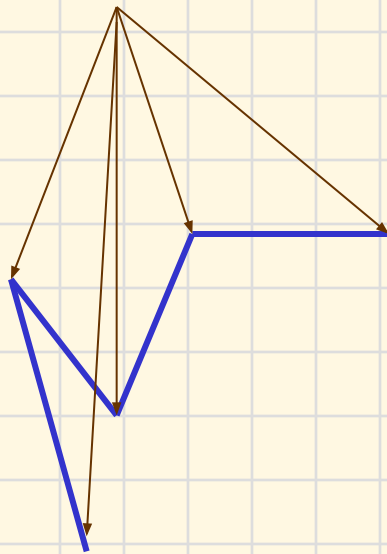


# ЛОМАНЫЕ



звенья

вершины



ЧТОБЫ НАЙТИ ДЛИНУ  
ЛОМАННОЙ, НАДО  
СЛОЖИТЬ ДЛИНЫ ВСЕХ ЕЕ  
ЗВЕНЬЕВ



# ЕДИНИЦЫ ИЗМЕРЕНИЯ ДЛИНЫ

- $1 \text{ CM} = 10 \text{ MM}$
- $1 \text{ DM} = 10 \text{ CM}$
- $1 \text{ DM} = 100 \text{ MM}$





$AB=42$  мм

$BC=38$  мм

$CD=19$  мм

Длина  $ABCD$ -? мм

$ABCD = 42 + 38 + 19 = 99$  мм

# Домашнее задание

- С.15, №47, 56

- С.15, № 48, 57

По выбору




-Сегодня на уроке я узнал...

-Сегодня на уроке я научился...



-Сегодня на уроке мне





**СПАСИБО ВСЕМ !**