

***Тема: Умножение и деление на
7. Седьмая часть числа.***

К уроку математики № 71 по программе «Школа XXI
века»

Устный счёт

- 1. Фронтальная работа
- 2. Работа в паре
- 3. Геометрический материал



Проверь:

□ $3 \times 5 = 15$

□ $8 \times 5 = 40$

□ $32 : 4 = 8$

□ $63 : 7 = 9$

□ $6 \times 7 = 42$

□ $4 \times 9 = 36$

□ $24 : 6 = 4$

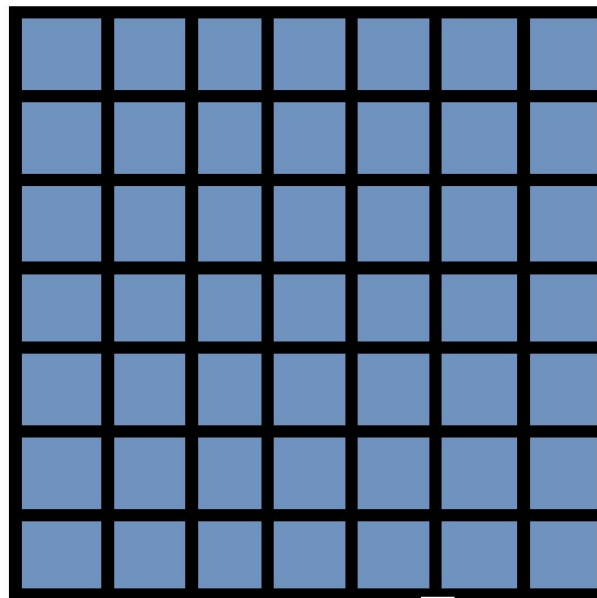

□ $21 : 7 = 3$

□ $2 \times 7 = 14$



□ $5 \times 5 = 25$



Как называются фигуры?



На сколько квадратов разделён
каждый четырёхугольник?



Какая часть круга закрашена?

