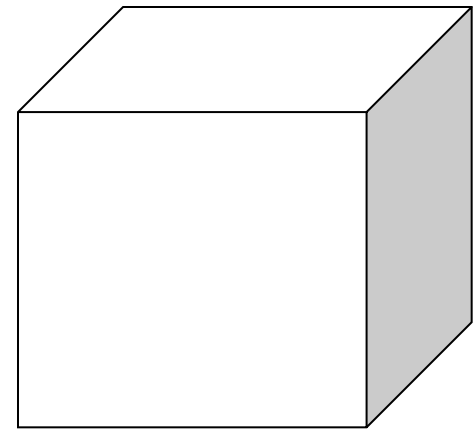


**Тема урока:  
«Шар. Куб»**

**Чепель О.А., учитель  
начальных классов**



# Устный счёт.

## 1. Логическая задача.

Аня задумала число. Вы его называете, когда считаете парами до 10 и тройками до 9. Какое число задумала Аня?

- а) 4      б) 9      в) 6

## 2. Какие числа пропущены в каждом ряду?

а) 1, 2, □, □, 5, □, □, 8, □, 10;

б) 2, 4, □, □, 10;

в) 10, 8, □, 4, □.


Чем похожи и чем различаются записи?

$$5 + 3 \quad 7 + 6 \quad 4 \cdot 2 \quad 6 \cdot 3$$


$$5 - 3 \quad 7 - 6 \quad 4 : 2 \quad 6 : 3$$

Выполни вычисления.

На что похож куб и шар?



Страница 9, № 1, № 2, № 3.





1. Какие предметы по форме похожи на шар?



2. На какую фигуру похожи: циферблат будильника, стёкла очков, пуговица?



**Чем квадрат отличается по форме от куба?**




**Чем круг отличается по форме от шара?**



**Квадрат и круг – плоские фигуры.**  
**Куб и шар – объёмные фигуры.**









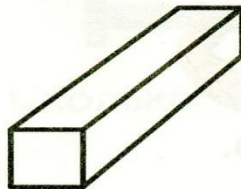
УЗНАЁМ НОВОЕ

## Шар. Куб.

1.  Какой предмет не похож на шар?



2. Найди и раскрась куб.



В 4 лодки сели поровну 16 человек. Сколько человек в одной лодке?

Каким действием решается задача?

Сложением

Вычитанием

Умножением

Делением

Хватит ли 15 рублей, чтобы купить 2 бублика?



8 р.

8 р.

Да

Нет



**Спасибо за урок!**

