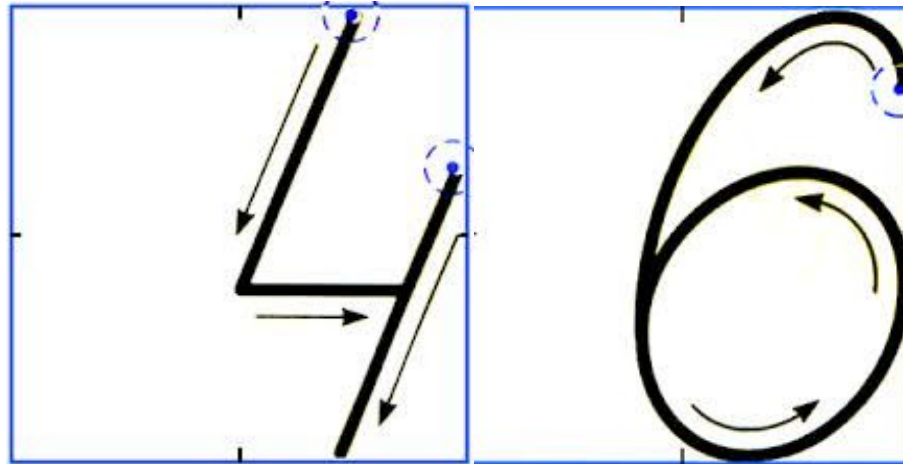


# Тема: Во сколько раз больше или меньше?(2)

Подготовила:  
учитель начальных классов  
Шартон Ирина Александровна

# Минутка чистописания



# УСТНЫЙ СЧЁТ



# Число 46

- ❖ Двухзначное
- ❖ Чётное
- ❖ В числе 46 четыре десятка и шесть единиц
- ❖ Соседи числа 45 и 47.

**Вставь в «окошки» знаки действий, чтобы получились**

**верные равенства:**  $3 \square 9 \square 9 = 36$

$$16 \square (3 \square 4) = 9$$

$$40 \square 25 \square 5 = 20$$

$$6 \square (11 \square 2) = 54$$

$$(16 \square 7) \square 3 = 27$$

# Проверь:

$$9 \cdot 9 - 72 = 9$$

$$3 \cdot 9 + 9 = 36$$

$$16 - (3 + 4) = 9$$

$$40 - 25 + 5 = 20$$


$$6 \cdot (11 - 2) = 54$$

$$(16 - 7) \cdot 3 = 27$$

**Луковицы тюльпанов  
высадили в 4 ряда по 8  
штук. Сколько луковиц  
высадили?**



$$8 \cdot 4 = 32$$





**Булочка стоит 4 рубля. Сколько  
булочек можно купить на 12  
рублей?**



**4  
рубля**

**?  
булочек**

**12  
рублей**



**4**  
**рубля**

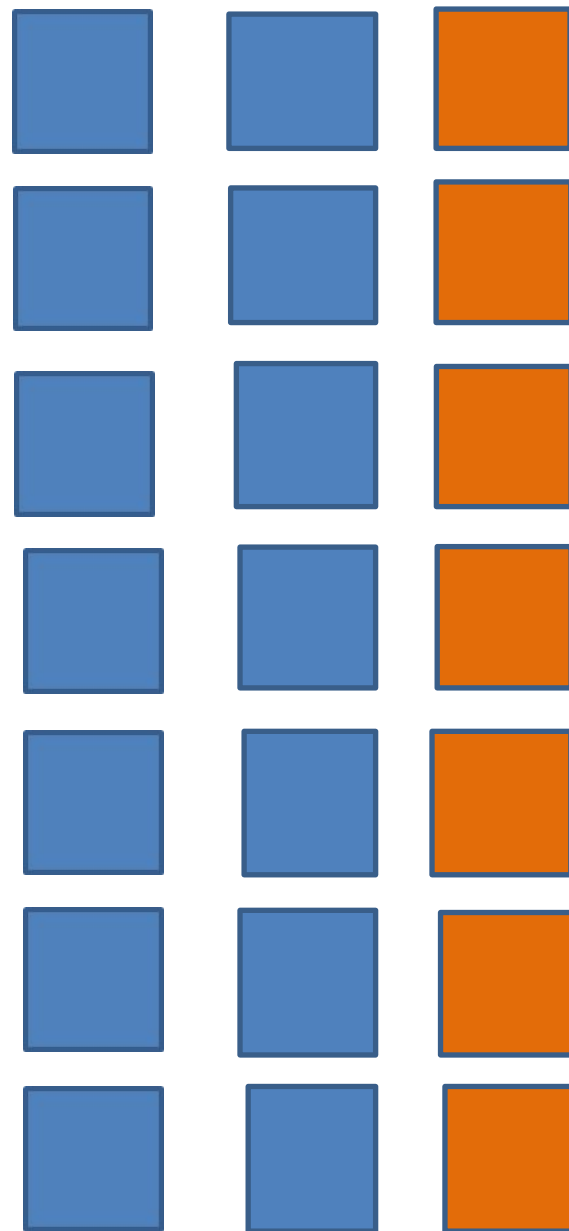
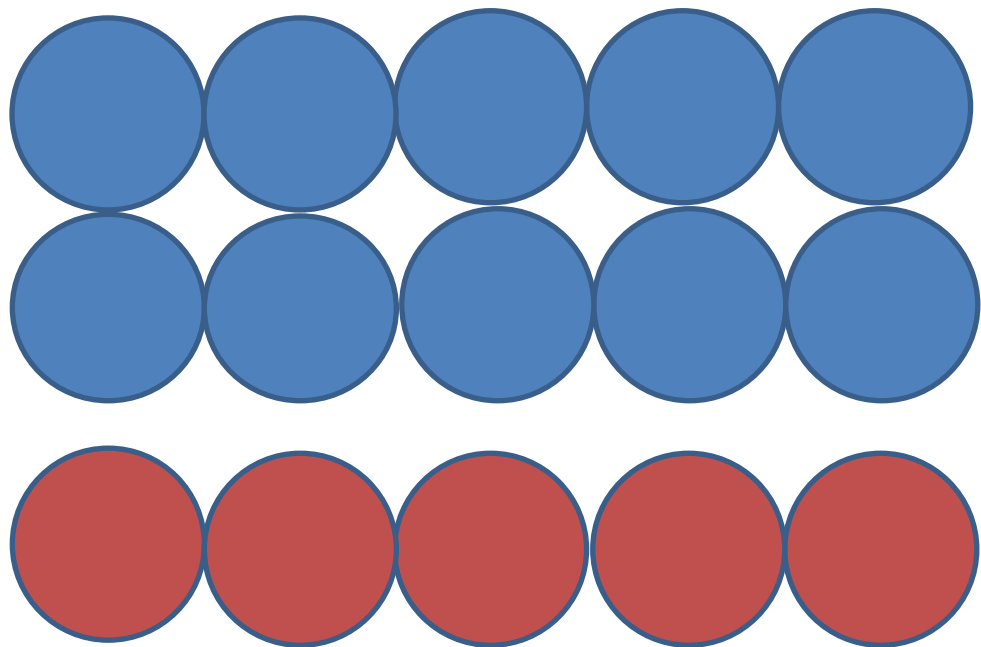


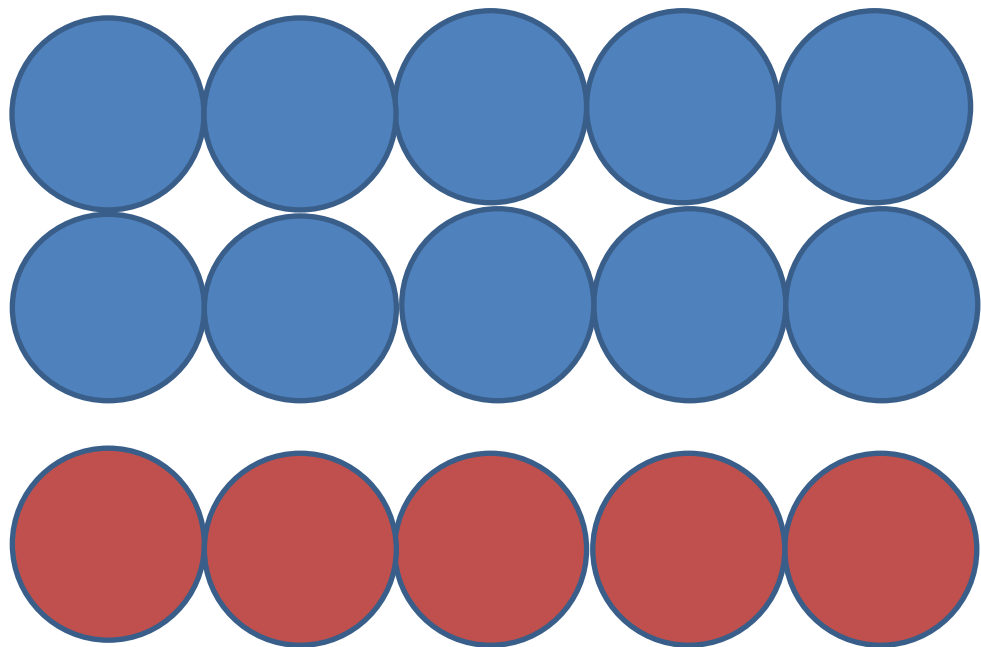
**4**  
**рубля**



**4**  
**рубля**

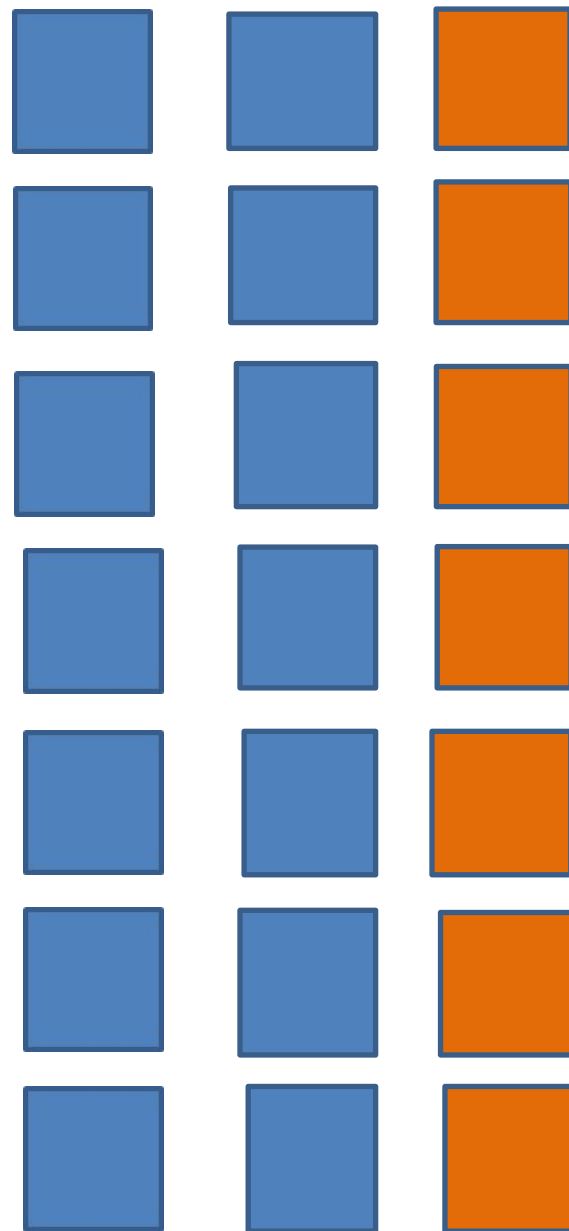
$$12 : 4 = 3$$





**5 в два раза меньше, чем  
10**


**14 в два раза больше,  
чем 7**




# **Вывод:**

**Чтобы узнать, во сколько раз одно число больше или меньше другого, надо большее число разделить на меньшее.**

# Рефлексия




**- я научился узнавать, во сколько одно число больше или меньше другого**



**- нужно ещё**

**поработать**



**- очень сложно для**

**меня**