



29.01.09

Классная работа.



Пусть затеи и задачи
Игры, шутки – всё для
вас!

Пожелаю всем удачи –
За работу, в добрый
час!



**Отдать швартовые!
Полный вперёд!**



Карта путешествия

Остров
обезьян

Остров
слонов


Остров
попугаев

Остров
дикарей

Необитае-
мый
остров

Остров
бабочек

ЗЕМЛЯ



НЕОБИТАЕМЫЙ ОСТРОВ



Задача





ЗАДАНИЕ :
Найдите в каждой
строчке лишнее число

А) 1,9,4,14,6,2

Б) 15,11,18,14,35

В) 17,35,56,62,44



ПРОВЕРЬТЕ И ОБЪЯСНИТЕ СВОЁ РЕШЕНИЕ

А) 1,9,4,14,6,2

Б) 15,11,18,14,35

В) 17,35,56,62,44

Карта путешествия

Остров
обезьян

Остров
слонов


Остров
попугаев

Остров
дикарей

Необитае-
мый
остров

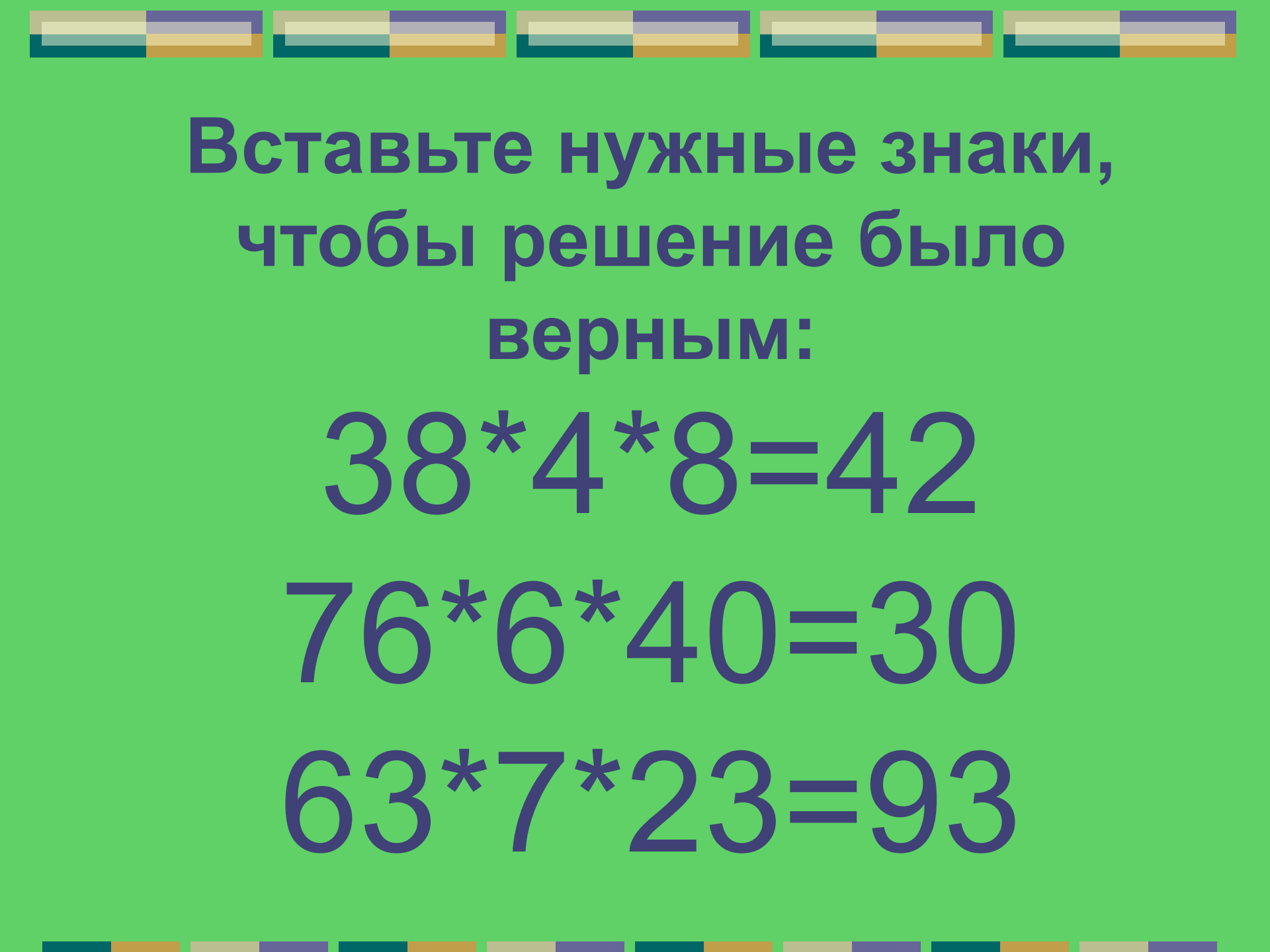
Остров
бабочек

ЗЕМЛЯ



Остров Попугаев





**Вставьте нужные знаки,
чтобы решение было
верным:**

$$38 * 4 * 8 = 42$$

$$76 * 6 * 40 = 30$$

$$63 * 7 * 23 = 93$$

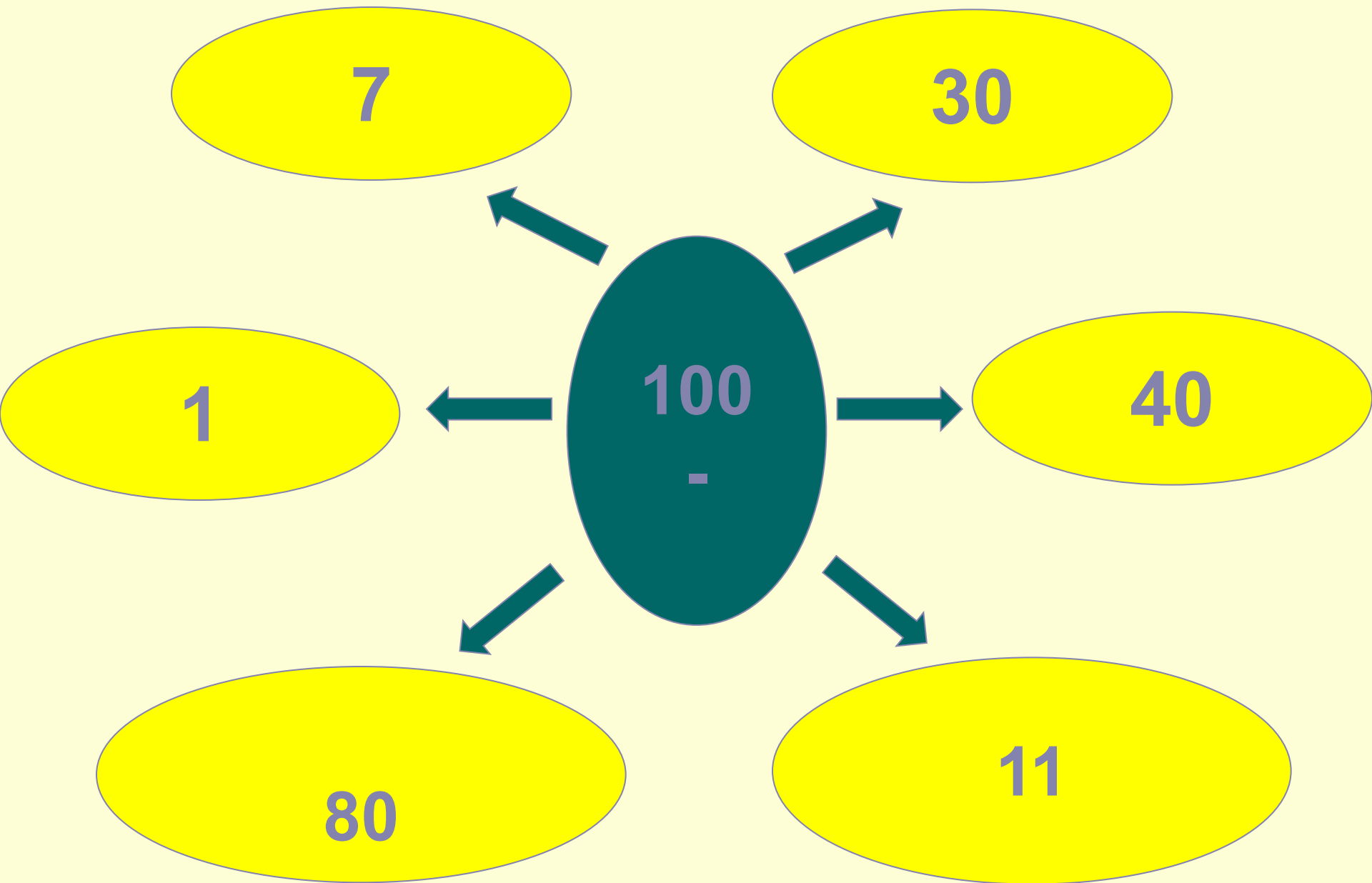


**Правильное
решение:**

$$38 - 4 + 8 = 42$$

$$76 - 6 - 40 = 30$$

$$63 + 7 + 23 = 93$$



Карта путешествия

Остров
обезьян

Остров
слонов

Остров
попугаев

Остров
дикарей

Необитае-
мый
остров

Остров
бабочек

ЗЕМЛЯ



Остров Обезьян



Ребята!
Прошу Вас решить
задачу 13, на странице
20.

Решение задачи:

1) $15 - 7 = 8$ (шт.) – груш.

2) $15 + 8 = 23$ (шт.) – слив.

Ответ: 23 сливы.



Карта путешествия

Остров
обезьян

Остров
слонов

Остров
попугаев

Остров
дикарей

Необитае-
мый
остров

Остров
бабочек

ЗЕМЛЯ





**Остров Слонов
Ребята!**

**Выполните задание 3,
на странице 19.**

Карта путешествия



Остров Дикарей





Ребятки!

**Решите примеры 19
на странице 21!**

**А то мы вас оставим на
нашем острове!**


Карта путешествия



Остров Бабочек



*Решите примеры,
записывая их в
столбик:*



$$48+12= 60$$

$$53+17= 70$$

$$39+11= 50$$

$$23+32= 55$$

$$45+54= 99$$

$$12+21= 33$$

МОЛОДЦЫ!!!



Карта путешествия



Ответьте на вопросы и окажитесь дома



УРА! Мы дома!

