



Тест по математике для 2 класса (конец года)

00:

1 2
4 5

Результат теста

Верно: 10

Ошибки: 0

Отметка: 5

Найди число, в котором 9 дес.

10

90

9

12

45

**Найди число, в котором
5 дес. 8 ед.**

5

85

58

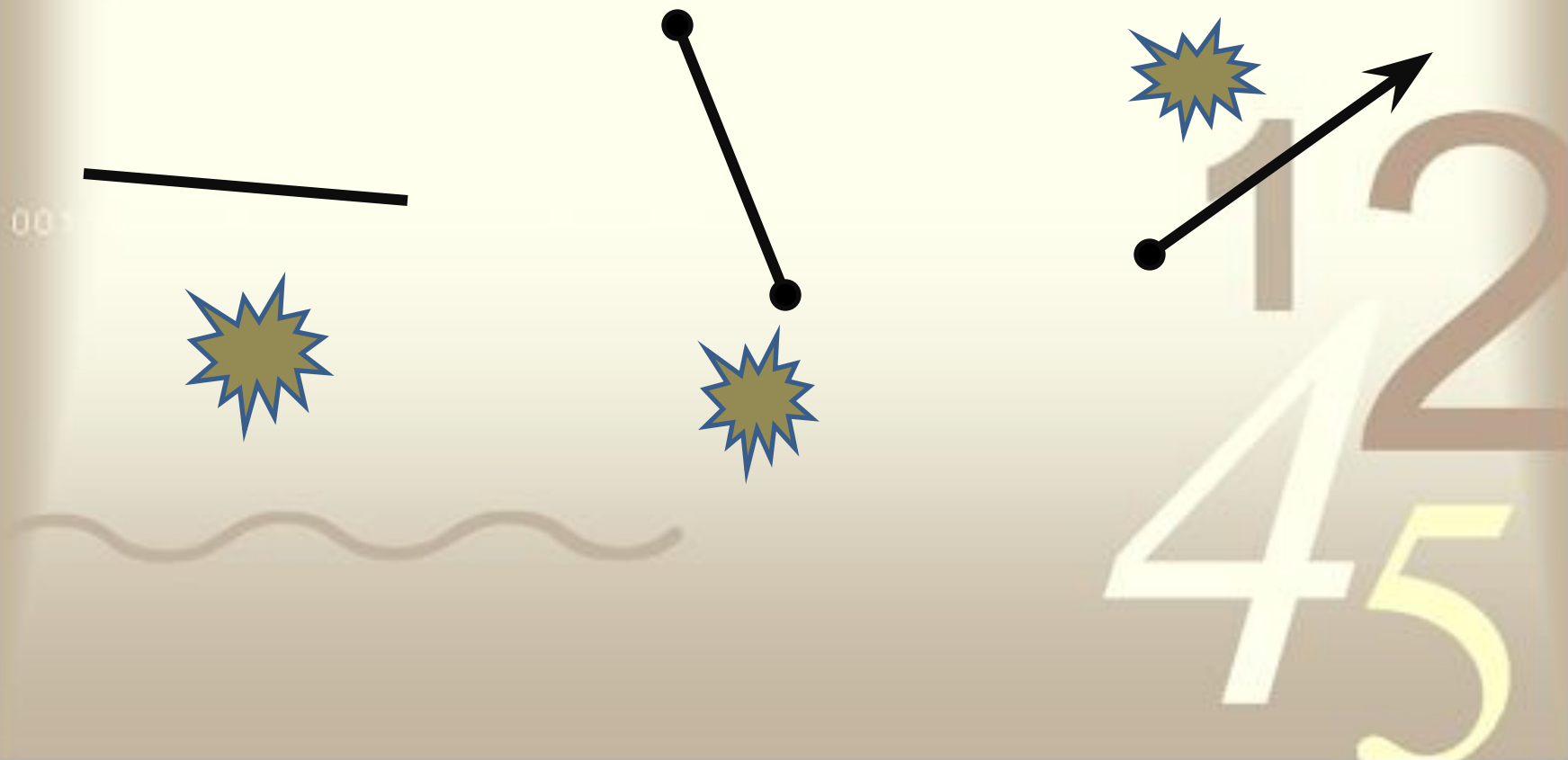
**Вставь пропущенное число:
30...50.**

40


31

49

Найди на чертеже луч.



Закончи фразу: длина спички 4...



М

СМ

ДМ

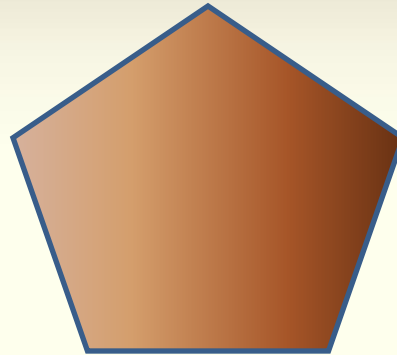
**Длина комнаты 5м, а ширина
на 2м меньше. Чему равна
ширина?**

3м

7м

3дм

Назови фигуру.



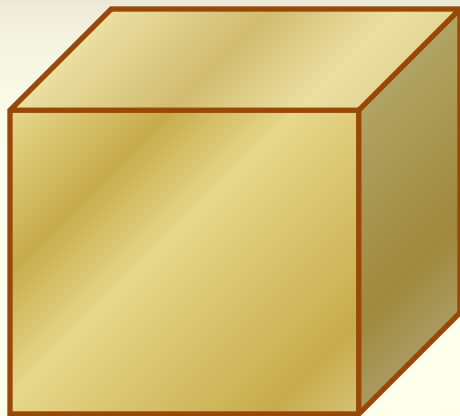
пятиугольник

прямоугольник

квадрат

4
5

Как называется фигура?



цилиндр


куб

квадрат

Реши граф.

+...

24



36

12

50

40

Найди на чертеже цилиндр.

