


Математика

**Тесты по теме «Числа от 1
до 10»**

1. По какому признаку разбиты фигуры?



1.

форма


2.

размер

3.

цвет

2. Какая цифра соответствует количеству фигур?



1.

5

2.

8

3.

7

3. Выбери правильный ответ:

$$4 + 2 = ?$$

1

5

2

6

3

7

4. Выбери сумму чисел,
равную 7:

1.

$$\underline{2 + 5}$$

2.

$$\underline{1 + 4}$$

3.

$$\underline{3 + 3}$$

5. Какое число меньше 9 на 4?

1) 5

2) 3

3) 1

6. Уменьшаемое 9, вычитаемое 6.
Найди разность чисел.

1.3

2.4

3. 5

7. В каком ряду числа расположены в порядке убывания ?

а) 4, 5, 8, 3, 2, 9

б) 1, 3, 5, 7, 8, 9

в) 8, 7, 5, 4, 2, 1

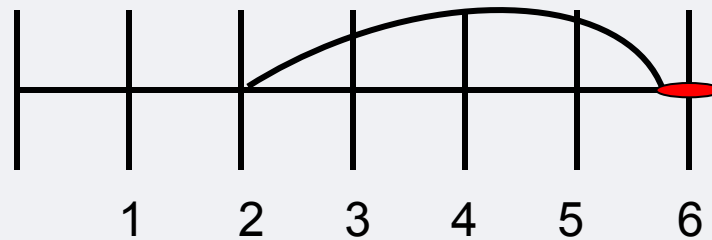
8. На сколько 8 больше 5?

1. 4

2. 5

3. 3

9. Какое выражение соответствует действию на числовом отрезке?



1. **6 - 4**

2. **6 - 2**

3. **6 + 3**

10. Выбери правильный ответ на вопрос: “Что служит для счета предметов?”

1. цифры
2. числа
3. цифры и числа