

Департамент образования города  
Москвы ГОУ ЦО №1861

Тест по математике по теме: "Сложение и вычитание чисел в пределах 10"

Автор: *Шарапова Екатерина  
Владимировна, 1 класс «Б»*



Выполни правильно  
задания...

Задание №1

Задание №2

Задание №3

Задание №4


Задание №5

Тогда кролик не вымокнет до  
НИТКИ.





На сколько в одном пучке больше моркови, чем в другом?



5



4



3








Молодец!



**Подумай ещё!!!**



*Сколько кочанов капусты не хватает,  
чтобы в сумме их стало десять?*



Молодец!



**Подумай ещё!!!**





**Вставь в окошки  
пропущенные числа (3, 4, 5  
или 6):**

$$\square + \square = \square$$


$$\underline{3+3=6}$$


$$\underline{3+4=5}$$


$$\underline{5+3=4}$$

Молодец!




**Подумай ещё!!!**




*Получи число 1 с помощью трех единиц и знаков математических действий:*



1+1+1



1+1-1



3-1+1

Молодец!


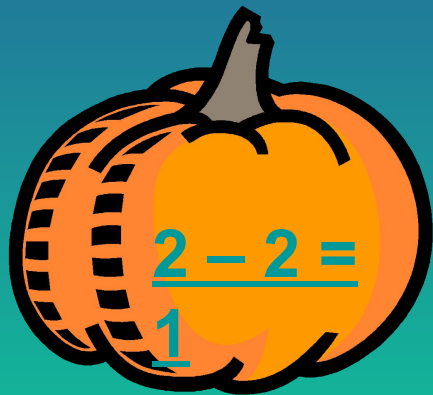


**Подумай ещё!!!**



Вставь числа в  $\square$ , если известно, что вычитаемое и разность не равны 0:

$$2 - \square = \square$$



Молодец!





**Подумай ещё!!!**





Молодец!!!  
Спасибо,  
что помог  
мне не  
промокнуть!