

Учитель начальных классов  
Переход Вера Владимировна

# Тест по математике 3 класс

Тема

«Умножение и деление на 4»

Начать тест

Тест составлен по шаблону Иванова Д. [http://nachalka.com/test\\_shablon](http://nachalka.com/test_shablon)

# Результат теста

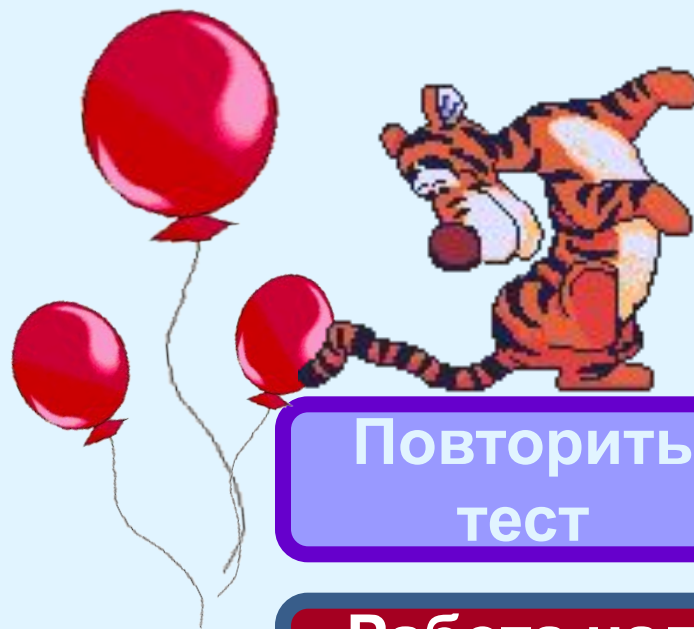
Верно: 4

Ошибки: 6

Отметка: 2

Время: 0 мин. 23 сек.

**Молодец!!!**



Повторить  
тест

Работа над  
ошибками

Для выхода нажмите клавишу ESC



1. Умножение можно заменить следующей записью:


A)  $5 + 3 + 4 + 2$

C)  $4 - 4 - 4 + 4$

B)  $4 + 4 + 4 + 4$

D)  $9 - 5 + 4 - 2$

далее



2.Выражение:  $4 + 4 + 4$  можно  
заменить произведением чисел:

A)  $5 * 4$

C)  $3 * 3$

B)  $4 * 3$

D)  $4 * 4$

дальше

3. *Покажи действие, при котором числа называются: делимое, делитель, значение частного.*

A) :

C) +

B) \*

D) -

дальше



## 4. Отметь верное утверждение:

А) Если из значения разности вычесть уменьшаемое получится вычитаемое.

В) Если значение произведения разделить на множитель, то получится другой множитель.

С) Если делимое разделить на делитель, то получится значение произведения.

Д) Если к первому слагаемому прибавить второе слагаемое, то получится значение разности.

далее



5. Сколько стоят 4 альбома, если один альбом стоит 10 рублей?

A) 40 руб

C) 25 руб

B) 12 руб

D) 20 руб

дальше



6. В четырёх люстрах 20 лампочек.  
Сколько лампочек в одной люстре?

A) 15 лампочек

C) 4 лампочки

B) 5 лампочек

D) 25 лампочек

дальше





7. В уравнении  $x : 2 = 4$  найти значение  $x$ .

A)  $x = 7$

C)  $x = 8$

B)  $x = 3$

D)  $x = 25$

далее



8. *Найти периметр квадрата, сторона которого равна 4 см.*


A) 15 см

C) 10 см

B) 5 см

D) 16 см

дальше



9. Сколько стоят четыре ручки, если одна ручка стоит 8 рублей?

A) 32 руб

C) 35 руб

B) 13 руб

D) 3 руб

далее



10. Найти значение выражения

$$0 * 4 = \dots$$

A) 50

C) 5

B) 10

D) 0

дальше