

ТЕСТОВЫЕ ЗАДАНИЯ ПО МАТЕМАТИКЕ ДЛЯ 1 КЛАССА С ПРИМЕНЕНИЕМ ИКТ

Тема: «Таблица сложения в пределах 20»

Выполнил:

учитель начальных классов

Ильдюкова Т. Ю.

1.


Найди сумму чисел 9 и 5:

а) 13;

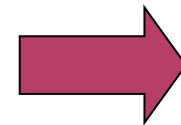
б) 15;

в) 14.

ПОДУМАЙ!!!!




Ты ошибся, подумай ещё!



Ты молодец!



www.EB.ru



2.


Первое слагаемое 5, второе – 6. Найдите сумму?

а) 10;

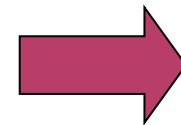
б) 12;

в) 11.

ПОДУМАЙ!!!!




Ты ошибся, подумай ещё!



Ты молодец!



www.EB.ru



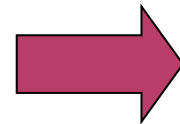
3.

Какое число больше 8 на 6?


а) 12;

б) 13;

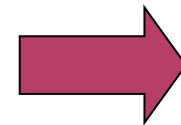
в) 14.



ПОДУМАЙ!!!!




Ты ошибся, подумай ещё!



Ты молодец!



www.EB.ru



3.


Сколько надо прибавить к числу 8, чтобы получить 12?

а) 10;


б) 6;

в) 4.

ПОДУМАЙ!!!!




Ты ошибся, подумай ещё!



Ты молодец!



www.EB.ru

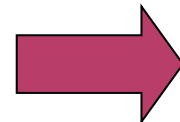


**Через 4 года Маше исполнится 10 лет.
Сколько лет Маше сейчас?**


а) 4;

б) 5;

в) 6.



ПОДУМАЙ!!!!



Ты ошибся, подумай ещё!





ТЫ - МОЛОДЕЦ!

У тебя все отлично получилось!!!

