


Точки и линии.



Математический диктант

- ❖ К 2 прибавьте 4
- ❖ Увеличьте 1 на 4
- ❖ Сумма 3 и 3
- ❖ Разность 4 и 1
- ❖ 4 уменьшите на 2

6 5 6 3 2

Сравни числа

$$2 < 5$$

$$2 > 1$$

$$6 > 3$$

$$3 < 4$$

$$4 = 4$$

$$2 < 4$$

Вставьте знак «+» или «-»

$$4 \boxed{-} 3 = 1$$

$$6 \boxed{-} 3 = 3$$

$$1 \boxed{+} 2 = 3$$

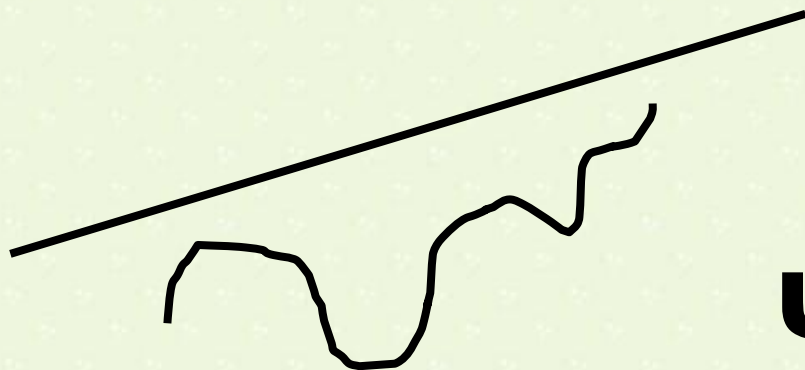
$$4 \boxed{+} 2 = 6$$

$$5 \boxed{-} 4 = 1$$

Расшифруй слова

4 3 5 1 2

И Н Л Я И

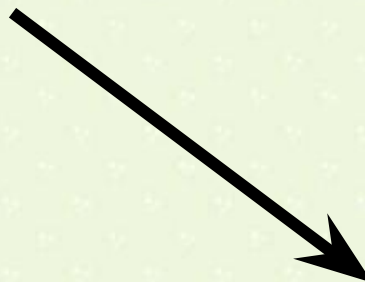


3 2 4 1 5
Ч О К Т А

■

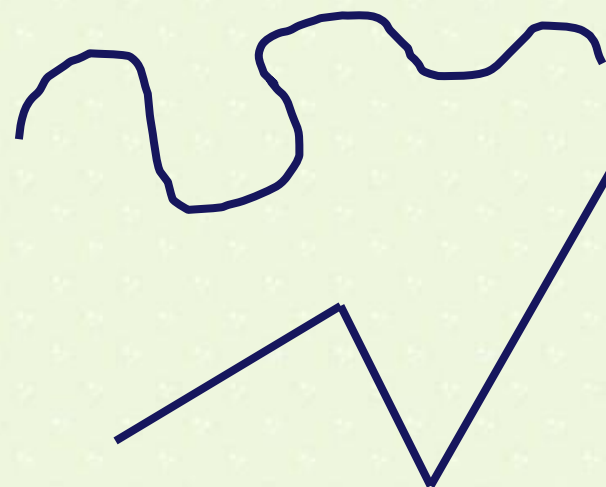
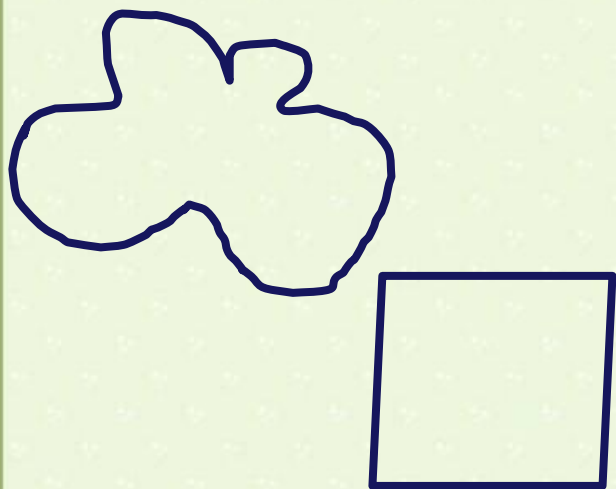
ТОЧКИ И ЛИНИИ

Линия



замкнутая

незамкнутая





Презентацию выполнила **Бабаянц А. А.**,
учитель начальных классов
МБОУ СОШ № 24