



по математике

Начать тест

Вопрос 1



На сколько грибов меньше, чем яблок?


подсказка
а

Вопрос 2



На сколько мальчиков больше, чем девочек?

Вопрос 3



На сколько 5 меньше, чем 10 ?



Вопрос 4



На сколько огурцов больше, чем помидоров?

Вопрос 5

Помощь



На первой полке – 6 к.




На второй полке – 3 к.

на ? к.


Вопрос 6

Помощь

3 см



5 см



на ? см



Вопрос 7



На сколько

больше, чем

?

Вопрос 8



На сколько

меньше, чем

Вопрос 9



На сколько

больше, чем

?

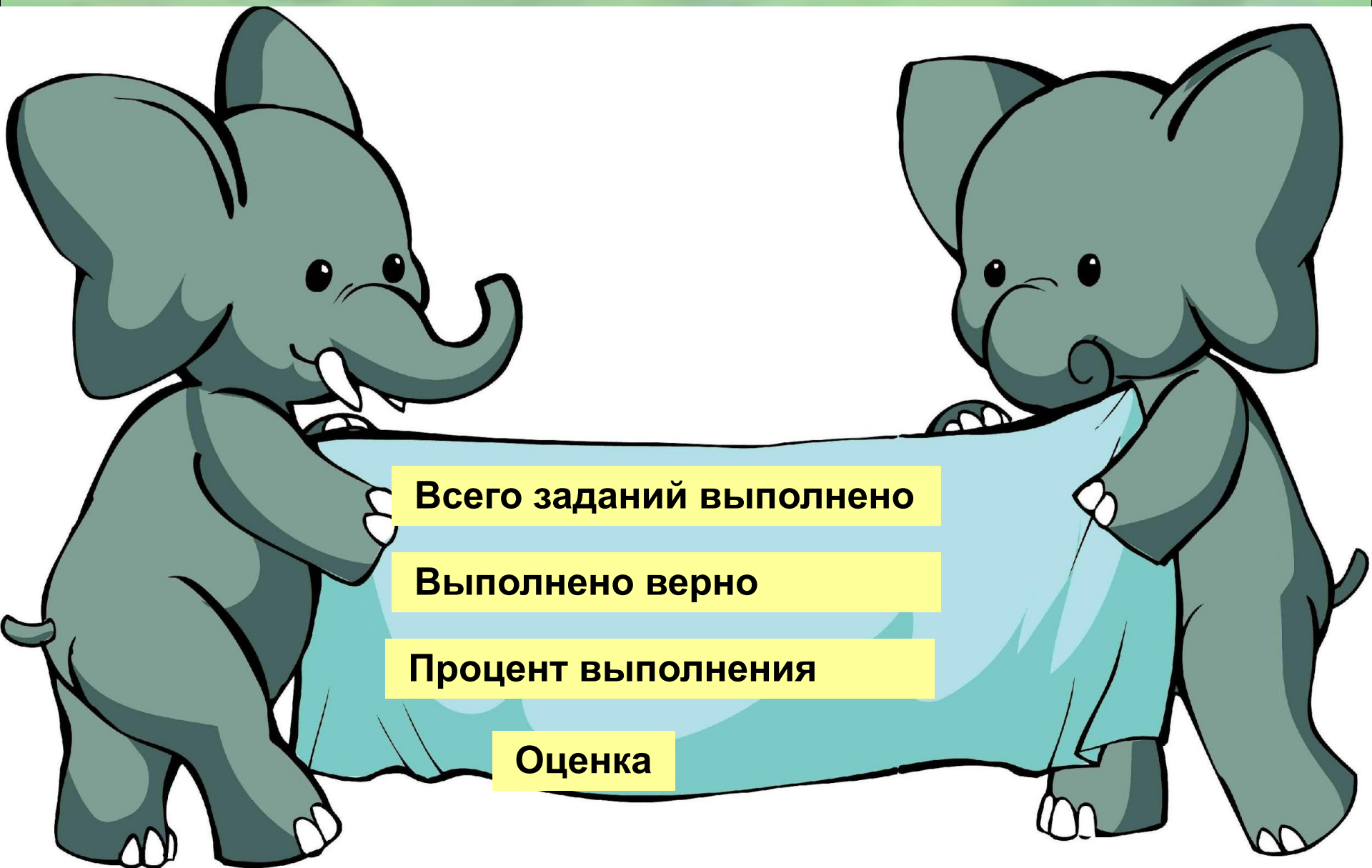
Вопрос 10



На сколько

больше, чем

?



Всего заданий выполнено

Выполнено верно

Процент выполнения

Оценка

Тест составлен по обучающим материалам
**«Создание интерактивных тестов в MS
PowerPoint с использованием Visual Basic
for Application».**

<http://i051.radikal.ru/0910/b7/8f711843277d.jpg> - алфавит Диддлы

<http://i052.radikal.ru/0806/b5/6a506cc35ed7t.jpg> - девочка

<http://www.lenagold.ru/fon/clipart/e/egik/egiky43.jpg> – ежик

http://t3.gstatic.com/images?q=tbn:qQ57I7ofnQb0gM:http://adalin.mospsy.ru/img2/z_33.gif - ежик

<http://i001.radikal.ru/0908/31/4cd680689e40.png> - Знайка

<http://902www.com/img/book2.gif> - книга

<http://i025.radikal.ru/0805/d4/9d03a5db521d.png> - книги

<http://re.foto.radikal.ru/0707/af/9c867ab06022t.jp> - книги

<http://i056.radikal.ru/0806/4f/23c6b5f3c0a4t.jpg> - мальчик

http://www.eda-life.ru/Files/Image/N_7/20070809_1.jpg - огурцы

http://www.solnet.ee/sol/004/raskraski/ov11_3.gif - помидоры

<http://i013.radikal.ru/0804/f0/81b1d2b62ad4.png> - слоны

<http://lenagold.ru/fon/clipart/t/tulp/tulip183.jpg> - тюльпаны

<http://s49.radikal.ru/i124/0904/bd/d4e45d4d9323.png> - тюльпаны

<http://fonegallery.narod.ru/green/green.files/green77.jpg> - фон листья

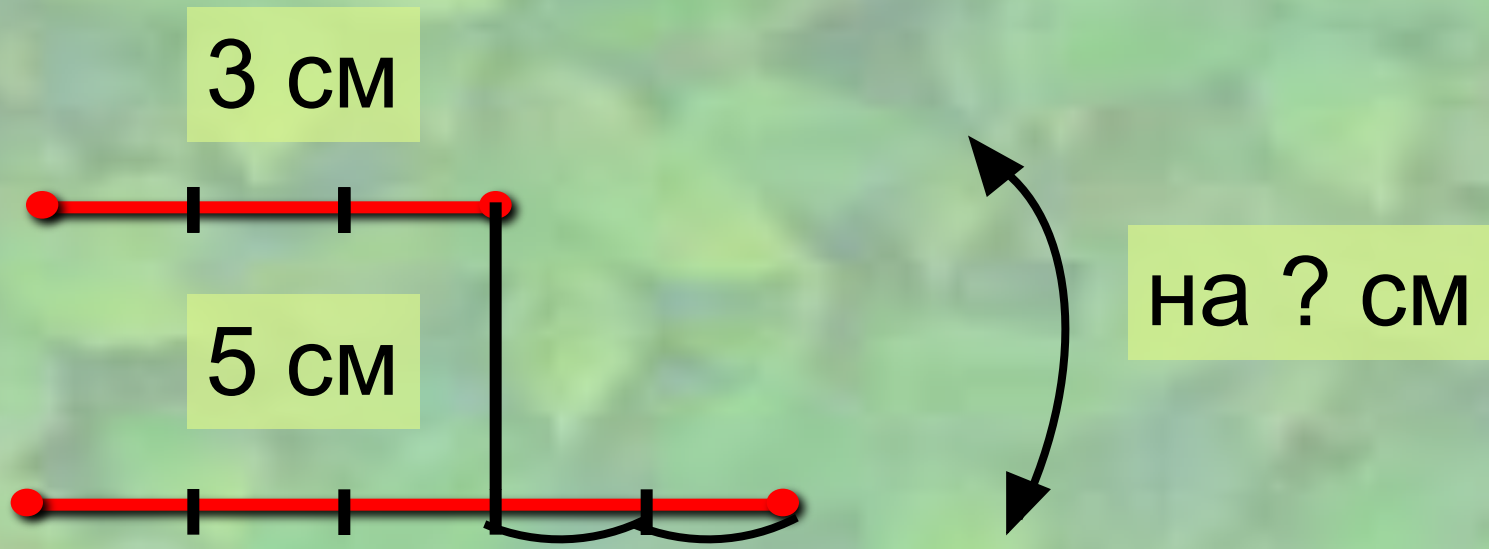
<http://i023.radikal.ru/0805/7b/b1accebf05a5t.jpg> - цифры






Чтобы узнать, на сколько
одно число больше или
меньше другого, надо
из большего числа
вычесть
меньшее.







на ? к.

