

Таблица

Умножение числа 2




Николашина Г.Б.
МОАУ «Лицей»


Сколько будет 2×6 ?



16



18




12




Чтобы перейти к следующему слайду, нажмите ПРОБЕЛ


Сколько будет 2×9 ?



19



18




17




Чтобы перейти к следующему слайду, нажмите ПРОБЕЛ


Сколько будет 2×7 ?



14



12




15




Чтобы перейти к следующему слайду, нажмите ПРОБЕЛ


Сколько будет 2×8 ?



15



17




16




Чтобы перейти к следующему слайду, нажмите ПРОБЕЛ


Сколько будет $18 : 2$?



7



9




8




Чтобы перейти к следующему слайду, нажмите ПРОБЕЛ


Сколько будет $14 : 2$?



7



6




8




Чтобы перейти к следующему слайду, нажмите ПРОБЕЛ


Сколько будет $12 : 2$?



7



5




6




Чтобы перейти к следующему слайду, нажмите ПРОБЕЛ


Сколько будет $18 : 2$?



9



7



8



Чтобы перейти к следующему слайду, нажмите ПРОБЕЛ



МОЛОДЕЦ !