



МКОУ «СОШ ст. Евсино»  
Искитимского района  
Новосибирской области



# Тренажёр «Кого сфотографировал Шарик?»



Автор:  
Фокина Лидия Петровна,  
учитель начальных классов  
2014



## Дорогой друг!

Шарик очень любит фотографировать.

Хочешь узнать кого он сфотографировал?

Для этого ответь на вопрос и  
выбери правильный ответ.

Если ты ответишь правильно,  
то перейдёшь к следующему заданию.

**Желаю удачи!**



**Какое число состоит из 1 дес. 6 ед.?**

11	12	13
14	15	16
17	18	19




**Какое число стоит между числами  
10 и 12?**


11	12	13
14	15	
17	18	19







**Какое число идёт после числа 16?**



Какое число стоит перед числом 14?




Какое число больше 17 на 2?

	12	
14	15	
	18	19




Найди разность чисел 16 и 2.






Первое слагаемое 10, второе 8.  
Найди сумму.



Найди разность чисел 20 и 8.



**Сколько нужно прибавить к 5,  
чтобы получить 20?**



# МОЛОДЕЦ!

ВЫХО  
Д



# Используемые источники:

Шарик

[http://img-fotki.yandex.ru/get/9502/16969765.1b3/0\\_879f8\\_50c92a17\\_M.png](http://img-fotki.yandex.ru/get/9502/16969765.1b3/0_879f8_50c92a17_M.png)

Капитошка [http://yka.kz/\\_dr/3/89037322.png](http://yka.kz/_dr/3/89037322.png)

Комар

[http://kira-scrap.ru/KATALOG/MULTY\\_NASCHI/1/0\\_8c146\\_8397ea83\\_M.png](http://kira-scrap.ru/KATALOG/MULTY_NASCHI/1/0_8c146_8397ea83_M.png)

Колобок

[http://img-fotki.yandex.ru/get/9164/16969765.1b5/0\\_87ae7\\_ac6993f4\\_M.png](http://img-fotki.yandex.ru/get/9164/16969765.1b5/0_87ae7_ac6993f4_M.png)

Лягушонок

[http://img-fotki.yandex.ru/get/9171/16969765.1bd/0\\_880e1\\_5726f50e\\_M.png](http://img-fotki.yandex.ru/get/9171/16969765.1bd/0_880e1_5726f50e_M.png)

Золотая рыбка

[http://img-fotki.yandex.ru/get/6410/16969765.50/0\\_69197\\_fe386da9\\_M.png](http://img-fotki.yandex.ru/get/6410/16969765.50/0_69197_fe386da9_M.png)

