




«Натуральные числа и действия над ними»

Задания для устной и письменной работы.

Математика 5 класс.



Автор работы:
учитель математики г.Казань
Республика Татарстан
Хаярова Карина Халиловна.



Какое число в натуральном ряду
является предыдущим числу 9100?

900

9

949

9

909

9

9199



Какая цифра записана в разряде единиц
класса тысяч числа 965321?

1

5

3

6



Как записывают цифрами число «шесть миллионов сорок тысяч четыреста»?

604040
0

640040
0

600440
0

640004
0



какую из данных цифр можно подставить
вместо звёздочки в запись $2463 > 24*7$, чтобы

9

8

5

6



Чему равна длина отрезка AD,
изображённого на рисунке, если
 $AC=22\text{см}$, $BD=14\text{см}$, $BC=5\text{см}$?

19

27



36

31



Какая из отмеченных точек не принадлежит лучу KP , изображённому на рисунке?

A

B

A

M

P

K

B

K

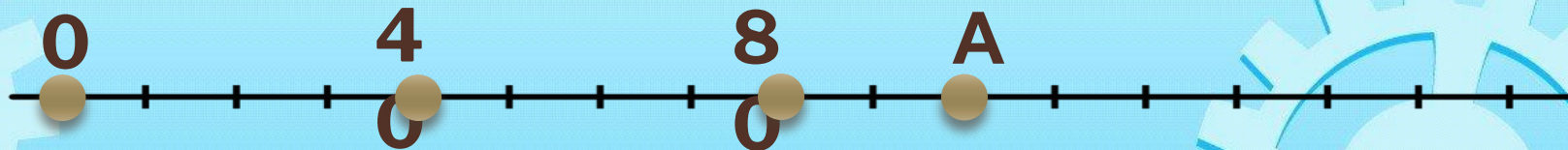
M



Чему равна координата точки А,
изображённой на рисунке?

91

82



100

110



Для нумерации страниц книги
использовано 192 цифры. Сколько
страниц в этой книге?

99

98

100

101



К какому четырёхзначному числу надо прибавить наибольшее двухзначное число, чтобы получилось наименьшее пятизначное число

9900

9901

9902


8999



Чему равна длина отрезка AD,
изображённого на рисунке, если
 $AC=18\text{см}$, $BD=21\text{см}$, $BC=5\text{см}$?

31

32



33



34



Какая из отмеченных точек не принадлежит лучу АВ, изображённому на рисунке?

А

В

М

С

В

А

К

К

М



ПОДСТАВИТЬ ВМЕСТО ЗВЁЗДОЧКИ В ЗАПИСЬ
 $2351 > 23 * 7$. ЧТОБЫ ОБРАЗОВАЛОСЬ ВЕРНОЕ

4

7

5

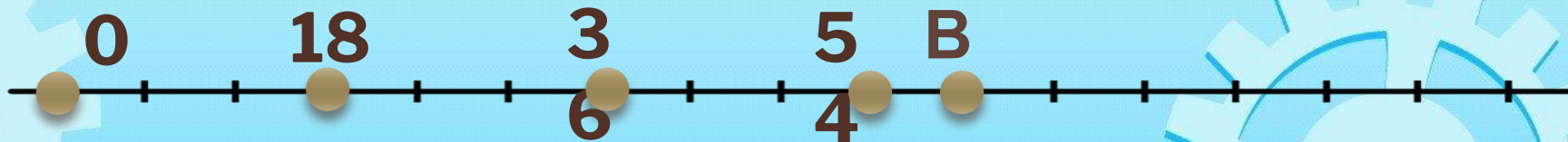
6



Чему равна координата точки В,
изображённой на рисунке?

63

70



60

56



**Найдите наиболее удобным способом
сумму всех двухзначных чисел**

4900

4905

4902

4903





Источники

[https://easyen.ru/load/shablony prezentacij/raznye shablony/shablon animirovannaja sorbonka/529-1-0-51388](https://easyen.ru/load/shablony_prezentacij/raznye_shablony/shablon_animirovannaja_sorbonka/529-1-0-51388) --анимированная сорбонка шаблон

<https://i.ya-webdesign.com/images/blank-number-line-png.png> --ось

https://krot.info/uploads/posts/2020-02/1580842603_9-p-foni-s-robototekhnikai-19.jpg --фон

<https://avatars.mds.vandex.net/get-pdb/1651893/3696f7e6-e2af-47be-8498-5caf72edc9f8/s1200?webp=false> -Фиксик

<https://avatars.mds.vandex.net/get-pdb/1899556/cdf0f862-edf5-4f65-bc5b-f36c7dafaab1/s1200?webp=false> -- Фиксик

https://3.bp.blogspot.com/-OXaz5MqUQ_o/WUQduC_bP-I/AAAAAAAAABIds/RSI_loiH8TgaGfQY4nEXdo4bVqpgiBqSQCKgBGAs/s1600/fixiki_46.png -- Фиксик

<https://avatars.mds.vandex.net/get-pdb/1748372/ad6105a2-4a2e-4f8d-bd79-9826980233a5/s1200?webp=false> -- Фиксик

https://2.bp.blogspot.com/-J92JP_hPdHk/WUQduBi6NoI/AAAAAAAAABIds/cv4HJdj_wiEWBHPjJAD9d3QPFT26yA7OQCKgBGAs/s1600/fixiki_9.png -- Фиксик

https://ds04.infourok.ru/uploads/ex/0fb2/00138429-60b29c2a/hello_html_741f6edc.png -- Фиксик

http://raskraski-tut.ru/pages/images_fiksiki/a1_nolik.png -- Фиксик

<https://banner2.cleanpng.com/20180711/elq/kisspng-toy-educational-game-tabletop-games-expansion-s-c-5b4613b523cd44.7801864915313192211467.jpg> -- Фиксик

<https://ds04.infourok.ru/uploads/ex/0bb8/0007723f-aef0c48d/img8.jpg> -- Фиксик

<http://www.edu54.ru/upload/iblock/bfb/Geroi-multika-nachnut-obuchat-detey-russkomu-yazyku.jpg> --за партами

**Шаблон выполнила Башкирова Жанетта Геннадьевна, преподаватель
хорового класса МБУ ДО Озерненская ДШИ**

