

# Тренажёр «Решение задач» 2 класс




Автор разработки  
учитель начальных классов  
МБОУ СОШ № 11 г. Азова  
Анохина Ирина Николаевна



# Инструкция:

1. Прочитай внимательно задачу.
2. Рассмотрите варианты решения задачи, выбери нужное и щёлкни мышью по правильному решению задачи.
3. Если решение верное, то появится Знайка, если неверное – Незнайка.
4. Щёлкни мышью на стрелочку и решай следующую задачу.





В магазин привезли 60 пакетов с молоком, а с кефиром - на 10 пакетов больше. Сколько пакетов с кефиром привезли в магазин?



$$60 + 10 = 70 \text{ (п.)}$$

Ответ: 70 пакетов с кефиром.

$$60 - 10 = 50 \text{ (п.)}$$


Ответ: 50 пакетов с кефиром.



- 60 п.



-? на 10 п. >





У дедушки 10 кроликов. Из них 6 кроликов белые. А остальные чёрные. Сколько чёрных кроликов у дедушки?



$$10 - 6 = 4 \text{ (к.)}$$

Ответ: 4 чёрных кролика.




?

10 к.


$$10 + 6 = 16 \text{ (к.)}$$

Ответ: 16 чёрных кроликов.





На ёлке висело 12 шаров. 3 шара  
разбилось. Сколько шаров  
осталось на ёлке?




$$12 + 3 = 15 \text{ (ш.)}$$

Ответ: 15 шаров.

$$12 - 3 = 9 \text{ (ш.)}$$

Ответ: 9 шаров.





Бабочек 11 штук, а стрекоз на 3 штуки меньше. Сколько стрекоз?



$$11 - 3 = 8 \text{ (с.)}$$

Ответ: 8 стрекоз.




-11 шт.

$$11 + 3 = 14 \text{ (с.)}$$

Ответ: 14 стрекоз.



-? на 3 шт.<





У Пеструшки было 8 цыплят, затем вывелись ещё 5 цыплят. Сколько цыплят стало у Пеструшки ?




$$8 + 5 = 13 \text{ (ц.)}$$


Ответ: 13 цыплят.

$$8 - 5 = 3 \text{ (ц.)}$$

Ответ: 3 цыплёнка.



?ц.






Семенами моркови засеяно 12  
грядок, семенами свёклы 5  
грядок. На сколько больше  
грядок засеяно семенами  
моркови, чем свёклы?



$$12 + 5 = 17 \text{ (гр.)}$$

Ответ: 17 грядок



-12 гр.


на ? >

$$12 - 5 = 7 \text{ (гр.)}$$

Ответ: на 7 грядок  
больше.



-5 гр.







Сначала срезали 7 красных тюльпанов, а затем 5 белых. Сколько тюльпанов срезали?



$$7 - 5 = 2 \text{ (т.)}$$


Ответ: 1 тюльпан.

$$7 + 5 = 12 \text{ (т.)}$$

Ответ: 12 тюльпанов.



? т





Когда в коробку с карандашами положили ещё 4 карандаша, в ней стало 12 карандашей. Сколько карандашей было в коробке?




$$12 - 4 = 8 \text{ (к.)}$$

Ответ: 8 карандашей.

$$4 + 12 = 16 \text{ (к.)}$$

Ответ: 16 карандашей.

? к





Отец и сын поймали 57 карасей. Из них 30 карасей поймал отец. Сколько карасей поймал сын?



$$57 - 30 = 17 \text{ (к.)}$$

Ответ: 17 карасей.

$$57 + 30 = 87 \text{ (к.)}$$


Ответ: 87 карасей.

30 к.

?к.



57к.





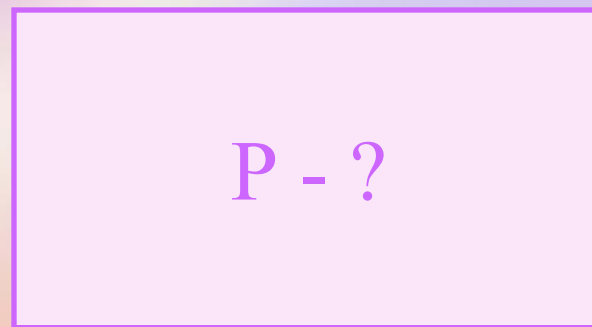
Ширина прямоугольника равна 4 см, длина – 6см. Найди периметр прямоугольника.



6см

$$4 + 6 = 10 \text{ (см.)}$$


Ответ: P– 10 см.



4см

$$4 + 6 + 4 + 6 = 20 \text{ см.)}$$

Ответ: P– 20 см.





В одной папке 9 файлов, а в другой в 4 раза больше. Сколько файлов в другой папке?





$$9 \times 4 = 36 \text{ (ф.)}$$

Ответ: 36 файлов.


$$9 + 4 = 13 \text{ (ф.)}$$

Ответ: 13 файлов.

9 ф.



? ф.



# Источники:

- ❖ <http://soprovozhdenie.org/images/uslugi/zn1.png> - Знайка
- ❖ <http://topolek.ubin.edu54.ru/images/orig.png> - Незнайка
- ❖ <https://yandex.ru/search/?text> - пакеты молока, кефира
- ❖ <https://yandex.ru/search/?text> – тюльпаны картинки
- ❖ <https://yandex.ru/search/?text> - фото кроликов
- ❖ <https://yandex.ru/search/?text> - ёлочные шары
- ❖ <http://www.ailita.ru/> - семена в пакетах
- ❖ <https://yandex.ru/images> - картинки курочка и цыплята
- ❖ <https://yandex.ru/search/?text> - картинки карандаши
- ❖ <https://yandex.ru/search/?text> – фото бабочки, стрекозы
- ❖ Н.Б.Истомина, О.П.Горина Математика /тестовые задания/ 2 класс. Смоленск: Ассоциация XXI век, 2015г.