



**МКОУ «СОШ ст. Евсино»
Искитимского района
Новосибирской области**

Тренажёр-раскраска

Рыбка

Математика 1 класс
УМК любой

**Автор - составитель:
учитель начальных классов
Фокина Лидия Петровна
2013год**





Дорогой друг!

Посчитай и выбери один из ответов.

Если ты сосчитаешь верно,
то перейдёшь к следующему заданию.

Желаю удачи!



$$10 + 10 =$$



20

7

18

$$12 + 6 =$$



20

7

18

$$14 - 7 =$$



20

7

18

$$15 - 10 =$$



17

5

12

$$9 + 8 =$$



17

5

12

$$6 + 6 =$$



17

5

12

$$17 - 9 =$$




8

16

6

$$11 - 5 =$$




8

16

6

$$8 + 8 =$$




8

16

6

$$13 + 2 =$$




3

15

4

$$20 - 17 =$$




3

15

4

$$12 - 8 =$$




3

15

4

$$6 + 14 =$$




20

7

18

Молодец!



ВЫХОД



Используемые ИСТОЧНИКИ:

Рыбка

<http://detenki.ucoz.ru/ph/42/2/275148472.jpg>

Рамка

<http://s002.radikal.ru/i200/1003/67/9f4d93848675t.jpg>

