

МБОУ «Чичканская ООШ»

Тренажёр

р

Три

Медведя
Математика 7 класс
УМК любой

**Автор - составитель:
учитель начальных классов
Мухаметшина Т. Р.**



$$10 - 7$$

Дорогой друг!

Посчитай и выбери один из ответов.

Если ты сосчитаешь верно,
то перейдёшь к следующему
заданию.

Желаю удачи!

0

1

2

3

4

5

6

7

8

9

10



$$1 + 5$$

- 0
- 1
- 2
- 3
- 4
- 5
- 6
- 7
- 8
- 9
- 10



$$9 - 7$$

0

1

2

3

4

5

6

7

8

9

10



$$1 + 8$$

0

1

2

3

4

5

6

7

8

9

10



10 - 6

0

1

2

3

4

5

6

7

8

9

10



$$2 + 5$$

0

1

2

3

4

5

6

7

8

9

10



$$4 + 5$$

0

1

2

3

4

5

6

7

8

9

10



6 - 6

- 0
- 1
- 2
- 3
- 4
- 5
- 6
- 7
- 8
- 9
- 10



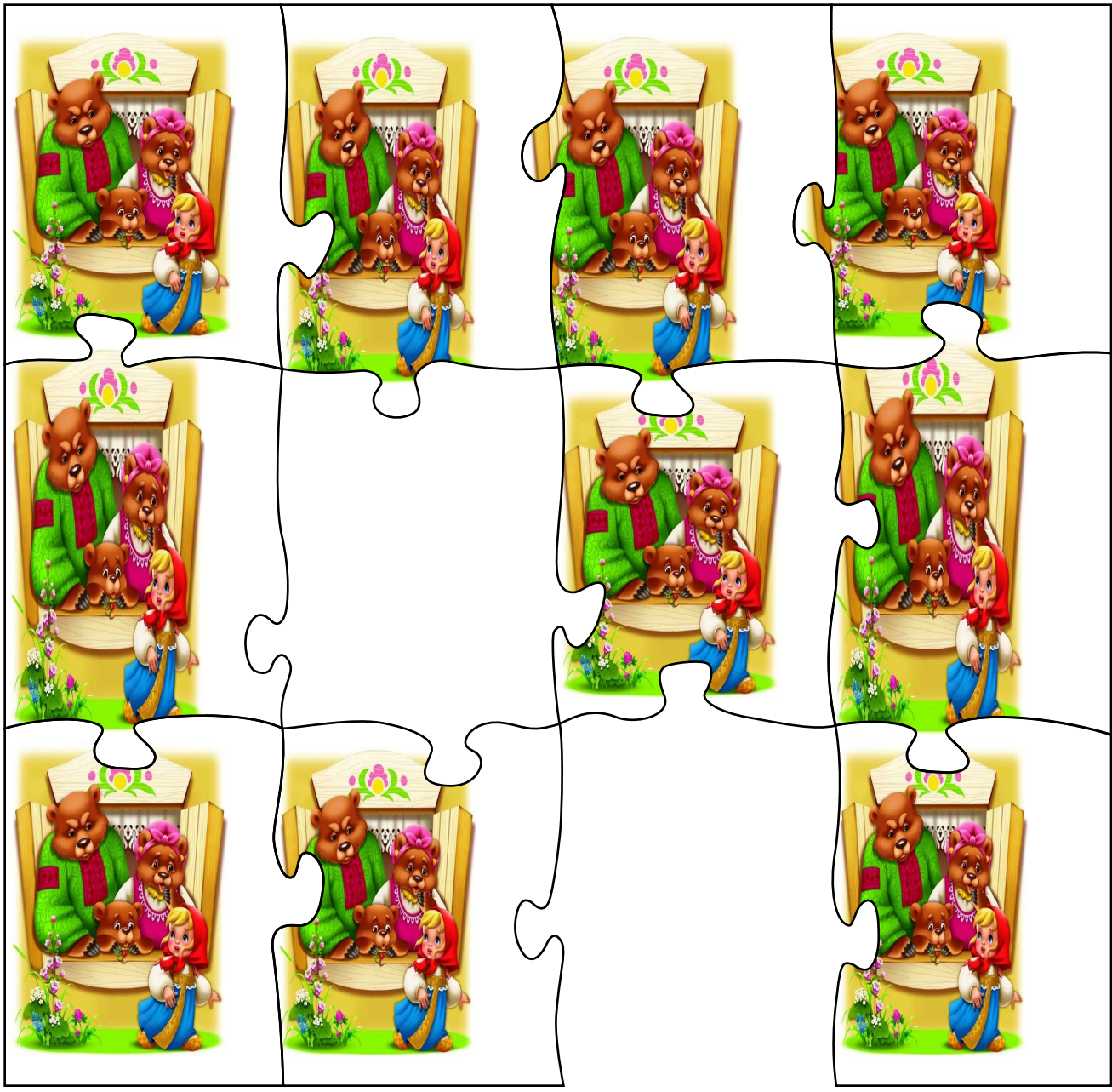
$$6 + 3$$

- 0
- 1
- 2
- 3
- 4
- 5
- 6
- 7
- 8
- 9
- 10

$8 - 5$



- 0
- 1
- 2
- 3
- 4
- 5
- 6
- 7
- 8
- 9
- 10



$2 + 4$

0

1

2

3

4

5

6

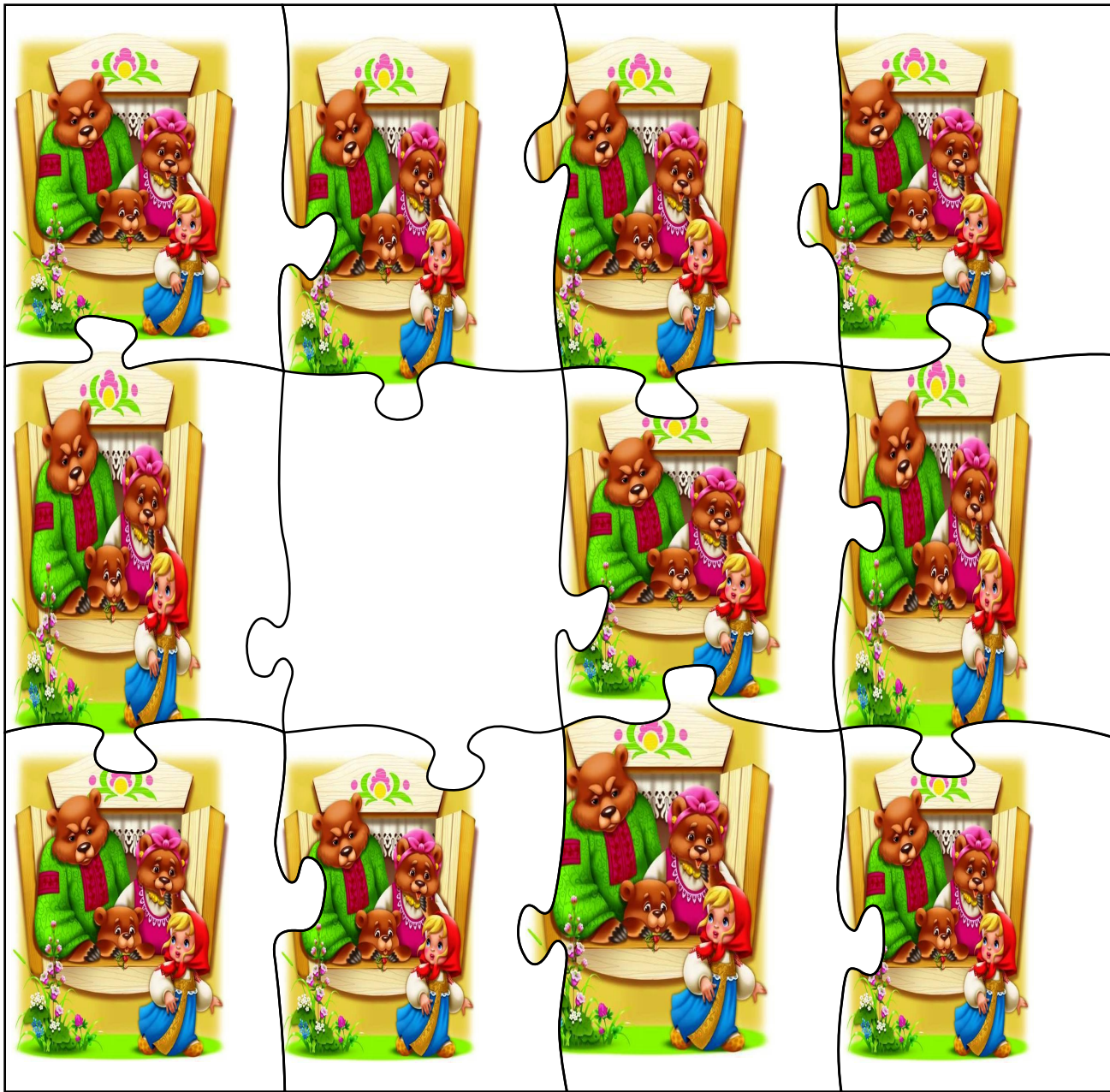
7

8

9

10

$$7 - 5$$



0

1

2

3

4

5

6


7

8

9

10

ВЫХОД





Используемые источники:

[Шаблон пазлов](#)

Рамка

<http://graphics.in.ua/cat/PSD.Three.Bears.Frame.1772x1181.jpg>

Иллюстрация

<http://antalpiti.ru/files/99604/tri.medveda.jpg>

