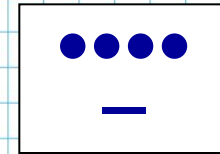






Числа и цифры

Римские цифры

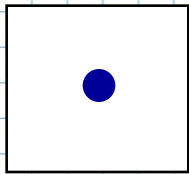
Числа и цифры. Римские цифры



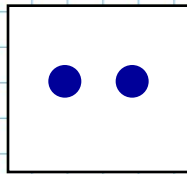
Знаки  **и**  -
**цифры древнего
народа майя**



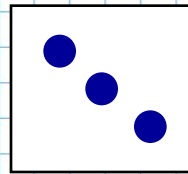
Числа и цифры. Римские цифры



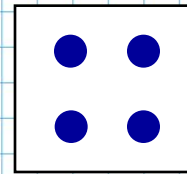
1



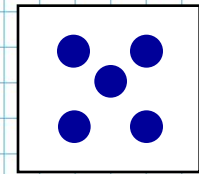
2



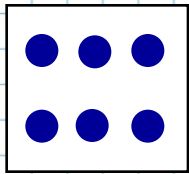
3



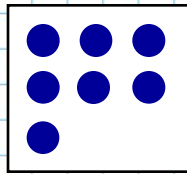
4



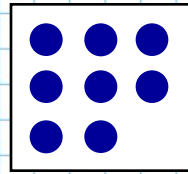
5



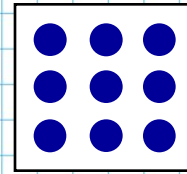
6



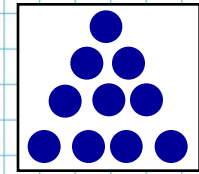
7



8



9



10

Цифры

1, 2, 3, 4, 5, 6, 7, 8, 9, 0
называются арабскими

1-1	6-6
2-2	7-7
3-3	8-8
4-4	9-9
5-5	0-0

Числа и цифры. Римские цифры

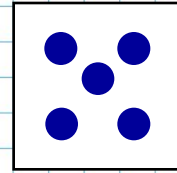
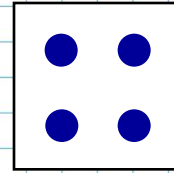
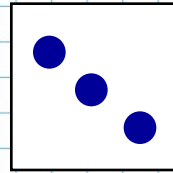
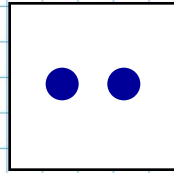
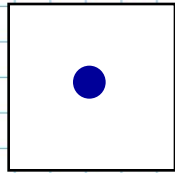
I

II

III

IV

V



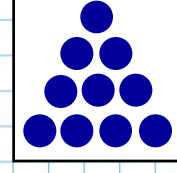
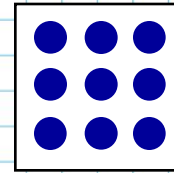
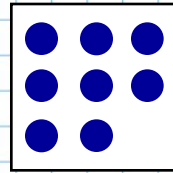
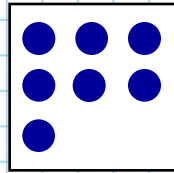

VI

VII

VIII

IX

X



Римские цифры



I



II



III



IV



V

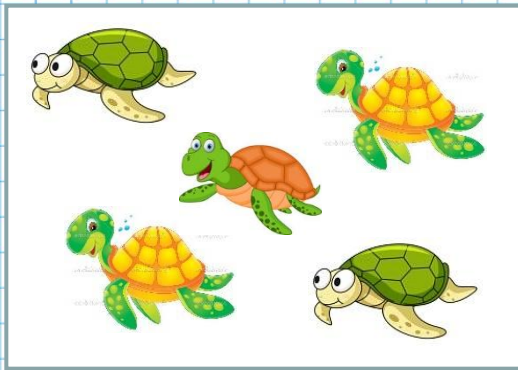


X

Спишите:


I	II	III	IV	V	VI	VII	VIII	IX	X
---	----	-----	----	---	----	-----	------	----	---

Запишите число изображений
арабскими и римскими цифрами:



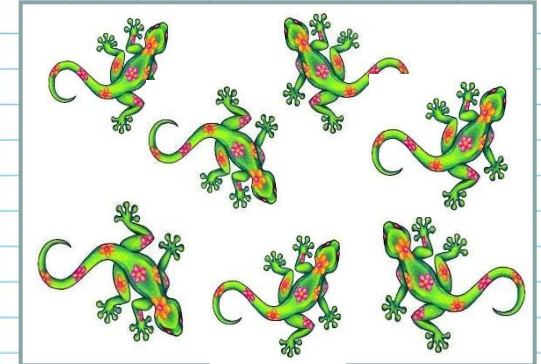
5

V



10

X



7

VII

**Что вы можете рассказать о числах?
А о цифрах?**

С помощью чисел мы называем количество предметов: три, семь, девять...

С помощью чисел мы называем предметы по порядку: первый, второй, третий...

Цифра – знак. С помощью цифр мы записываем числа.

- **Найдите закономерность. Назовите и запишите пропущенные числа римскими цифрами:**

I	II	III	IV	V	VI	VII	VIII	IX	X
---	----	-----	----	---	----	-----	------	----	---

- **Назовите числа, следующие сразу за числами: V; VIII; IX**
- **Назовите числа, предыдущие числам: II; IV; X**

Выпишите выражения с равными значениями

$$5 + 2 = 7$$

$$3 + 4 = 7$$

$$10 - 3 = 7$$

$$6 + 1 = 7$$

$$1 + 6 = 7$$

$$2 + 5 = 7$$

$$6 + 4 = 10$$

$$4 + 3 = 7$$

Урок окончен!
