

Турнир смекалистых

**«Нам вместе
весело всегда»**



Разминка

$$8 \cdot 7 = 56$$

$$3 \cdot 4 = 12$$

$$5 \cdot 7 = 35$$

$$4 \cdot 4 = 16$$

$$7 \cdot 7 = 49$$

$$8 \cdot 4 = 32$$

$$3 \cdot 9 = 27$$

$$6 \cdot 5 = 30$$

$$2 \cdot 8 = 16$$

$$4 \cdot 7 = 28$$

 $2 \cdot 9 = 18$

$5 \cdot 9 = 45$

$7 \cdot 3 = 21$

$8 \cdot 6 = 48$

$4 \cdot 6 = 24$

$9 \cdot 2 = 18$

$9 \cdot 5 = 45$

$3 \cdot 7 = 21$

$6 \cdot 8 = 48$

$6 \cdot 4 = 24$

Найди общее и особенное



ПАЛЬМА



ЕЛЬ




ВОЛК



РЫСЬ

Слова «НАОБОРОТ»

ТОЛСТЫЙ






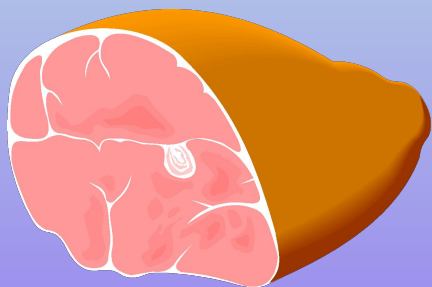
ХУДОЙ






плачет



смеется

Подбери пару





Какой должна быть следующая фигурка в ряду? Продолжи ряд:



Магический квадрат

5		2
	3	6
4		1



	3	3
5	0	
1	4	



Расставьте знаки:

2...6...3...4...5...8=12



Продолжите числовой ряд:

9, 1, 7, 5, 1 (3, 1)

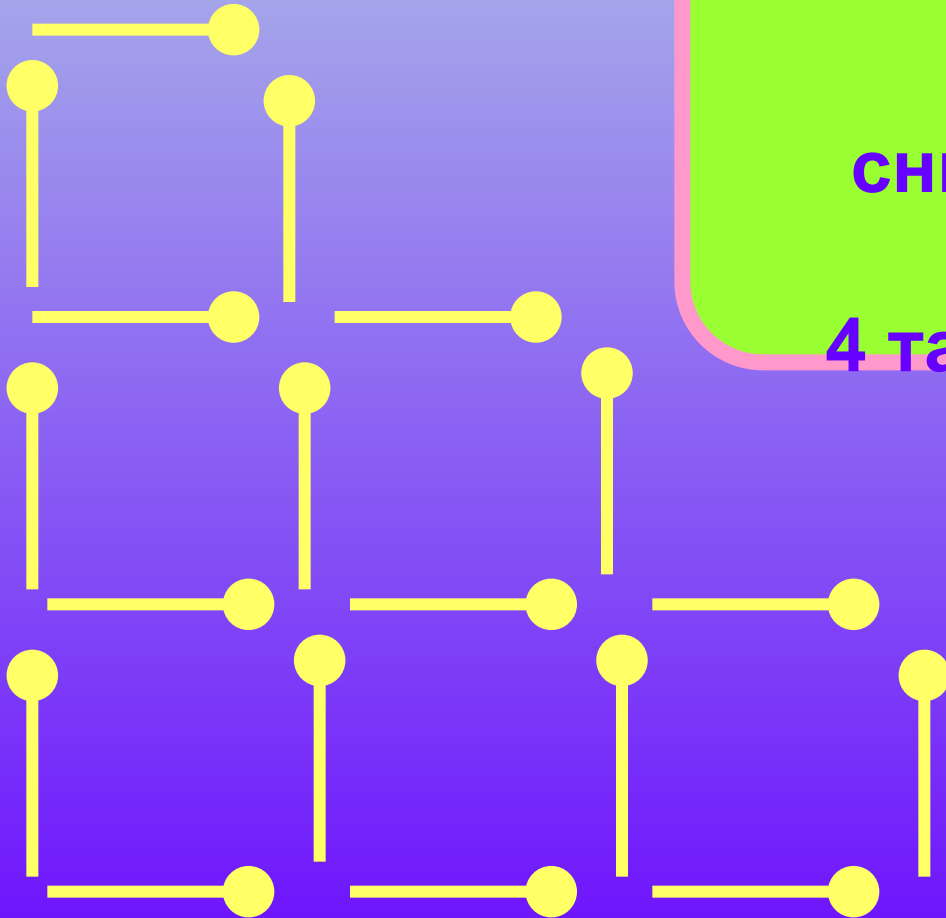
4, 5, 8, 9, 12, 13, (16, 17)

1, 1, 3, 3, 5, 5 (7, 7)

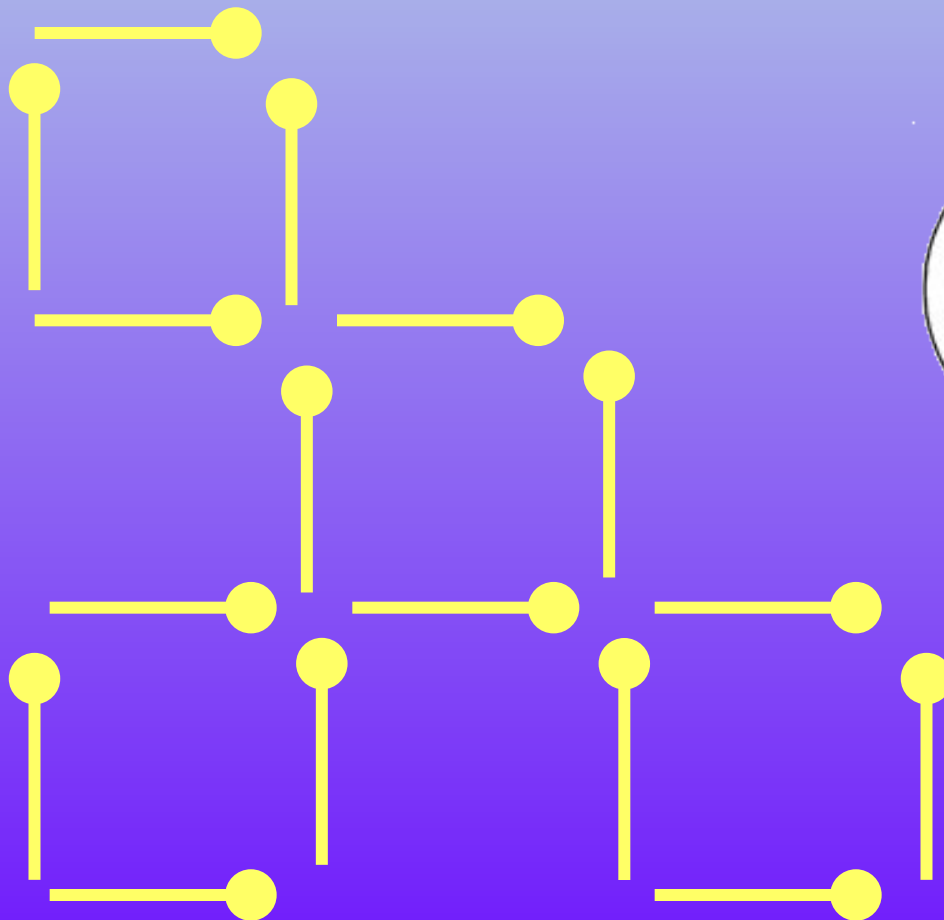


Волшебные спички

Из 18 спичек,
составляющих
квадратиков,
снимите 2 спички так,
чтобы осталось
4 таких же квадратика.



Ответ:





«Исключите лишнее»

- а) сложение, умножение, деление, слагаемое, вычитание;
- б) роза, тюльпан, нарцисс, цветок, гладиолус;
- в) муха, ласточка, страус, ворона;
- г) минута, секунда, час, вечер;
- д) медведь, еж, шапка, человек.



Подберите пару:

- а) песня: композитор = самолет : ?
(аэродром, горючее, конструктор,
летчик, истребитель)
- б) школа: обучение = больница : ?
(доктор, ученик, лечение,
учреждение, больной)
- в) птица: гнездо = человек : ?
(люди, рабочий, птенец,
дом, разумный)

Разгадайте ребус:

40 о / ка



Попробуйте сосчитать:

6	10	13	2
9	19	1	14
3	8	20	7
5	16	11	18
12	17	15	4



Докончите предложение:

а) У сапога есть ...

(шнурок, пряжка, подошва, ремешки, пуговица)

б) В теплых краях обитает ...

(медведь, олень, волк, верблюд, тюлень)

в) Вода всегда ...

(прозрачная, холодная, жидкая, белая, вкусная)

Интересные задачи:



а) Четыре человека ждали автобус 15 минут.

Сколько времени ждал каждый?

б) Будильник поставили на 10 часов утра,

а спать легли в 9 часов вечера.

Сколько времени ушло на сон?



успехов!!!

