

Страна Геометрия



Устный счёт:

$$\begin{array}{r} 45 \\ - 40 \\ \hline \end{array} = 5$$

$$\begin{array}{r} 37 \\ + 3 \\ \hline \end{array} = 6$$

$$\begin{array}{r} 65 \\ - 2 \\ \hline \end{array} = 7$$

$$\begin{array}{r} 59 \\ - 9 \\ \hline \end{array} = 5$$

$$17 + (6 + 4) = 27$$

$$(80 - 30) - 40 = 10$$

$$6 + 6 + 6 = 6 \cdot 3$$

$$3 + 3 + 3 + 3 = 3 \cdot 4$$

и

е

м

п

е

т

р

р

Периметр

прямоугольника



Задача № 1.

- У Серёжи 2 конфеты.
- На 3 больше их у Светы.
- А у меньшего Андрюши –
- На 2 больше, чем у Ксюши.
- А у Ксюши их с утра
- Столько, сколько у Петра.
- У Петра же их при этом
- На 2 меньше, чем у Светы.
- Кто мне верный даст ответ –
- Сколько у детей конфет?

Задача № 2

- Было утром у Иринки
- 20 персиков в корзинке.
- Но потом пришли друзья:
- Таня, Света и Илья.
- На скамейке посидели –
- Вместе персики все съели.
- Я услышать бы хотел –
- Сколько фруктов каждый съел?

Задача № 3


- В гости к белому медведю
- 33 пингвина едут.
- Едут аист, марабу, бегемот и кенгуру.
- Едут к мишке прямо с Нила
- 2 зубастых крокодила.
- Едет страус, едет львёнок и
- Трёхмесячный слонёнок.
- Нужно срочно посчитать,
- Сколько шуб им нужно дать?
- Сколько валенок к тому же,
- Чтоб в суровых тех краях
- Не замёрзнуть бы в гостях?



©www.Lohmatik.ru


- Периметр – это сумма длин всех сторон.
- Противоположные стороны прямоугольника равны и параллельны.
- $P=(a+b)*2$

1 группа





2 группа

Mozaiek



molen



3 группа



Рефлекси

Я

- Я смог решить...
- Я повторил...
- Мне было трудно...
- Мне понравилось...