

Есть герой в мире
сказочном
Он смешной и
загадочный,
На крыше дом, а в
нём живёт он –
Добрый . . .



Найдите значение выражения удобным способом.

$$(45 + 47) - 45 =$$

$$45 - 45 + 47 = 47$$

$$(37 + 46) - 38 =$$

$$37 - 37 + 46 - 1 = 45$$

$$(37 + 46) - 29 =$$


$$37 - 27 + 46 - 2 = 44 + 10 = 54$$


$$(69 + 12) - 57 =$$

$$69 - 50 + 12 - 7 = 19 + 5 = 24$$

$$(36 + 38) - 27 =$$

$$36 - 26 + 38 - 1 = 10 + 37 = 47$$



The slide features a light purple gradient background. On the left side, there are three stylized balloons in yellow, light blue, and light purple, each with yellow triangular rays emanating from it, suggesting a festive or celebratory theme. The main text is centered and reads: « Сложение и вычитание величин »

« Сложение и
вычитание величин »

Найдите лишнюю запись.

6200 – 2300

2 ч 30 мин + 15 мин

41 м 56 см + 23 м 75 см

12 ц 36 кг – 7 ц 78 кг



Найдите лишнюю запись.

$$6200 - 2300$$

$$2 \text{ ч } 30 \text{ мин} + 15 \text{ мин}$$

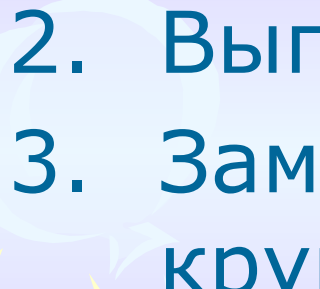

$$41 \text{ м } 56 \text{ см} + 23 \text{ м } 75 \text{ см}$$

$$12 \text{ ц } 36 \text{ кг} - 7 \text{ ц } 78 \text{ кг}$$





Алгоритм

1. Заменяю крупные единицы мелкими.
 2. Выполню действие столбиком.
 3. Заменяю мелкие единицы крупными.
- 
- 


$$40 \text{ дм } 5 \text{ см} + 3 \text{ м } 7 \text{ см} =$$

$$8 \text{ т } 96 \text{ кг} - 429 \text{ кг} =$$


$$5 \text{ км } 32 \text{ м} + 4 \text{ км } 756 \text{ м} =$$

$$6 \text{ ч } 32 \text{ мин} + 19 \text{ ч } 58 \text{ мин} =$$




Вставьте подходящие знаки.

$$a * 0 = a$$

$$a * a = 0$$

$$a * a = 1$$

$$0 * a = 0$$

$$1 * a = a$$

$$a * 1 = a$$

$$a * 0 = 0$$

$$0 * a = a$$




Вставьте подходящие знаки.

$$a \text{ + (-) } 0 = a$$

$$a \text{ - } a = 0$$

$$a \text{ : } a = 1$$

$$0 \text{ * } a = 0$$

$$1 \text{ * } a = a$$

$$a \text{ : } 1 = a$$

$$a \text{ * } 0 = 0$$

$$0 \text{ + } a = a$$

Д/З

В учебнике стр. 67 № 314

317

318

