

Тема урока: «Число и цифра 7»



Цели урока:

- Познакомиться с цифрой 7
- Научиться писать цифру 7



**7**

СЕМЬ



$6 + 1 = 7$

$7 - 1 = 6$



- 1** У тебя 7 семечек. Разложи их в две тарелочки разными способами. Составь по рисункам примеры.



- 2** Назови по порядку обозначения точек на прямой. Назови числа, написанные под ними. Сколько точек отмечено на прямой справа от точки Ё? Слева от точки Ё? Какие числа расположены между числами 1 и 7?



Какой буквой можно обозначить точку, следующую за точкой Ё, если считать слева направо? А следующую за ней точку?

- 3** Какими монетами можно заплатить 7 рублей, если у тебя такие монеты:





7

СЕМЬ



$$6 + 1 = 7$$

$$7 - 1 = 6$$





СЕМЬ

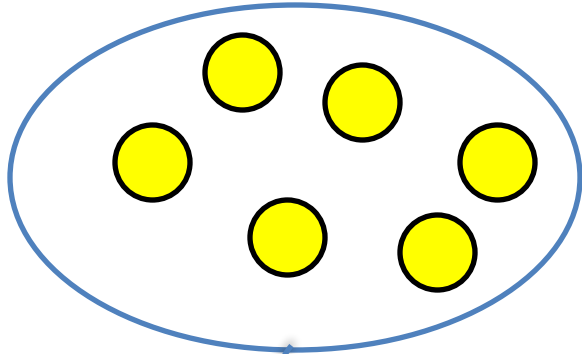
1 Обведи по стрелкам цифру 7 и раскрась её зелёным карандашом. На рисунке слева раскрась ещё одного козлёнка. Восстанови запись.



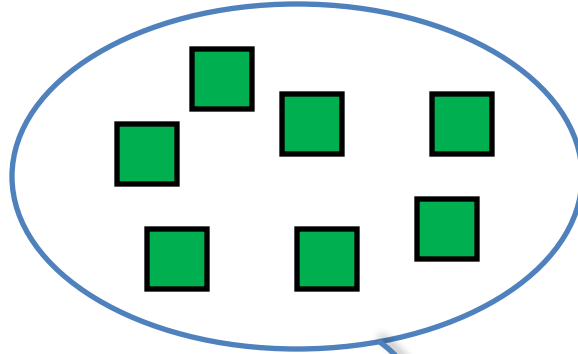
$$6 + \square = \square$$




Раскрась справа 7 цветочков.



6

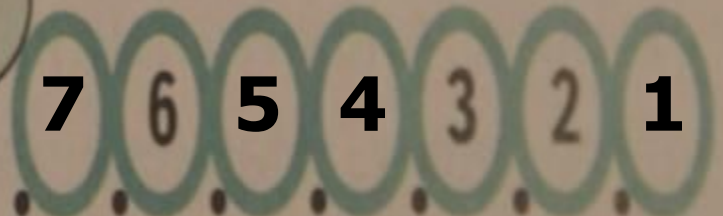
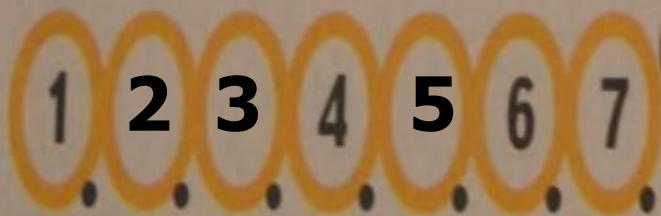


7




5



3 Допиши недостающие числа.




5 Сравни
записи.



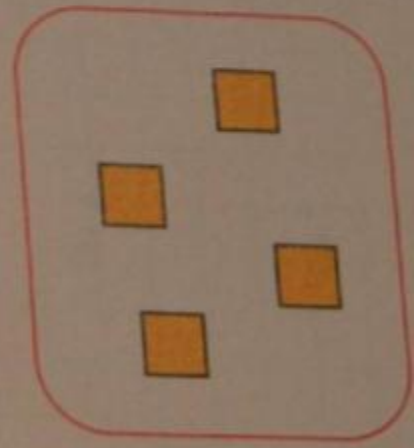

$$5 < 6$$



$$7 > 3$$



$$1 < 5$$



$$5 > 4$$