

# Решите задачу:

- Маша и Ваня пошли за грибами. Маша собрала 3 грибочка, а Ваня 4 грибочка. Сколько вместе собрали дети?

$$3+4=7 \text{ грибов}$$



# Решите задачу:

- Всего на поляне летало 8 бабочек.  
2 бабочки улетели. Сколько бабочек  
осталось на поляне?



$8-2=6$  бабочек



6

4

2



5


3

2

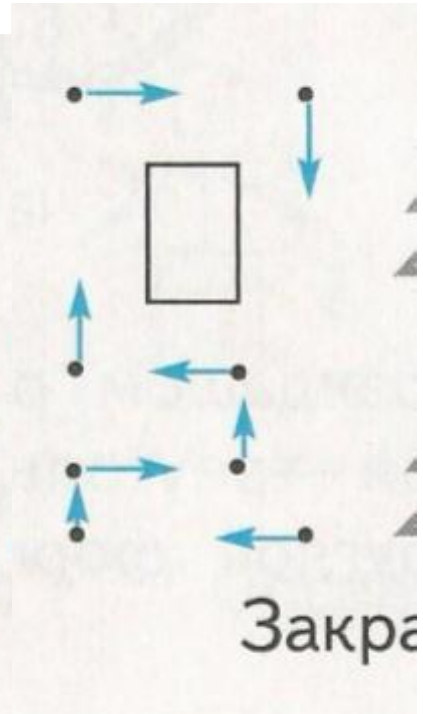
$$8 - 3 = 5$$

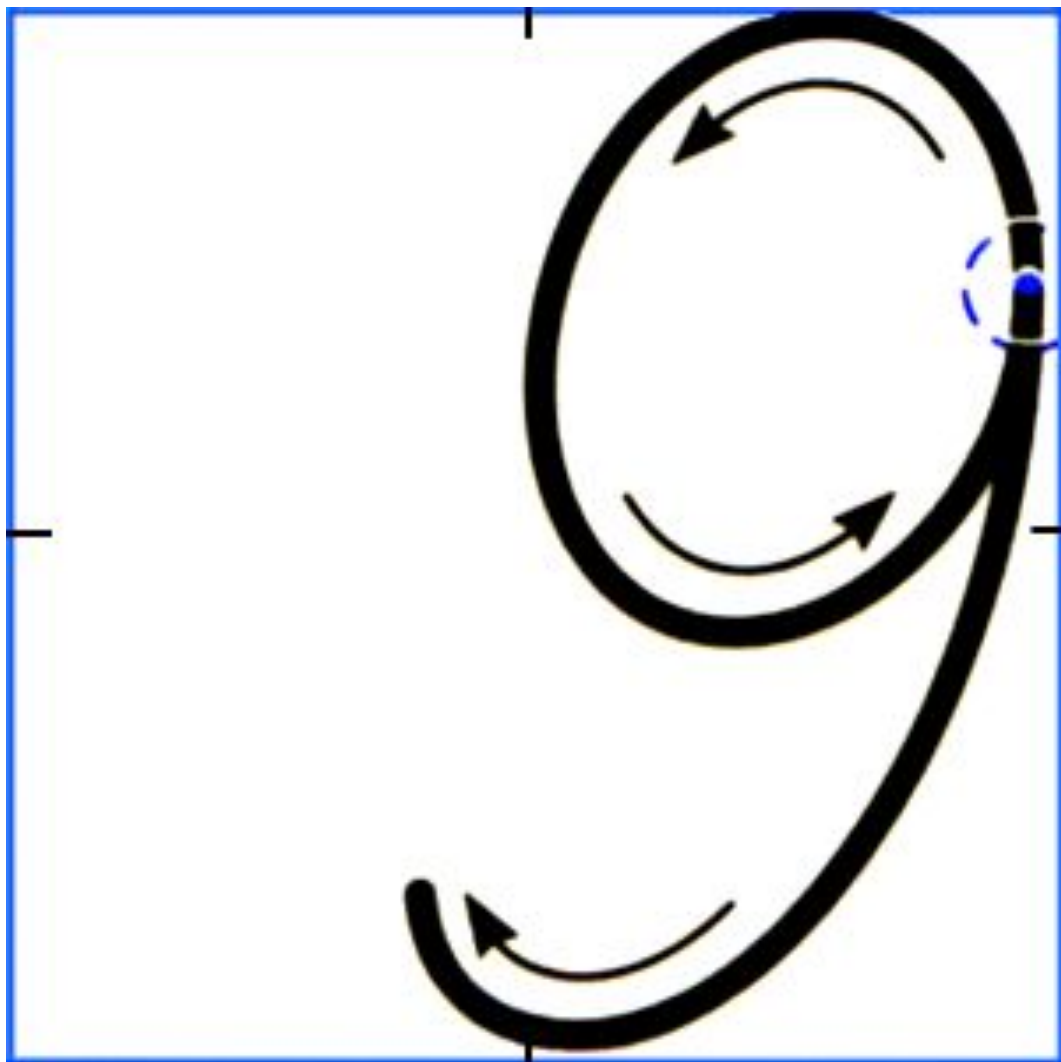
$$1 + 6 = 7$$

9









$$8 + \boxed{1} = \boxed{9}$$










2 Заполни пропуски, как показано на образце.



2 Заполни пропуски, как показано на образце.



3 Выполни сравнение по образцу.

Образец.

$$5 < 1 \ 2 \ 3 \ 4 \ 5 \ \textcircled{6} \ \textcircled{7} \ \textcircled{8} \ \textcircled{9}$$

$$8 > \textcircled{1} \ \textcircled{2} \ \textcircled{3} \ \textcircled{4} \ \textcircled{5} \ \textcircled{6} \ \textcircled{7} \ 8 \ 9$$

$$4 < 1 \ 2 \ 3 \ 4 \ 5 \ 6 \ 7 \ 8 \ 9$$

$$7 > 1 \ 2 \ 3 \ 4 \ 5 \ 6 \ 7 \ 8 \ 9$$

3 Выполни сравнение по образцу.

Образец.

$$5 < 1 \ 2 \ 3 \ 4 \ 5 \ 6 \ 7 \ 8 \ 9$$

$$8 > 1 \ 2 \ 3 \ 4 \ 5 \ 6 \ 7 \ 8 \ 9$$

$$4 < 1 \ 2 \ 3 \ 4 \ 5 \ 6 \ 7 \ 8 \ 9$$

$$7 > 1 \ 2 \ 3 \ 4 \ 5 \ 6 \ 7 \ 8 \ 9$$

9

