


# *Математика*



*4*

*класс*





*Найди «лишнее» в каждой  
столбике*

1. Длина

1. См

2. Вкус

2. Кг

3. Масса

3. Км

4. Площадь

4. Дм

5. Объем

5. Мм

# *Преобразуй*

$$2 \text{ км } 400 \text{ м} = \boxed{2400} \text{ м}$$

$$6 \text{ ч } 30 \text{ мин} = \boxed{390} \text{ мин}$$

# Сравни

8 ц  $\gg$  80 кг

17 кв. м  $\gg$  170 кв. дм



# *Вычисли*

$$125 \text{ см} - 105 \text{ см} = \boxed{20 \text{ см}}$$

$$29 \text{ кв. м} + 11 \text{ кв. м} = \boxed{40 \text{ кв. м}}$$

$$325 \text{ ч} - 273 \text{ см} = \boxed{?}$$

$$45 \text{ кг} + 5671 \text{ г} = \boxed{?}$$





**Цель:** *учусь складывать и вычитать величины, выраженные разными единицами.*

1. Какие величины можно складывать и вычитать?

2. Как складывать и вычитать величины с разными единицами измерения?



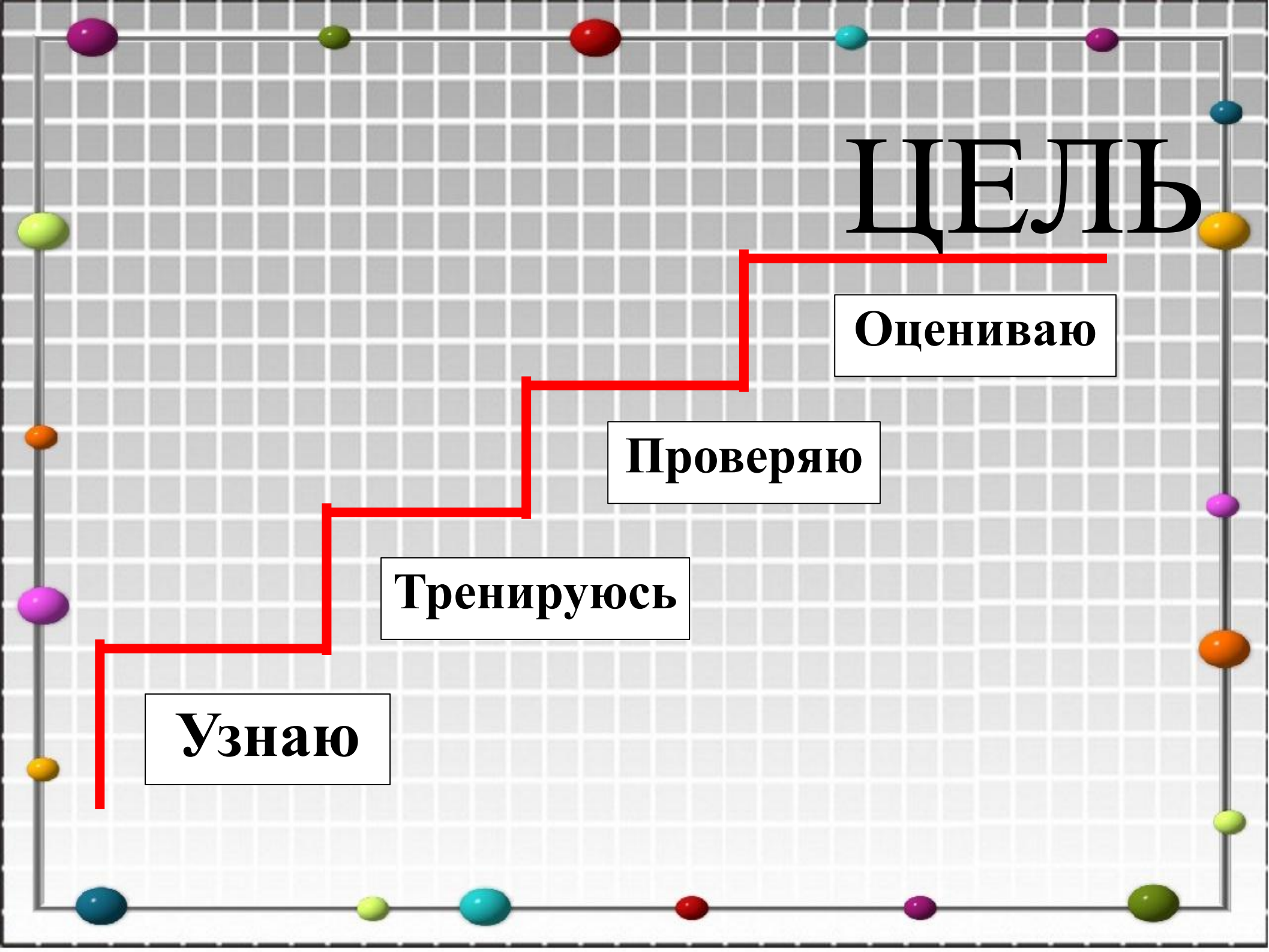
# ЦЕЛІЬ

Оцениваю

Проверяю

Тренируюсь

Узнаю



# Памятка

1. Складывать и вычитать можно только однородные величины.

2. Привести величины к одной единице измерения.

3. Выполнить действия с соответствующими числами.



**325 ч – 273 см - не имеет решения**

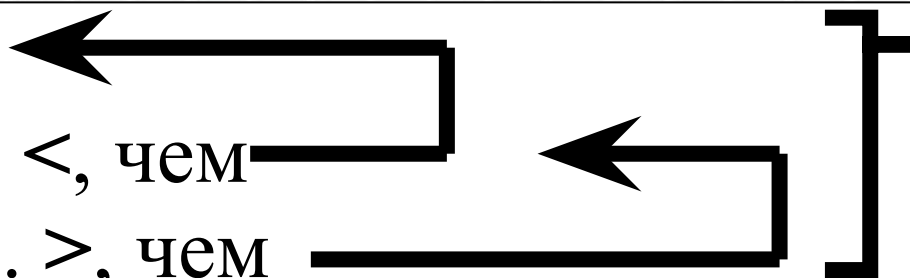
**45 кг + 5671 г = 50671 г**

$$\begin{array}{r} 45 \text{ кг} = 45000 \text{ г} \\ + \\ \underline{5671 \text{ г}} \\ 50671 \text{ г} \end{array}$$

1 п. – 50 т з.

2 п. - ? на 20 ц з. <, чем

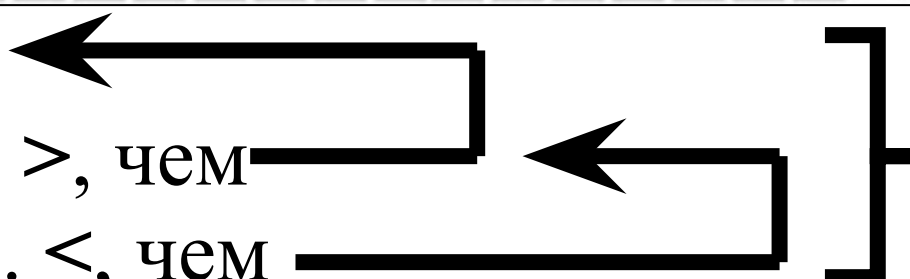
3 п. - ? на 45 ц з. >, чем



1 п. – 50 т з.

2 п. - ? на 20 ц з. >, чем

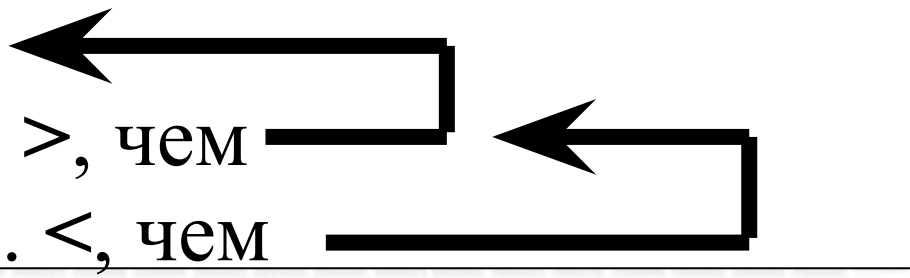
3 п. - ? на 45 ц з. <, чем



1 п. – 50 т з.

2 п. - ? на 20 ц з. >, чем

3 п. - ? на 45 ц з. <, чем





1 п. – 50 т з.

2 п. - ? на 20 ц з. <, чем

3 п. - ? на 45 ц з. >, чем

?

# Проверь себя

$$5 \text{ кв.м} + 7 \text{ кв. см} = 50007 \text{ кв. см}$$

$$5 \text{ кв. м} = 50000 \text{ кв. см}$$

$$50000 \text{ кв. см} + 7 \text{ кв. см} = 50007 \text{ кв. см}$$



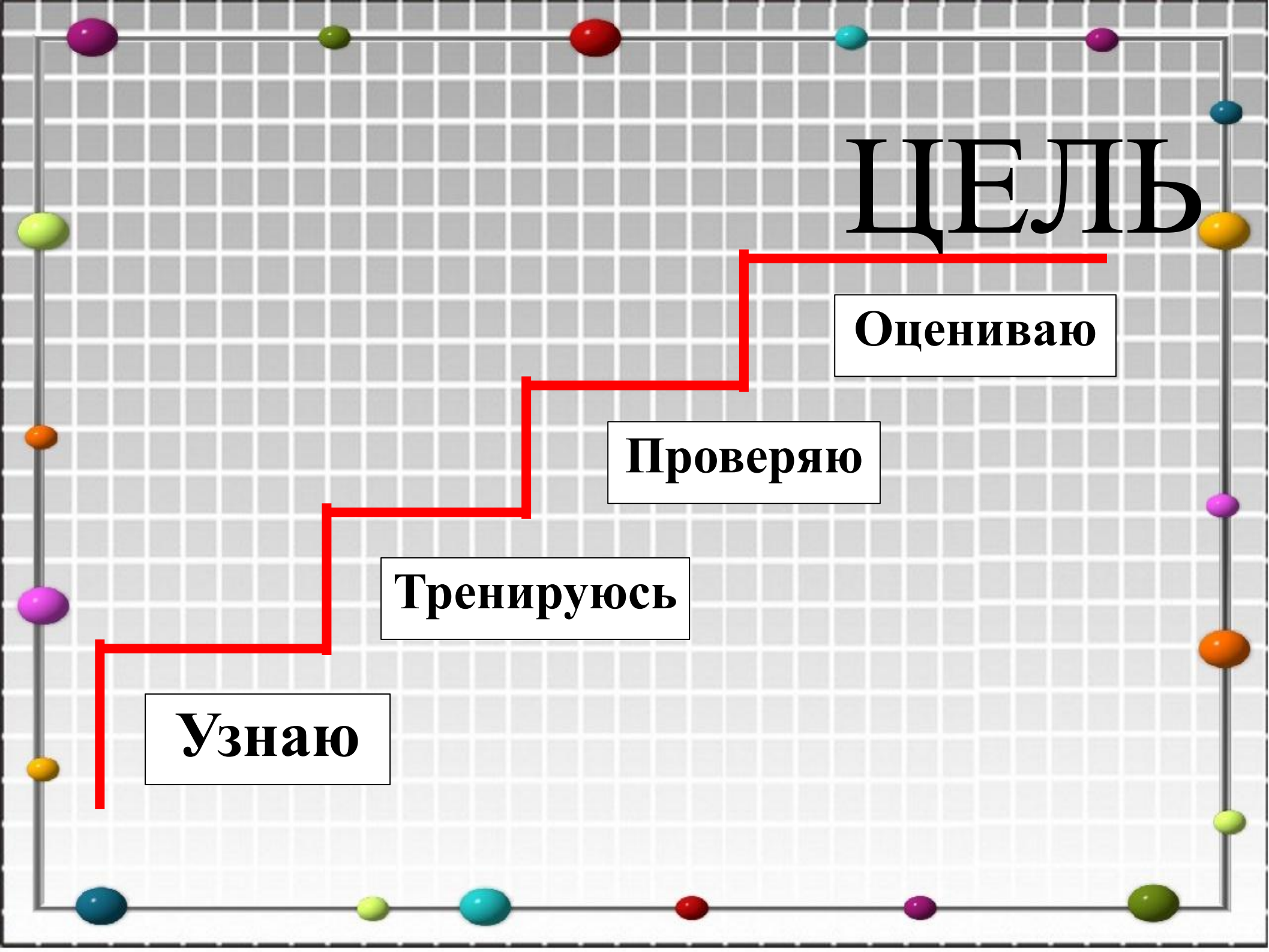
# ЦЕЛІЬ


Оцениваю

Проверяю

Тренируюсь

Узнаю







# *Домашнее задание*

Учебник: №64, №66, №67

Выберите два номера, которые  
будут вам по силам!