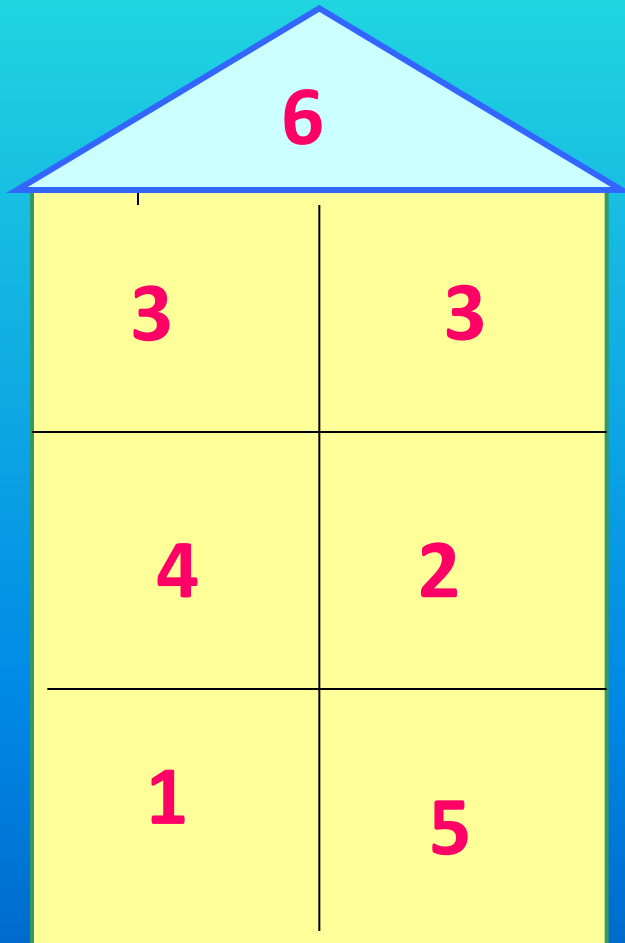
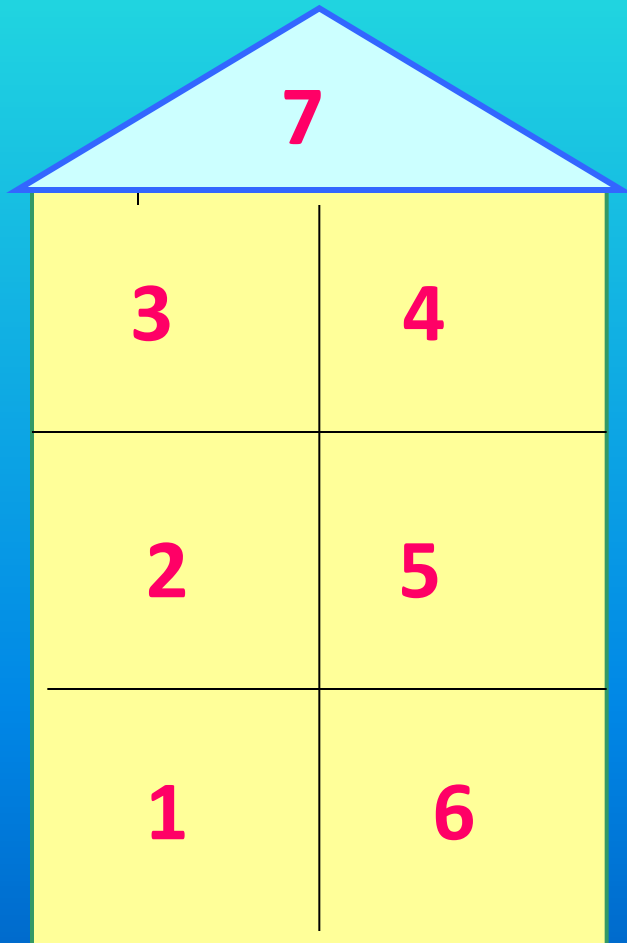


# "Заселяем домики."



# "Заселяем домики."



Прочитайте, используя слова:

слагаемое, сумма,

уменьшаемое, вычитаемое,

разность


$$2 + 4 = 6$$

$$6 - 5 = 1$$

$$7 - 2 = 5$$

$$4 + 3 = 7$$

Зайчиха дала зайчатам 6 морковок:  
старшему 4, а остальные - младшему.  
Сколько морковок получил младший зайчонок?



$$6 - 4 = 2(\text{м.})$$

Какие знаки и числа  
пропущены?



$$2 \text{ ☀ } \text{ ☀ } = 5$$

$$10 \text{ ☀ } \text{ ☀ } = 7$$

$$9 \text{ ☀ } \text{ ☀ } = 6$$

$$7 \text{ ☀ } \text{ ☀ } = 3$$

$$6 \text{ ☀ } \text{ ☀ } = 8$$

$$8 \text{ ☀ } \text{ ☀ } = 5$$

# Проверь себя!



$$2 + 3 = 5$$

$$10 - 3 = 7$$

$$9 - 3 = 6$$

$$7 - 4 = 3$$

$$6 + 2 = 8$$

$$8 - 3 = 5$$