



Выбери рисунок, которому соответствует данное выражение


$$2 \cdot 7$$



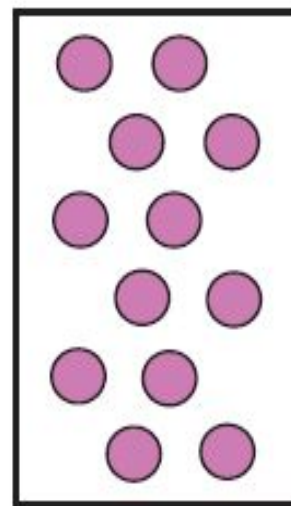
1



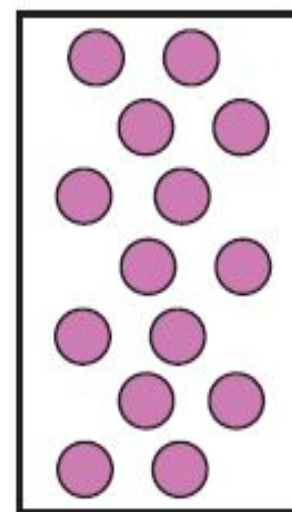
2



3



4




5

Квадрат

Ширина



длина



Выбери правильные утверждения

- 1.** *Любой квадрат – это прямоугольник.*
- 2.** *Любой прямоугольник – это квадрат.*
- 3.** *Любой четырёхугольник – это многоугольник.*

Ширина



длина

Квадрат

