




Учимся выполнять умножение 1 класс



Урок 37



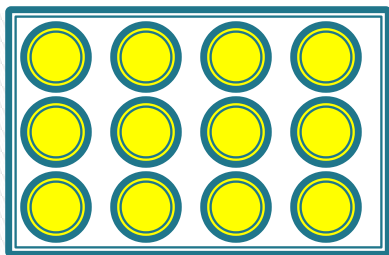
УМК «Начальная школа 21 века»

1. Сколько кубиков каждого цвета? Как сосчитать?



По  кубиков  раза – это 

2. Подберите карточку с фишками к каждому рисунку.



По фишки раза – это .

3. Объясни, как получено число.

$$10+3=13$$

$$10+5=15$$

$$10+7=17$$

$$10+2=12$$

10 и - это



4. Какие числа пропущены?

$$10 + \square = 12$$

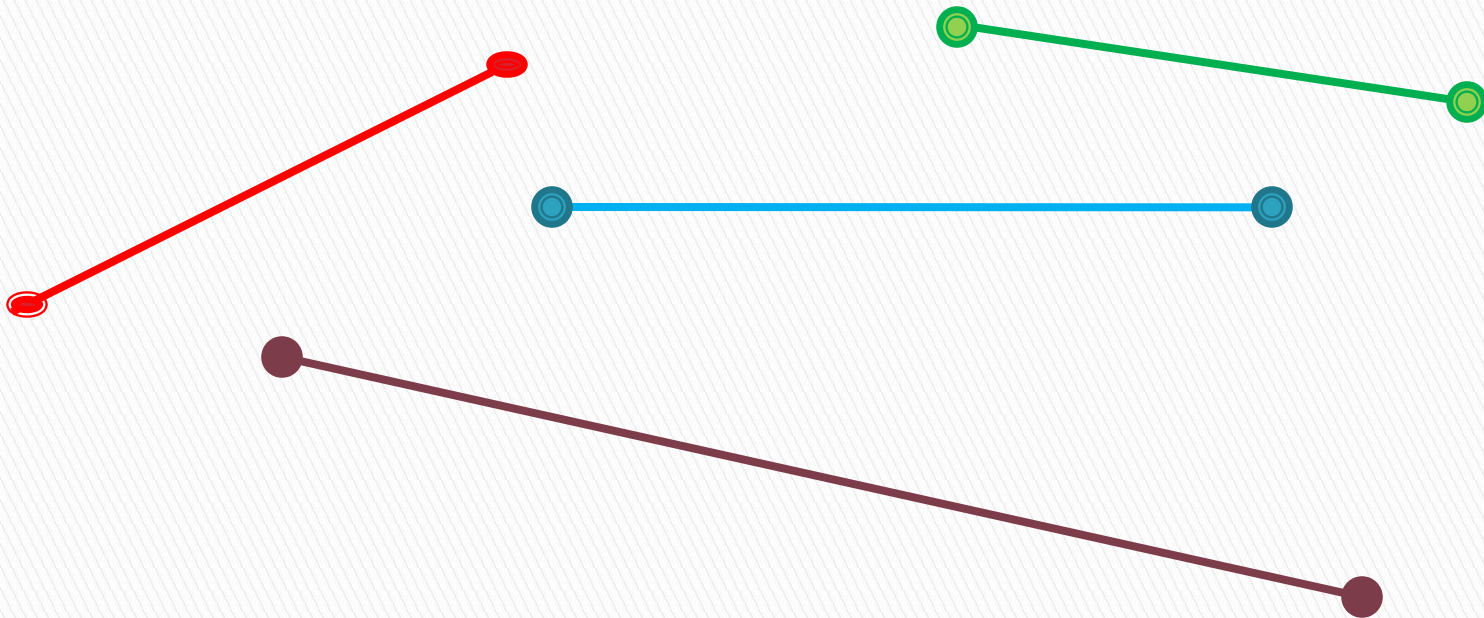
$$\square + 3 = 13$$

$$10 + \square = 15$$

$$\square + 9 = 19$$



5. Какой отрезок имеет длину 5 см ?



Какие отрезки имеют длину больше 6 см ?

МОЛОДЦЫ!!!

