







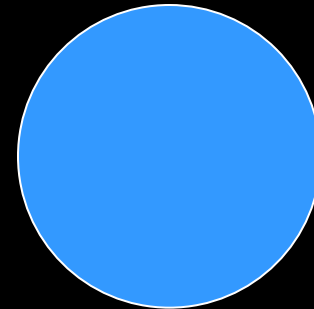

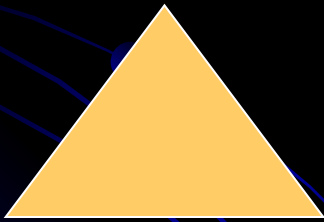




Мы выяснили куда идти, но уже темно и только летучая мышь поможет нам идти в темноте, если ты выполнишь её задания. Жми на мышь, что бы продолжить.





Каких знакомых животных вы видите на этом рисунке? Сколько всего на рисунке животных? Сколько лошадей, сколько собак? Кто нарисован первым справа? Которой по счёту будет корова, если считать слева на право? Которой по счёту будет лошадь если считать справа на лево?




Назовите на рисунке фигуры слева на право. Какая из них первая? Вторая? Последняя? Какая фигура находится между большим кругом и квадратом? Рядом с треугольником? Сколько на рисунке кругов? Сколько квадратов?



Рассмотри рисунок. Сколько кружков в первом слева квадрате?  
Во втором квадрате показано как записывают число 1. Это письменная цифра 1.  
Ты видел такую цифру, знаешь её? Где ещё ты встречал такую цифру?



Сколько здесь цветов? Поставлю ещё один цветок. Сколько всего цветков стало? Как получилось два цветка? На нижнем рисунке показано как пишется цифра 2.



2





Давай поиграем. Летучая мышь будет показывать предметы, а ты будешь говорить сколько их.



2 больше чем 1. 1 меньше чем 2.



$$2 >$$

$$1 < 2$$

1

