



# «Моя математика» 1 класс

Тема урока: «Угол. Прямой угол»



Выполнила: Кусманова Алия  
Шаумуратовна, учитель  
начальных классов МОУ  
СОШ № 85 Дзержинского  
района, г. Волгоград.

Громко прозвенел  
звонок.

Начинается урок.

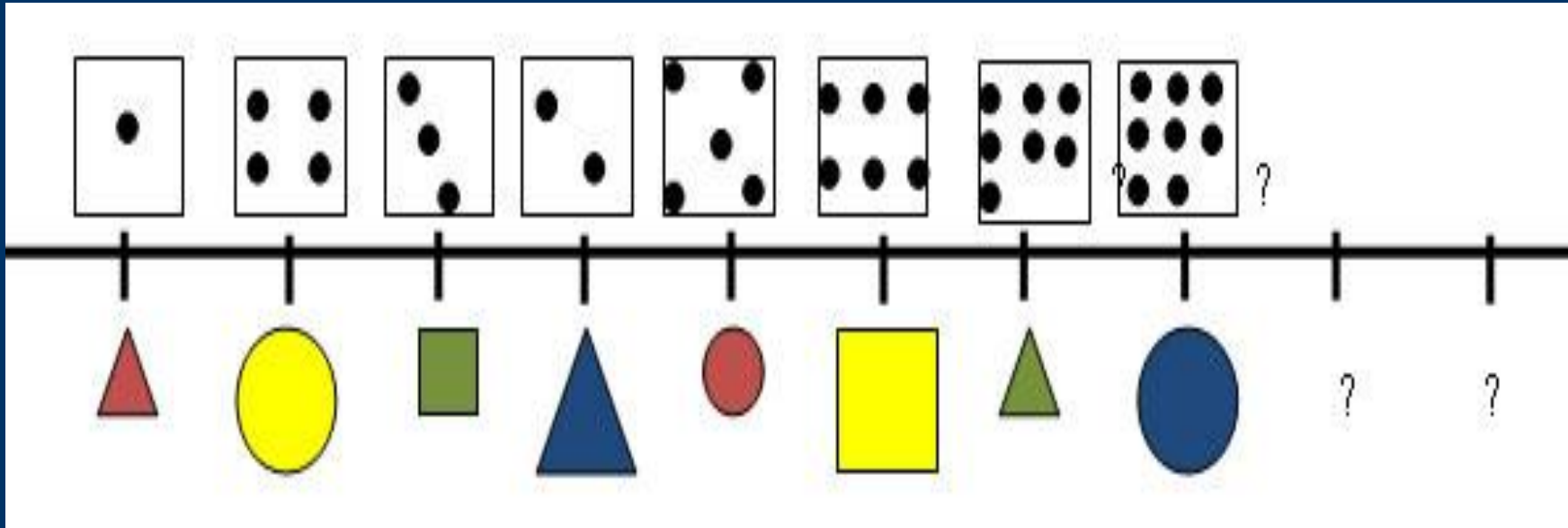
Наши ушки- на  
макушке,

Глазки широко  
открыты.

Слушаем,


запоминаем,

Ни минуты не теряем.




# Урок 27. Угол. Прямой угол

Угадайте фигуру.



## Урок 27. Угол. Прямой угол

1. Сколько лучей провел Петя из каждой точки?



? Как бы ты назвал фигуры на рисунке?


! Это – **углы**.

Точки – **вершины** углов. Лучи – **стороны** углов.

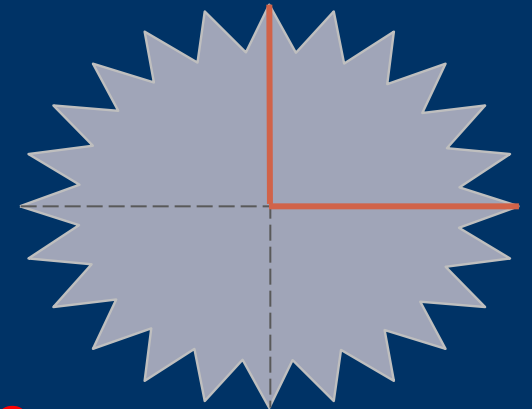


## Урок 27. Угол. Прямой угол

2. Катя сделала из листа бумаги модель угла. Сделайте похожую фигуру из листа бумаги.



• Разверни лист и обведи линии сгиба.



! Это – прямой угол.

? Можно ли сказать, что ваши углы равны?

3. Сравните свою модель с моделями других ребят.

# Физкультминутка

*У оленя дом большой,  
Он глядит в свое окошко.  
Зайка по лесу бежит,  
В дверь к нему стучится:  
Тук, тук, дверь открой,  
Там в лесу охотник злой!  
Зайка, зайка, забегай,  
Лапу мне давай.*

---

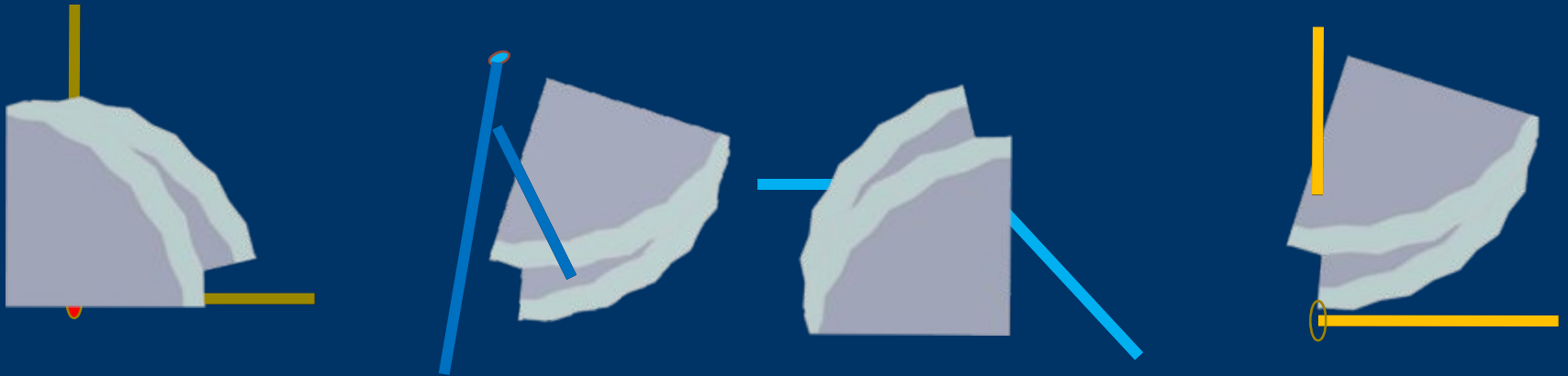
---

# Урок 27. Угол. Прямой угол

! Углы **равны**, если при наложении **их стороны** и **вершины совпадают**.

Все прямые углы **равны**.

4. Катя, Петя, Лена и Вова начертили углы. Кто из них начертил прямой угол?




**ПРОВЕРЬ!**

## Урок 27. Угол. Прямой угол

! Углы **равны**, если при наложении **их стороны** и **вершины совпадают**.

Все прямые углы **равны**.

4. Катя, Петя, Лена и Вова начертили углы. Кто из них начертил прямой угол?




К



Л

В



П





**3** Соедините точки на чертеже слева по порядку. Замокните ломаную. Начертите справа такую же фигуру, как та, что получилась на чертеже слева. Начинайте работать от •.



### 3.17

**1** Найдите закономерности и продолжите ряды.

1 1    2 1 1

1 4    2 3

**2** Обведите только прямые углы.

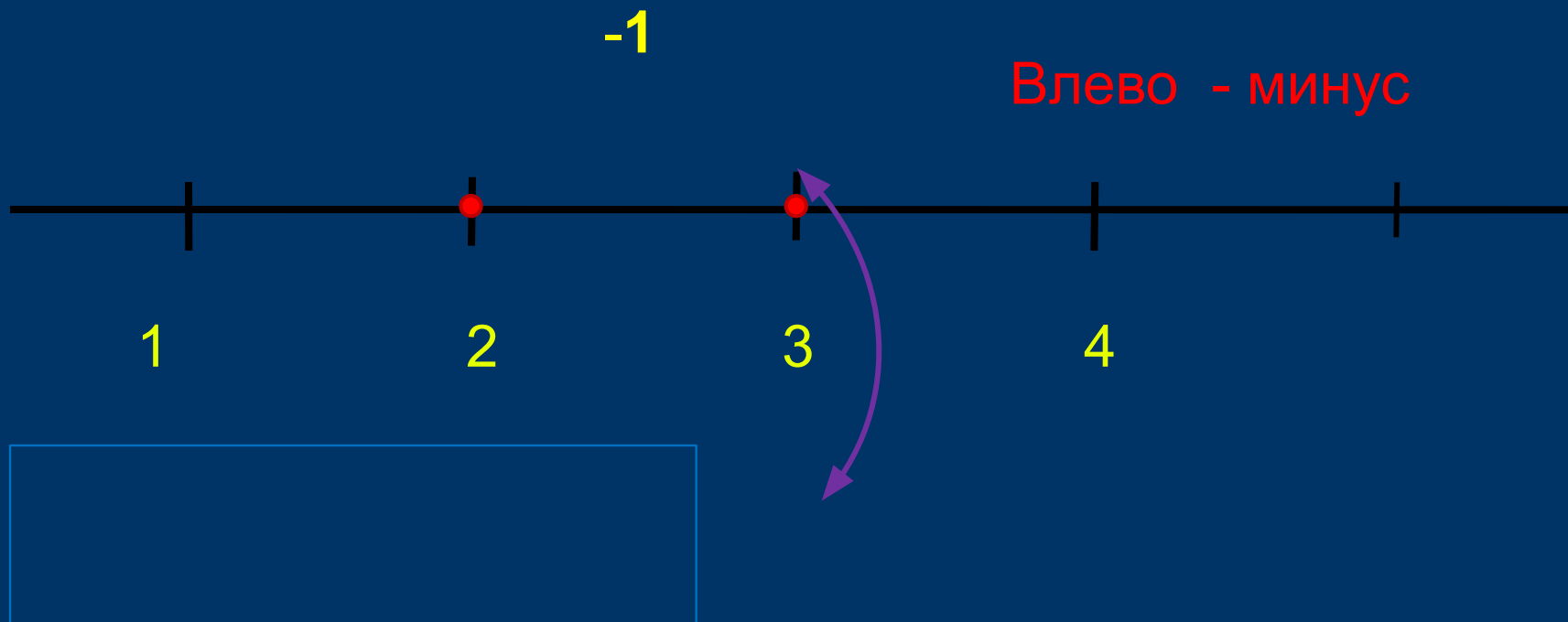


**3** Выполните задание 5 на странице 55 учебника.

**4** Выполните задание 6 на странице 55 учебника.

## Урок 27. Угол. Прямой угол

5. Выполни вместе с Катей, Петей, Леной и Вовой сложение и вычитание. Какие равенства у них получились?



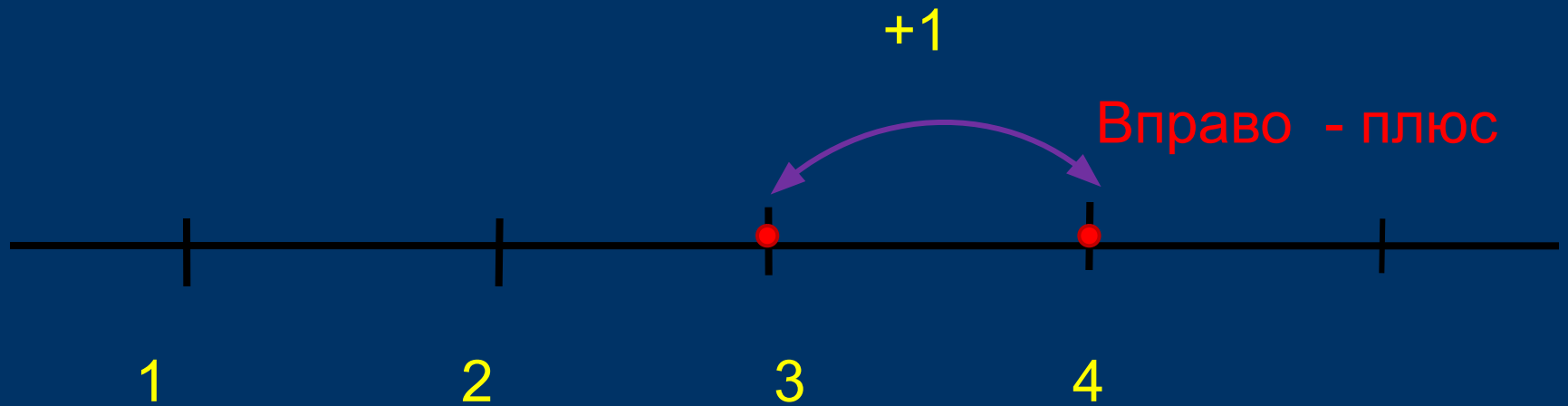
1   2   3   4   +   -   =

---

---

## Урок 27. Угол. Прямой угол

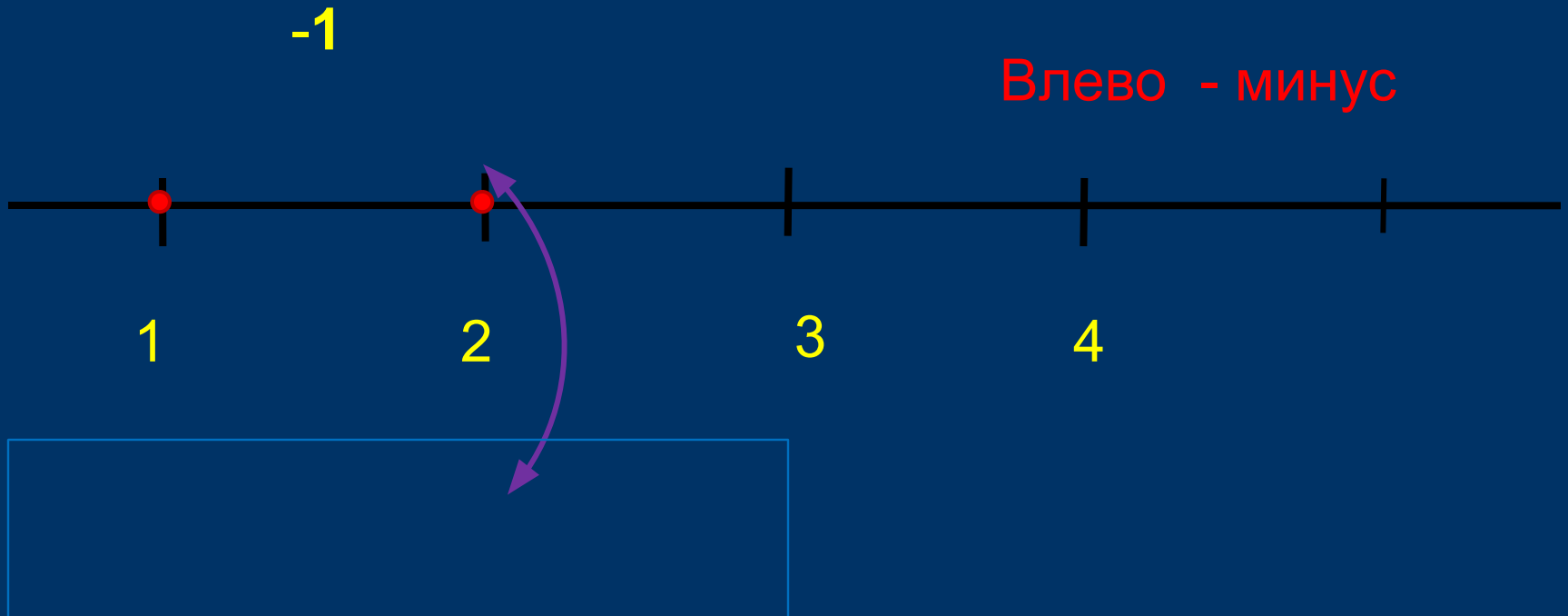
5. Выполни вместе с Катей, Петей, Леной и Вовой сложение и вычитание. Какие равенства у них получились?



1 2 3 4 + - =

## Урок 27. Угол. Прямой угол

5. Выполни вместе с Катей, Петей, Леной и Вовой сложение и вычитание. Какие равенства у них получились?



**Сегодня на уроке:**

**. Я узнал -**

**. Я научился-**

**. Я умею-**

**. Мне понравилось-**

**. Я смогу-**



*Спасибо за внимание!*

