

Уменьшаемое. Вычитаемое. Значение разности.

Урок математики в 1 классе.

Развивающая система Л. В. Занкова



*Автор: учитель начальных классов
МАОУ прогимназии «Центр детства»
Потанина Валентина Алексеевна*

МАТЕМАТИКА







КЛАСС

ЧАСТЬ 1

1 2 3 4 5

Какая из фигур лишняя?







Что можете сказать об этих рядах?

1 2 3 4 6 7 8 9 ...

1 2 3 4 5 6 7 8 9 ...






$$\begin{array}{r} 3+2 \\ =5 \end{array}$$


$$\begin{array}{r} 5-3 \\ =2 \end{array}$$

Первая группа

Сумма чисел




$$3+2=5$$



$$4+2=6$$

Вторая группа

?



$$4 - 1 = 3$$



$$5 - 3 = 2$$



Какие из данных равенств могут подойти к рисункам?

$$7 = 7$$

$$5 = 5$$

$$2 + 5 = 7$$

$$7 - 2 = 5$$

$$5 + 2 = 7$$

$$7 - 5 = 2$$

$$7 - 2 = 5$$

7 - 2 – **разность** чисел 7 и 2

5 – **значение разности**

$$7 - 2$$

уменьшаемое

вычитаемое

Проверь!

Девочки:

$1 + 3 = 4$

$5 - 2 = 3$

$5 + 2 = 7$

Мальчики:

$4 + 4 = 8$

$7 - 3 = 4$

$5 + 3 = 8$



Вы умники и умницы!



Используемые ресурсы

- <http://www.skychild.ru/it-n.ru/it-n.ru/Attachment.aspx?Id=31560>
- Учебник 1 класс (1 часть), автор А. Г. Ванцян
- http://sch79.mskzapad.ru/collective/pedagogical_collective/
- <http://www.free-lancers.net/users/Foxly/projects/102795/>
- Первые уроки. Математика. Автор Г. Шестакова. ООО «Стрекоза»