


«Умножаем числа»

урок 40


Учитель начальных классов
МБОУ «ООШ с. Ивановки»
МО «Енотаевский район»
Боброва И.В.

	$3+1$	
$5-3$		$5-2$
	$4-3$	

1. ¹ ² Сколько марок в одном ряду?
Сколько рядов?



Сколько всего марок?



2 и 2 и 2 — это 6.


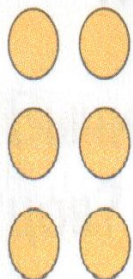
По 2 взять 3 раза — это 6.

$$2 \cdot 3 = 6$$

Прочитаем запись:


Два **умножить** на три получится шесть.

2. ¹ ² Сколько фишек? Как получить результат? Как проверить?






$$\boxed{2} \cdot \boxed{3} = \boxed{6}$$

$$\boxed{2} \cdot \boxed{} = \boxed{}$$



$$\boxed{} \cdot \boxed{} = \boxed{12}$$

3. ¹ ² Сколько пчёл, муравьёв, бабочек, стрекоз? Получите результат разными способами.



$$\square \cdot \square = \square$$