




**Тема:**

# «Умножение на 6. Деление на 6. Закрепление»

**3 класс**



Учитель начальных классов  
МБОУ «Усть-Камыштинской  
СОШ»:

Костякова Наталья

Васильевна



## Организационный момент

Громко прозвенел звонок -  
Начинается урок.

Наши ушки на макушке,  
Глазки широко открыты,  
Слушаем, запоминаем,  
Ни минуты не теряем.



# Загадка

Отгадайте-ка, ребятки,  
Месяц в этой вот загадке.  
Дни его всех дней короче,  
Всех ночей длиннее ночи.  
На поля и на луга  
До весны легли снега.



**Сегодня у нас очередной номер тиража  
«Русское лото».**

<b>6</b>	<b>10</b>	<b>30</b>	<b>48</b>	<b>72</b>
	<b>12</b>	<b>32</b>	<b>60</b>	<b>87</b>
<b>3</b>	<b>27</b>	<b>45</b>	<b>77</b>	
	<b>13</b>	<b>24</b>	<b>50</b>	
<b>8</b>	<b>17</b>	<b>35</b>	<b>55</b>	<b>80</b>
<b>2</b>	<b>28</b>	<b>42</b>	<b>63</b>	<b>90</b>



Увеличь 9 в 3 раза.

Увеличь 7 на 6.

Уменьши 24 в 3 раза.

Уменьши 32 на 4.

Найдите произведение чисел  
6 и 5.

Найдите частное чисел 18 и 6.

Найдите сумму чисел 8 и 9.

Найдите разность чисел 40 и 8.

На сколько 70 больше 10?

Во сколько раз 5 меньше 50?



# Таблица умножения на 6



Если второй множитель чётное число, то он указывает на цифру единиц в произведении.

Таблица умножения 6-ти богата поэтическими строчками:

« шестью четыре - двадцать четыре »,  
« шестью шесть - тридцать шесть »,  
« шестью восемь - сорок восемь ».

$$\begin{array}{l} 6 \cdot 2 = 12 \\ 6 \cdot 4 = 24 \\ 6 \cdot 6 = 36 \\ 6 \cdot 8 = 48 \end{array}$$

$$\begin{array}{l} 6 \cdot 4 = 24 \\ 6 \cdot 6 = 36 \\ 6 \cdot 8 = 48 \end{array}$$

$$\begin{array}{l} 6 \cdot 2 = 12 \\ 6 \cdot 3 = 18 \\ 6 \cdot 4 = 24 \\ 6 \cdot 5 = 30 \\ 6 \cdot 6 = 36 \\ 6 \cdot 7 = 42 \\ 6 \cdot 8 = 48 \\ 6 \cdot 9 = 54 \end{array}$$

сумма 66

Легко найти пары произведений с одинаковой суммой 66



# Задача

На 4 варезжках 20  
снежинок. Сколько  
снежинок на 6 таких  
варезжках?



# математическая

## зарядка

1) Кащей запер похищенную девушку в своем замке далеко, за тридевять земель. Три девять земель – это сколько?

2) А теперь сказка про Незнайку. Вот его задачка: крышка стола имеет 4 угла. 1 угол Незнайка отпил. Сколько углов осталось?

3) В поисках Царевны-Лягушки Иван-царевич обследовал 4 болота, в каждом из которых встретил по 10 лягушек. Сколько лягушек перецеловал Иван-







## Решите примеры

$$48:6+42$$

$$7x (12-4)$$

$$60+4x6$$

$$8x (25-20)$$

$$40-36:6$$

$$30: (15-9)$$



## Проверка

$$48:6+42=50$$

$$7x(12-4)=56$$

$$(25-20)=40$$

$$40-36:6=34$$

$$30:(15-9)=5$$

$$60+4x6=84$$

$$8x$$



5 34 40 50 56 84

Ё Л О Ч К А



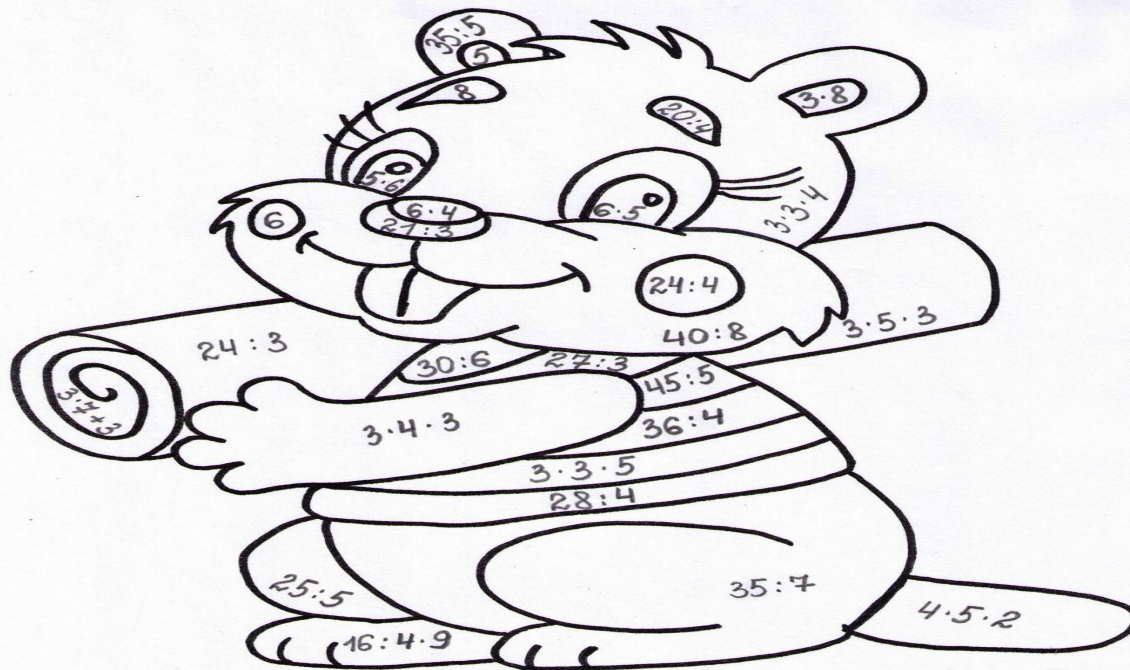


## Решите задачу

В 5 коробках – 15кг  
шоколадных конфет. Сколько  
коробок понадобится Деду  
Морозу, чтобы разложить 24кг  
шоколадных конфет?







- 5 - оранжевый
- 6 - малиновый
- 7 - фиолетовый
- 8 - жёлтый
- 9 - голубой
- 24 - розовый
- 30 - синий
- 36 - тёмно-коричневый


- 40 - серый
- 45 - салатовый





## На уроке мне:

Было всё понятно. Могу работать самостоятельно 

Было трудно. Могу работать с помощью учителя, родителей. Не уверен в своих силах 

Ничего не понял. Нужна помощь 

Было интересно 

Прибавилось знаний 



