


# Умножение десятичных дробей на натуральное число

5 класс



МОУ «Лицей» р.п. Земетчино

## Запишите пропущенный множитель

• А)  $1,234 * \underline{\hspace{2cm}} = 12,34$

• Б)  $0,0534 * \underline{\hspace{2cm}} = 53,4$


• В)  $0,78 * \underline{\hspace{2cm}} = 78$

• Г)  $80,9 * \underline{\hspace{2cm}} = 80900$



Определите по какому правилу записана последовательность чисел и продолжите ее, записав три следующих числа

- 0,0000005; 0,00005; 0,005; \_\_\_\_\_;  
\_\_\_\_\_;



Вычисли:

• А)  $1,6 * 3 =$

• Б)  $0,24 * 2 =$

• В)  $3 * 0,5 =$

• Г)  $2,5 * 4 =$

• Д)  $0,02 * 5 =$



Произведение чисел 135 и 33 равно 4445. Используя этот результат, найдите

- А)  $13,5 * 33 = \underline{\hspace{2cm}}$
- Б)  $0,135 * 33 = \underline{\hspace{2cm}}$
- В)  $135 * 3,3 = \underline{\hspace{2cm}}$
- Г)  $135 * 0,0033 = \underline{\hspace{2cm}}$



Найдите периметр и площадь прямоугольника со сторонами 3,5 см и 2 см.

- $P =$  \_\_\_\_\_

- $S =$  \_\_\_\_\_



Найдите объем прямоугольного параллелепипеда, измерения которого равны 2,5 см, 4 см и 2 см.


•  $V =$  \_\_\_\_\_

•  $S =$  \_\_\_\_\_



Какое расстояние пройдет пешеход за 2 часа, если его скорость 4,3 км/ч.

•  $S =$





Найдите число,  $\frac{1}{4}$  часть которого равна  
1,6.

